

7-8 КЛАСС

Время на выполнение заданий – 120 минут.

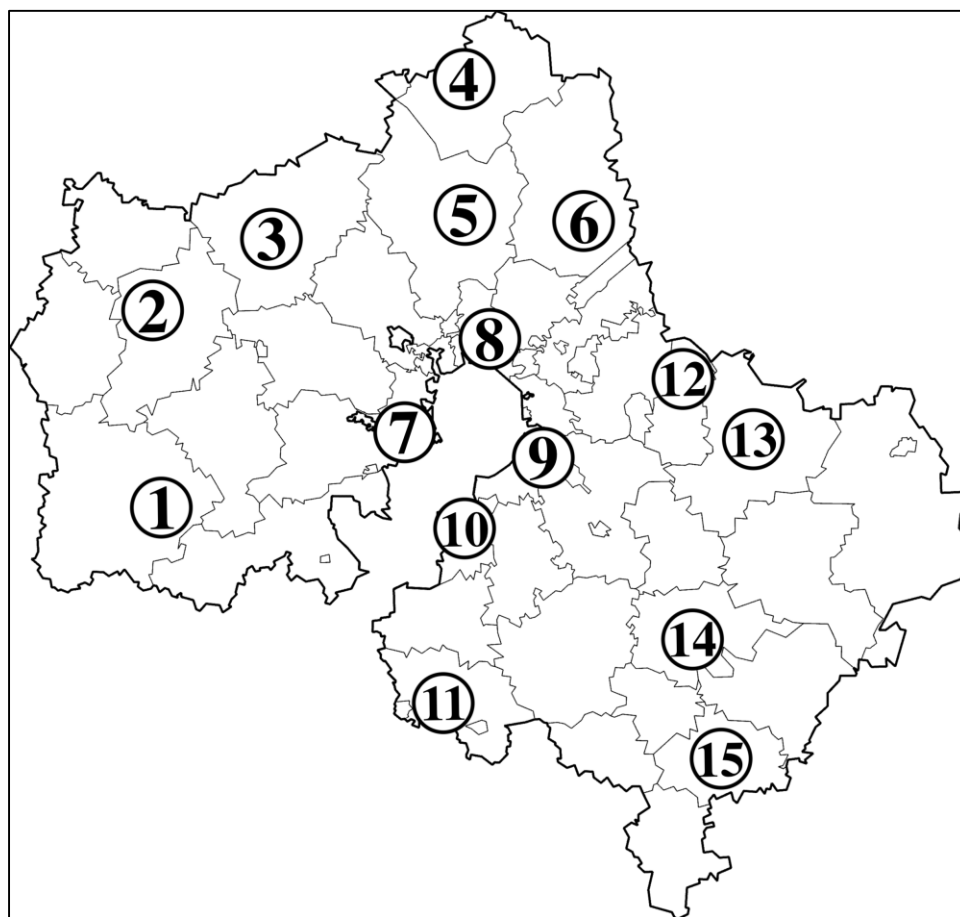
Обратите внимание, что жюри будет проверять только бланк ответов. Все ответы должны быть занесены туда.

Задание 1. [10 баллов]

Перед Вами карта границ современной Московской области, на которой отмечены некоторые города. В таблице ответа соотнесите названия городов с точками на карте (обратите внимание, что шесть точек – лишние).

В этой же таблице укажите, какие из этих городов: 1) были впервые упомянуты в летописи раньше Москвы; 2) входили в состав Московского княжества при Иване Калите; 3) были оккупированы в годы ВОВ. В соответствующих ячейках таблицы поставьте «+» или любой другой символ. Таким образом можно заполнить всего 10 ячеек. За каждый лишний символ баллы будут снижаться.

Обратите внимание: если город или поселение на его месте в тот или иной период носило отличное от современного название, его всё равно следует учитывать.



Задание 2. [7 баллов]

Перед Вами советские спичечные этикетки с изображениями предметов быта XVII–XVIII веков из собрания Оружейной палаты Московского Кремля. В таблице ответа соотнесите наименования этих предметов с их изображениями.




СПИЧКИ ГОСТ 1820-77 ЦЕНА 1 к.
ФАБРИКА „ИСКРА“ г. БЛАГОВЕЩЕНСК

1



СПИЧКИ ГОСТ 1820-77 ЦЕНА 1 к.
ФАБРИКА „ИСКРА“ г. БЛАГОВЕЩЕНСК

2



СПИЧКИ ГОСТ 1820-77 ЦЕНА 1 к.
ФАБРИКА „ИСКРА“ г. БЛАГОВЕЩЕНСК

3



СПИЧКИ ГОСТ 1820-77 ЦЕНА 1 к.
ФАБРИКА „ИСКРА“ г. БЛАГОВЕЩЕНСК

4



СПИЧКИ ГОСТ 1820-77 ЦЕНА 1 к.
ФАБРИКА „ИСКРА“ г. БЛАГОВЕЩЕНСК

5



СПИЧ. ФАБ. Г. ТУРНИСКОЕ 60 ШТ.
ГОСТ 1820-69. Ц. 1 к. 1973 г.

6



СПИЧ. ФАБ. Г. ТУРНИСКОЕ 60 ШТ.
ГОСТ 1820-69. Ц. 1 к. 1973 г.

7

Задание 3. [16 баллов]

Перед Вами прорисовки средневековых берестяных грамот, обнаруженных археологами при раскопках в Новгороде, Смоленске и Старой Руссе, и список их характеристик. В предложенной таблице соотнесите характеристики с изображениями грамот. Ответьте на вопрос о каждой грамоте в третьем столбце таблицы.

АМНТРА. ОРАФЕЕ. НВАНД. НАСТАНА.
АКОВА. ОВДОТВ. МНКТЯ. НВАНД. КОСТ.
АНА. ПАТЯКНА. ВАРВАРЪ. СЕРКМЕА. МА.
КСИМА. ФЕДОРЪ. МНХЕА. ОЗАРЕЕ.

БОРН СЛ. КОНОСТАСНН. КАКО. П
 РНАЕСА. ПРАМОТА. ТА. ТА. КО. ПРНШ
 ЛНМН. ЧОЛО. ФФ. ИБ. НОТК. ЕРЕМ. ЧФ
 ЗА. НЕ. МН. ДА. В. СЕ. А. Б. Л. Б. М. Н. О. Г. О. А. А
 ПРНШ. ЛН. СОРО. ЧН. Ц. Ю. СО. РЕ. Ч. Н. Ч. Ф. ЗА
 Б. Б. Л. Е.

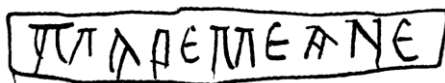

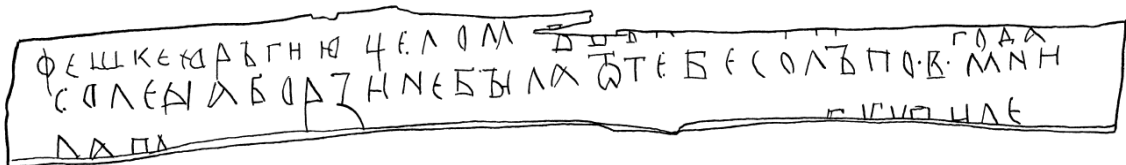

2

ГРАМОТА: Ш ТЗЖНЗНОМНРА: КЗМНКОУМЕ:
 КОУПНЛБЕСН. РОБ. ОУ. ПЛВ. КО. ВЕ. АН. Д. Н. Е. МА.
 В. Д. Т. О. М. З. А. Л. А. К. В. Н. А. Г. З. И. Н. Д. А. Н. З. И. Н. Е. С. А. Д. Р. О. У.
 Ж. Н. Н. А. П. О. М. А. П. О. Р. О. У. Ч. Н. Л. А. А. Н. З. И. Н. Е. К. А. П. О. С. З.
 Л. Н. К. З. Т. О. М. О. У. М. О. У. Ж. Е. В. И. Г. Р. А. М. О. Т. О. У. Е. Л. Н.
 О. У. Н. Е. Г. О. Р. О. Б. А. Д. С. Е. Т. Н. Х. О. Ч. О. У. К. О. Н. Е. И. С. О. У. П. Н.
 В. З. Н. И. К. З. Н. А. Ж. В. М. О. У. Ж. В. В. С. А. Д. Н. В. З. Т. А. Н. А. С. В.
 В. О. А. Д. А. Т. В. А. Т. Ф. Е. С. Н. Е. В. З. З. А. Л. Б. И. К. О. У. Н. В.
 Т. Е. Х. З. А. Н. Е. Е. М. Л. Н. Н. Ч. У. З. Т. О. Ж. Е. О. У. Н. Е. Г. О.

3

4Q
 АЩЕНА

4



Задание 4. [9 баллов]

Прочитайте фрагмент письма, опубликованного в 1862 году в газете «Северная почта». Впишите в таблицу пропущенные в нём слова (в именительном или оригинальном падеже). Ответьте на уточняющий вопрос к тексту.

«День 8 сентября, назначенный для открытия и освящения памятника..., есть день незабвенный в летописях нашего отечества. 8 сентября (1 – год) года Дмитрий (2 – прозвище)... одержал блистательную победу над татарами и положил тем начало низвержению монгольского ига, а следовательно, и возвышению (3 – город) над всеми городами русскими; [...]

Этот день начался в (4 – город) пятью пушечными выстрелами, возвестившими жителям о предстоящем торжестве. Народ хлынул в кремль. На площади, на которой возвышается монумент, были расставлены войска; близ монумента раскинута была палатка для Императорской Фамилии и для лиц, составляющих свиту Его Императорского Величества. До начала литургии Государь изволил объехать войска и затем, возвратившись в митрополичий дом (в котором изволил остановиться) вместе с Государынею Императрицею, Государем Наследником и прочими Членами Августейшего Семейства, в сопровождении ближайшей свиты, изволил отправиться в (5 – название) собор для слушания божественной литургии, которая началась в 11 часов. [...]

Вечером Его Императорское Величество изволил отправиться на (6 – название) Городище, которое находится при выходе (7 – река) из озера (8 – название озера). Народ встретил возлюбленного Монарха с невероятной радостью и восторгом: мы были свидетелями, как многие снимали с себя одежду и бросали ее под ноги Государю; как некоторые становились на колени, смотрели на Государя и крестились, называя Его ангелом небесным. От криков «ура!» дрожал, так сказать, воздух. [...]

Задание 5. [12 баллов]

Перед Вами ряд терминов из словаря старинных русских мер и пояснения к ним. Соотнесите каждый термин с пояснением и объясните этимологию термина (от какого слова/корня оно произошло).

Термины: *лукно, метавище, обоймо, онкия, поярок, рык.*

Пояснения:

1. Мера веса, составляющая 1/12 долю фунта, 8 золотников.
2. Мера расстояния; пространство, на котором слышно мычание коровы.
3. Народно-бытовая мера ёмкости для сыпучих и влажных продуктов.
4. Расстояние, на которое может пролететь брошенный камень.
5. Расстояние по кругу в народно-бытовой практике в обхват руками (при измерении деревьев, столбов и т. п.).
6. Шерсть первой стрижки с молодой овцы (как единица исчисления количества шерсти).

Задание 6. [12 баллов]

Перед Вами текстовые фрагменты, где речь идёт о четырёх известных башнях, которые находятся или находились на территории современной России. Ниже даны планы этих башен, а также факты о них. В таблице ответа укажите названия описываемых башен и соотнесите их с планами и фактами. Обратите внимание, что каждой башне соответствует два факта.

I. «На крутой горе, усыпанной низкими домиками, среди коих изредка лишь проглядывает широкая белая стена какого-нибудь боярского дома, возвышается четвероугольная, сизая, фантастическая громада – _____ башня. Она гордо взирает на окрестности, будто знает, что имя Петра начертано на её мшистом челе! Её мрачная физиономия, её гигантские размеры, её решительные формы, всё хранит отпечаток другого века, отпечаток той грозной власти, которой ничто не могло противиться»;

II. «Невидимка, двойник, пересмешник,

Что ты прячешься в чёрных кустах,
То забьёшься в дырявый скворечник,
То мелькнёшь на погибших крестах,
То кричишь из _____ башни:
«Я сегодня вернулась домой.

Полюбуйтесь, родимые пашни,
Что за это случилось со мной»;

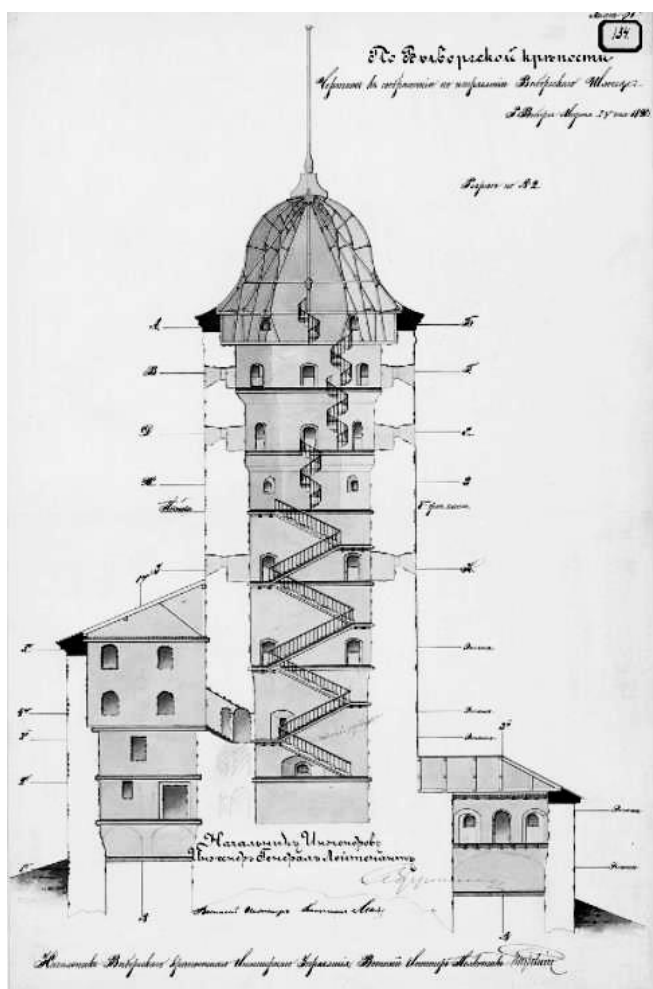
III. «...Какою-то знаменитою в давно прошедших веках красавицей, которая заперлась в ней от неотвязного своего обожателя, чухонского рыцаря. В одной из комнат башни и теперь еще можно видеть башмачок и баночку с зубным порошком, принадлежавшие сей финской красавице; но что не всякому можно проникнуть в эту комнату...»;

IV. «...Я предавался здесь славным воспоминаниям протекших событий и, видя пред собою Царев луг, Арское поле, Проломную, Булак, Тюменские и Муралеевы ворота, видя


перед собою чалмы Татарские, _____, развалины Едигеровых палат, Черемис, Мордву, – мечтал видеть наяву сие падение грозного Батыева Царства».

Факты:


1. Не сохранилась до наших дней;
2. Названа в честь жены правителя одного из ханств;
3. Прозвана в честь дочери польского магната;
4. В ней находилась школа морских и навигацких наук;
5. Находится на территории Московской области;
6. Находится в городе, финское название которого – Виипури;
7. Названа в честь короля Норвегии;
8. Город, где она находится, был взят Иваном IV в 1552 году.




А



Б



В



Г

Задание 7. [14 баллов]

Перед Вами семь рядов, в каждом из которых есть один лишний элемент. В таблице ответа для каждого ряда укажите объединяющий принцип, а также выберите лишний элемент. Обратите внимание: верно указанный лишний элемент будет засчитан лишь в том случае, если Вы верно определили объединяющий принцип.

1. Кончак, Котян, Тамерлан, Шарукан;
2. Вологда, Киев, Почаев, Сергиев Посад;
3. Зернь, скань, сумь, финифть;
4. Плюсский мир, Столбовский мир, Тязвинский мир, Ям-Запольский мир;
5. Китеж, Мангазея, Молога, Царёв-Борисов;
6. Мария Нагая, Мария Темрюковна, Марфа Борецкая, Марфа Собакина;
7. Ефимок, златник, корчага, полушка.