

**ВСЕРОССИЙСКАЯ ОЛИМПИАДА ШКОЛЬНИКОВ ПО ИСТОРИИ
МУНИЦИПАЛЬНЫЙ ЭТАП
2022–2023 УЧЕБНЫЙ ГОД**

8 КЛАСС

Задание 1. (3 балла)

Прочитайте отрывок из труда историка С. Ф. Платонова и ответьте на вопросы к нему.

«Раз [он] сблизился с «воровскими советниками» и казачеством, ему надлежало принять и все последствия этого сближения: считать всех «воров» и казаков борцами, достойными награды за свой патриотический подвиг. [Ему] представлялось, что лучшей наградой для зависимых «боярских людей», которыми тогда пополнилась «воровская» казачья сила, будет «воля и жалованье». [...] Но, если таковы были планы и надежды [его], он жестоко ошибся».

Задание 2. (4 балла)

Выберите из списка городов Московской области четыре города, которые уже существовали в XVII веке.

А. Балашиха
Б. Волоколамск
В. Дмитров
Г. Коломна

Д. Краснознаменск
Е. Можайск
Ж. Талдом
З. Шатура

Задание 3. (6 баллов)

Перед Вами перечень современных европейских народов. Распределите эти народы по трём группам – 1) западные славяне 2) южные славяне и 3) не славяне. Количество народов в каждой группе может быть любым.

А. болгары
Б. венгры
В. греки

Г. латыши
Д. литовцы
Е. поляки

Ж. румыны
З. сербы
И. словаки

К. словенцы
Л. хорваты
М. чехи

Задание 4. (6 баллов)

Перед Вами изображения, созданные в России в XVII–XVIII веках. Определите, какие факты из перечня (см. бланк ответов) относятся к тому или иному изображению.



ВЫПЪЖАЕТЪ СИЛЬНЫЙ ХРАБРЫЙ БОГАТЫРЬ ИЛЪЯ МУРОМЦЪ

1



2

Задание 5. (14 баллов)

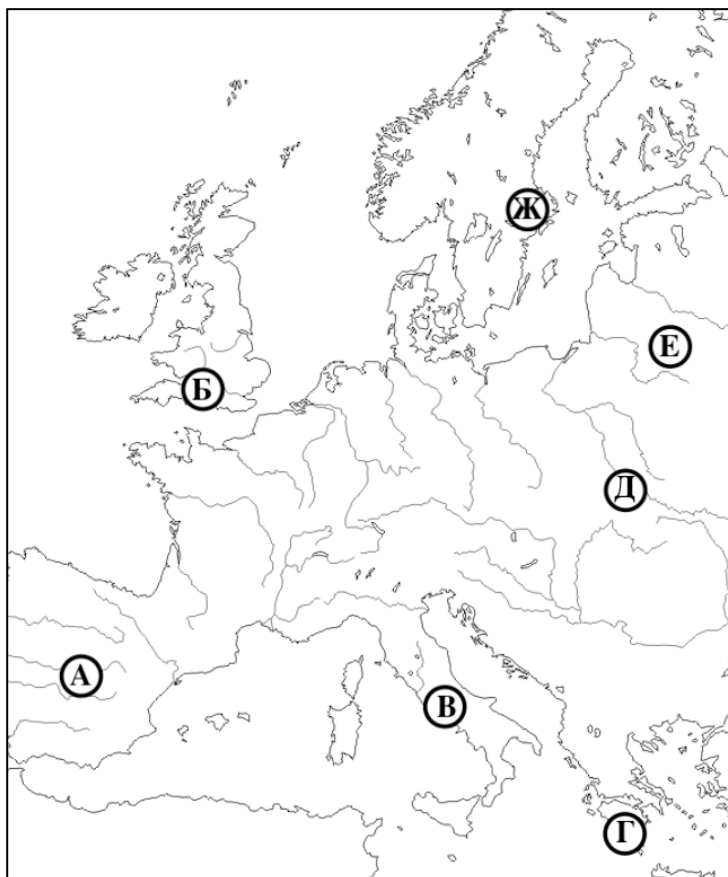
Перед Вами перечни знаменитых произведений зарубежной литературы. В таблице ответа приведены изображения, запечатлевшие знаковые события отечественной истории XII–XVIII веков. Соотнесите с каждым изображением литературное произведение, вышедшее в том же веке, к которому относится запечатлённое событие (века не повторяются). При этом укажите сам век.

1. «Божественная комедия» Данте Алигьери
2. «История моих бедствий» Пьера Абеляра
3. «Путешествия Гулливера» Джонатана Свифта
4. «Путешествия Марко Поло» Рустикелло из Пизы
5. «Ромео и Джульетта» Уильяма Шекспира
6. «Смерть Артура» Томаса Мэлори
7. «Тартюф» Мольера

Задание 6. (10 баллов)

Перед Вами имена женщин, оставивших заметный след в отечественной истории. Имена приведены на современных языках стран, откуда родом были их носительницы. Выберите на карте место рождения каждой из женщин. Обратите внимание, что на карте есть лишние точки. Укажите имя мужа каждой женщины.

- Sofija Vytaitė
- Maryna Mnischówna
- Gytha of Wessex
- Ingegerd Olofsdotter
- Ζωή Παλαιολογίνα



Задание 7. (8 баллов)

Истории как науке сопутствует целый ряд вспомогательных исторических дисциплин. Ниже даны изображения предметов, изучаемых такими дисциплинами. В таблице ответа заполните пропуски в названиях дисциплин и соотнесите их с соответствующими изображениями.



1



2



3



4


Задание 8. (7 баллов)

Перед Вами линейный кроссворд, в котором зашифрованы семь слов. Впишите эти слова в поле ответа, используя подсказки из приведённого ниже списка.


1. Имя древлянского князя, который сватался к княгине Ольге;
2. По преданию – мать одного из первых русских князей-Рюриковичей;
3. Знаменитый русский флотоводец, не проигравший ни одного сражения;
4. Партизанский командир времён Великой Отечественной войны;
5. Накануне начала Второй мировой войны СССР и Германия заключили ... о ненападении;
6. Этот город в Сибири был основан по распоряжению Бориса Годунова;
7. Этот город был основан при впадении в реку Иртыш одного из её притоков.

Задание 9. (13 баллов)

Перед Вами карта с отмеченными на ней городами, а также пять изображений, объединённых темой Великой Отечественной войны в судьбе разных городов Советского Союза. Укажите, с каким городом связано каждое изображение, и соотнесите название города с его местонахождением на карте. Обратите внимание – в таблице ответа нужно указать те названия городов, которые они носили в годы Великой Отечественной войны (если сегодня они называются иначе). Ответьте на три дополнительных вопроса о некоторых городах в задании.



1



2



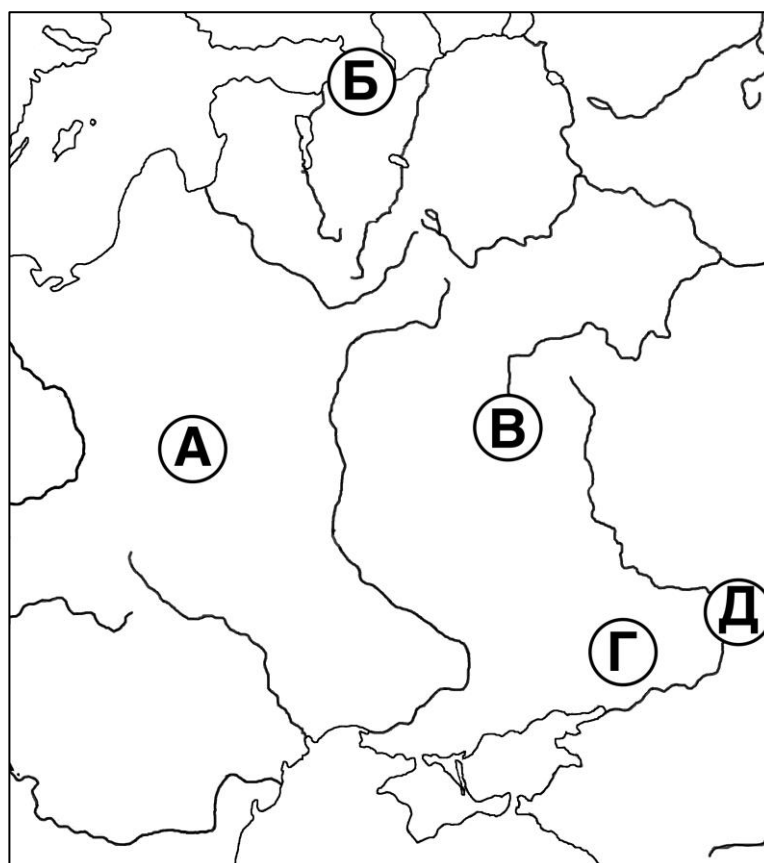
3



4



5




Задание 10. (12 баллов)

Перед Вами иллюстрации событий русской истории, на каждой из которых изображена смерть известного деятеля. В таблице ответа, где уже указаны годы событий, укажите имена умерших деятелей и соотнесите с ними соответствующие иллюстрации.




1




2



3



4




5

6



7



8

Задание 11. (7 баллов)

Многие профессиональные историки в своих исследованиях обращаются к архивным материалам. На территории Московской области находится целый ряд архивов общероссийского значения, в том числе Российский государственный архив кинофотодокументов в Красногорске и Центральный архив министерства обороны в Подольске. Перед Вами названия архивных фондов из собраний разных архивохранилищ России. В таблице ответа соотнесите каждый фонд с архивным учреждением, в котором он хранится.

- А. «Временная счётная комиссия при Адмиралтейств-коллегии, г. Петербург»
- Б. «Всесоюзный сельскохозяйственный банк СССР (Сельхозбанк). 1924–1959»
- В. «Императорская Академия художеств (С.-Петербург, 1757–1918)»
- Г. «Комитет министров (1802–1906)»
- Д. «Международный женский секретариат Коминтерна (МЖС) (1920–1935)»
- Е. «Судный приказ, г. Москва»
- Ж. «Штаб войск в Царстве Польском»

Задание 12. (10 баллов)

Определите принцип образования каждого ряда. Найдите и укажите один лишний элемент в каждом ряду.

1. Ипатьевская / Ирбитская / Лаврентьевская / Радзивилловская;
2. Батый / Мамай / Тохтамыш / Узбек;
3. Киноварь / охра / смальта / умбра;
4. Евдокия Лопухина / Марина Мнишек / Анна Монс / Марта Скавронская;
5. Нагасаки / Потсдам / Тегеран / Ялта.

ВРЕМЯ НА ВЫПОЛНЕНИЕ ЗАДАНИЙ – 120 МИНУТ.

МАКСИМУМ ЗА ЗАДАНИЯ – 100 БАЛЛОВ.

УДАЧИ!