

Задания заключительного этапа Подмосковной олимпиады школьников по географии
2025\2026 учебный год.

8 класс

1 правильный ответ на вопрос даёт 1 балл.

1. На карте изображены?

А) Гарига Б) Куэсты В) Нефелогилеи Г) Такары

2. Выберите лишнее.

А) Полонина Б) Джайляу (или джайлоо) В) яйла Г) Янка

3. Что это?

А) Импакт Б) Тафони В) Туйя Г) Чинк

4. Особая форма естественных водоёмов на севере Африки?

А) Гельта Б) Куэсты В) Уэды Г) Эрг

5. Полностью окружённый льдом скалистый пик, горный гребень или холм, выступающий над поверхностью ледникового покрова или горного ледника?

А) Гурий Б) Кекуры В) Кигиляхи Г) Нунатаки

6. Регион на высоте 3500—4000 метров над уровнем моря на западном и восточном склонах Анд. Его рельеф представляет собой высокогорные холмистые плато, узкие долины и склоны гор. Данный регион — верхний предел сельскохозяйственной деятельности.

А) Кечуа Б) Омагуа В) Суни Г) Рупа-Рупа

7. Выберите лишнее. А) Булгуннях Б) Себхи В) Пинго Г) Тебелер

8. Водораздельное слабо наклонное местоположение, характеризующееся глубоким залеганием грунтовых вод, отсутствием значительного смыва и намыва минеральных частиц; почвы и растительность на ХХХ имеют наиболее типичные зональные черты:

А) Елань Б) Лайды В) Лощина Г) Плакор

9. Выберите лишнее: А) Няша Б) Сало В) Снежура Г) Шуга

10. Назовите НЕ северный ветер: А) Мистраль Б) Трамонтана В) Чаллихо Г) Харматтан

11. Какой корабль не участвовал в экспедициях Джеймса Кука?

А) *Adventure* Б) *Endeavour* В) *Endurance* Г) *Resolution*

12. Какой архипелаг посетил Фернан Магеллан?

А) Зондский Б) Молуккский В) Марианский Г) Никобарский



13. Кто составил эту карту ойкумены?

А) Анаксимандр Б) Геродот В) Птолемя Г) Эратосфена

14. Во время какой по счёту экспедиции Колумб увидел берега Южной Америки?

А) Первая 1492–1493 Б) Вторая 1493–1496

В) Третья 1498–1500 Г) Четвертая 1502–1504

15. Назовите участника первого русского кругосветного плавания

А) Фёдор Головин Б) Михаил Лазарев В) Юрий Лисянский Г) Степан Макаров

16. Какое море названо в честь исследователя, не высаживавшегося в Антарктиде?

А) Море (Дюмон-)Дюрвиля Б) Море Моусона В) Море Рисер-Ларсена Г) Море Сомова

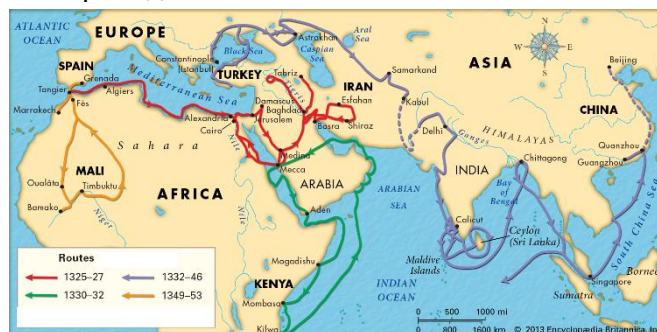
17. Карта путешествий какого исследователя приведена ниже?

А) Афанасий Никитин

Б) Джэн Хэ

В) Ибн Баттута

Г) Марко Поло



18. Что из нижеперечисленного не совершал Фёдор Конюхов?

А) Совершил одиночное кругосветное плавание на вёсельной лодке «Тургояк» через Тихий океан

Б) Спустился на дно Марианской впадины на глубоководном аппарате «Феникс»

В) Прошел на собачьих упряжках по маршруту «Северный полюс — Канада»

Г) Совершил восхождение на высочайшую вершину Антарктиды (массив Винсон) в рамках программы «Семь вершин».

19. Кто впервые дал название плато «Путорана»?

А) Борис Велькицкий Б) А.Ф. Миддендорф В) Д.Г. Мессешмидт Г) Н.Н. Урванцев

20. Один из нижеперечисленных путешественников изучал «другой» континент. Назовите его

А) Свен Андерс Гедин Б) Григорий Ефимович Грумм-Гржимайло

В) Пётр Кузьмич Козлов Г) Григорий Иванович Лангсдорф

21. Наиболее удалённой от материков остров

А) Буве Б) Пасхи В) Кергелен Г) Тристан-да-Кунья

22. Укажите наиболее южный остров: А) Амстаерадам Б) Кергелен В) Пингвин Г) Хёрд

23. Укажите наиболее северную территорию

А) остров Боигу Б) Ниуэ В) Токелау Г) острова Чатем

24. Укажите наиболее восточную группу островов.
А) Токелау Б) Тонга В) Туамоту Г) Тувалу
25. Назовите страну с самой «жаркой» столицей, по среднегодовой температуре
А) Джибути Б) Нигер В) Судан Г) Таиланд
26. Назовите столицу ближе всего расположенную к экватору.
А) Парагвай Б) Лаос В) Мали Г) Чад
27. Назовите страну с наиболее высокой столицей.
А) Бутан Б) Кения В) Таджикистан Г) Уганда
28. Укажите город, который стал столицей позже остальных.
А) Браззавиль Б) Нгерулмуд В) Нейпидо Г) Сьюдад-де-ла-Пас
29. Столица какой страны не имеет выхода к морю?
А) Греция Б) Индия В) Панама Г) Перу
30. В какой стране столица является крупнейшим по численности населения городом?
А) Белиз Б) Бенин В) Босния и Герцеговина Г) Бурунди
31. Кто из нижеперечисленных животных является эндемиком Австралии.
А) Горал Б) Намбат В) Нильгау Г) Сурикат
32. Кто из нижеперечисленных животных обитает в Африке?
А) Зубр Б) Ремнезуб В) Трубказуб Г) Ядозуб
33. Кто из нижеперечисленных обитает в Северной Америке
А) Аддакс Б) Бушбок В) Вилорог Г) Канна
34. Какой вид кошек обитают в дикой природе Южной Америки?
А) Барханная кошка Б) Длиннохвостая кошка В) Камышовая кошка Г) Черноногая кошка
35. Густой пойменный лиственный или таёжный лес?
А) Дресва Б) Лещадь В) Суходол Г) Урёма
36. Воздушно-водные укореняющиеся травянистые растения, вегетативное тело которых находится как в воде, так и над её поверхностью
А) Гелофиты Б) Ксеноморфы В) Гидрофиты Г) Мезофиты
37. Типичными представителями дендрофлоры Австралии является
А) Баобаб Б) Бертолетия В) Казуарина Г) Тсуга
38. Знаменитые цветы Раффлезии Арнольда можно встретить в дикой природе какого острова?
А) Куба Б) Мадагаскар В) Суматра Г) Хёрд
39. Укажите растение родом из Америки:
А) Айва Б) Батат В) Дыня Г) Фисташка

40. Назовите страну, занимающую ВТОРОЕ место в мире по поголовью крупного рогатого скота
- А) Аргентина Б) Бразилия В) Индия Г) США
41. Назовите страну, занимающую ВТОРОЕ место в мире по поголовью свиней.
- А) Индонезия Б) Индия В) Китай Г) США
42. Назовите страну, занимающую ВТОРОЕ место в мире по поголовью овец.
- А) Австралия Б) Индия В) Китай Г) США
43. Назовите страну, занимающую ВТОРОЕ место в мире по поголовью коз.
- А) Индия Б) Китай В) Пакистан Г) Нигерия
44. Назовите страну, занимающую первое место в мире по поголовью лошадей.
- А) Казахстан Б) Китай В) Монголия Г) США
45. Назовите страну лидера по сбору пшеницы.
- А) Индия Б) Китай В) Россия Г) США
46. Назовите страну лидера по сбору бананов.
- А) Бразилия Б) Индия В) Индонезия Г) Китай
47. Назовите страну лидера по сбору ячменя.
- А) Индия Б) Китай В) Россия Г) США
48. Назовите страну лидера по сбору апельсинов?
- А) Бразилия Б) Испания В) Китай Г) США
49. Назовите страну лидера по сбору чая?
- А) Бразилия Б) Индия В) Китай Г) Шри-Ланка
50. Назовите страну лидера по сбору чёрного перца?
- А) Бразилия Б) Вьетнам В) Индия Г) Китай
51. Что контролирует Индия?
- А) Аксайчин Б) Вахш В) Гилгит-Балтистан Г) Ладакх
52. Назовите историко-культурную область, находящуюся в пределах одной страны
- А) Бадахшан Б) Белуджистан В) Неджд Г) Фергана
53. Какие две историко-культурные области находятся в одной стране
- А) Буковина и Кашубия Б) Гасконь и Галиция В) Ла-Манча и Ломбардия Г) Триполитания и Киренаика
54. Выберите историко-культурную область, находящуюся на территории «другой» страны.
- А) Анхальт Б) Пруссия В) Саксония Г) Франкония
55. Какие линии исторически появились на картах раньше?
- А) Изобаты Б) Изогипсы В) Изогоны Г) Изотермы

56. Изолинии одинаковых мощностей пласта горных пород?

А) Изогоны Б) Изопахы В) Изоплеты Г) Изофены

57. Линии, проходящие на географической карте через точки, в которых в один и тот же момент был услышан удар грома

А) Изобронты Б) Изогоны В) Изохины Г) Изохроны

58. Изолинии плотности?

А) Изоденсы Б) Изотахи В) Изохоры Г) Изофазы

59. Выберите лишнее

А) Изоанты Б) Изоатмы В) Изогииеты Г) Изогоны

60. Что изображено на карте?

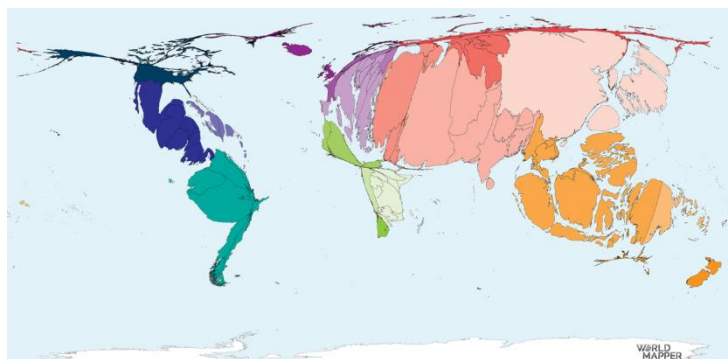
А) молибденовые залежи
индейские резервации
современный ареал бизона
современный ареал секвойядендрона гигантского



Б)
В)
Г)

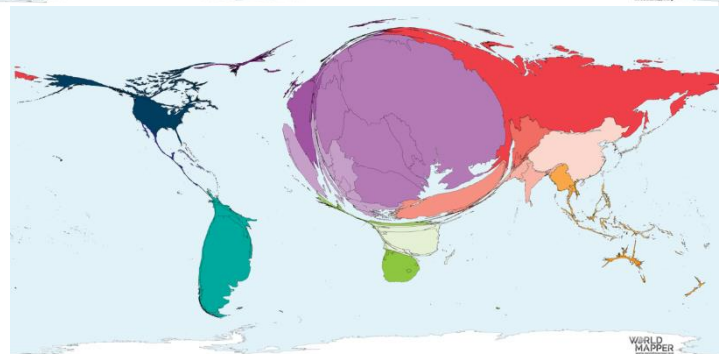
61. Что легло в основу карты-анаморфозы?

А) количество вертолётов
Б) количество землетрясений
В) сбор винограда
Г) количество умышленных убийств



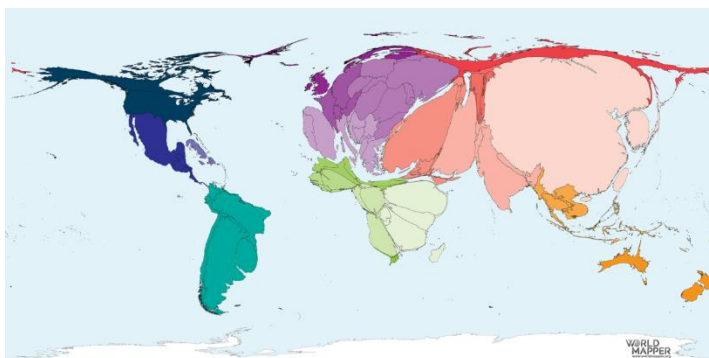
62. Что легло в основу карты-анаморфозы?

А) сбор киноа
Б) сбор подсолнечника
В) сбор оливок
Г) сбор цветов



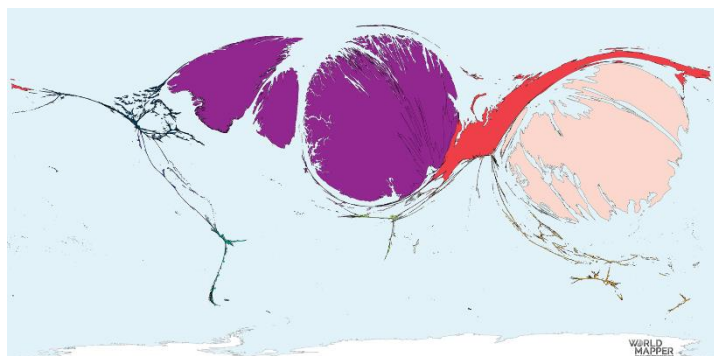
63. Что легло в основу карты-анаморфозы?

- А) абсолютная бедность
- Б) восприятие коррупции
- В) сбор мёда
- Г) производство шёлка



64. Что легло в основу карты-анаморфозы?

- А) вылов китов
- Б) погибшие в военных конфликтах
- В) умершие от эболы
- Г) поголовье кроликов



65. Назовите страну, а которой насчитывается наибольшее количество шедевров устного и нематериального культурного наследия Человечества?

- А) Индия Б) Китай В) США Г) Япония

66. В список шедевров устного и нематериального культурного наследия Человечества ЮНЕСКО от НАИБОЛЬШЕГО ЧИСЛА СТРАН входит:

- А) Лаваш Б) Средиземноморская диета В) Соколина охота Г) Навруз

67. Тикаль – объект Всемирного наследия какой страны?

- А) Армения Б) Гватемала В) Мексика Г) Филиппины

68. В какой Африканской стране меньше объектов Всемирного наследия ЮНЕСКО?

- А) ДР Конго Б) Марокко В) Эфиопия Г) ЮАР

69. Объект Всемирного наследия дорожная сеть Кхапак-Ньян расположен на территории:

- А) Андских стран Б) Магриба В) Мезоамерике Г) Месопотамии

70. Кто из нижеперечисленных геополитик впервые озвучил концепцию «Хартленда»?

- А) З. Бжезинский Б) Х. Дж. Маккиндером В) А.Т. Мэхэн Г) К. Хаусхоффер

71. В какой стране глава государства находится у власти дольше всего?

- А) Беларусь Б) Бруней В) Камерун Г) Экваториальная Гвинея

72. Сколько африканских государств получили независимость в 1960 году, прозванном «Годом Африки»? А) 7 Б) 17 В) 27 Г) 37

73. Какое государство обрело независимость раньше остальных?

- А) Бангладеш Б) Израиль В) Ирландия Г) Папуа – Новая Гвинея

74. Самая протяжённая государственная граница в мире?
А) Аргентина - Чили Б) Канада - США В) Китай - Россия Г) Россия - Казахстан
75. К центрам сельскохозяйственного машиностроения России не относится:
А) Брянск Б) Волгоград В) Санкт-Петербург Г) Чебоксары
76. К центрам автомобилестроения России не относится:
А) Ижевск Б) Калининград В) Москва Г) Челябинск
77. К центрам авиастроения России не относится:
А) Екатеринбург Б) Комсомольск-на-Амуре В) Санкт-Петербург Г) Ульяновск
78. К центрам судостроения России не относится:
А) Выборг Б) Калининград В) Самара Г) Светлогорск
79. К центрам железнодорожного машиностроения России не относится:
А) Демихово Б) Коломна В) Люберцы Г) Мытищи
80. Назовите страну лидера по добыче бокситов.
А) Бразилия Б) Гвинея В) Китай Г) Россия
81. Назовите страну лидера по запасам железной руды.
А) Австралия Б) Бразилия В) Китай Г) Россия
82. Назовите страну лидера по выплавке меди.
А) ДР Конго Б) Китай В) Россия Г) Чили
83. Назовите страну лидера по добыче вольфрама.
А) Индонезия Б) ДР Конго В) Китай Г) Чили
84. Назовите страну лидера по добыче марганца.
А) Австралия Б) Китай В) США Г) ЮАР
85. Сколько собрали зерновых и зернобобовых в России в 2025 году?
А) 1,4 млн тонн Б) 14 млн. тонн В) 141 млн. тонн Г) 1,41 млрд. тонн
86. Назовите субъект Российской Федерации лидер по сбору ржи.
А) Башкортостан Б) Оренбургская область В) Кировская область Г) Татарстан
87. Назовите субъект Российской Федерации лидер по сбору овса.
А) Алтайский край Б) Башкортостан В) Красноярский край Г) Тюменская область
88. Назовите субъект Российской Федерации лидер по поголовью свиней.
А) Алтайский край Б) Белгородская область В) Дагестан Г) Псковская область
89. Назовите субъект Российской Федерации лидер по производству МЯСА
А) Белгородская область Б) Брянская область В) Воронежская область Г) Татарстан
90. В какой стране находится самый длинный рукотворный тоннель?
А) Китай Б) Россия В) США Г) Швейцария

91. Через какой пролив прошёл наименьший поток грузов в 2025 году?

- А) Баб-эль-Мандебский Б) Гибралтарский В) Дрейка Г) Малаккский

92. Самый длинный мост в мире?

- А) Магистраль Банг На Б) Даньян-Куньшаньский виадук
В) Виадук Кита – Яита Г) Виадук Чжанхуа-Гаосюн

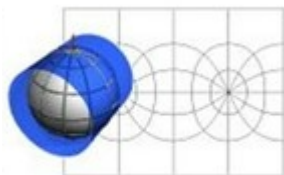
93. Назовите самую глубокую станцию метро в мире.

- А) Адмиралтейская (Санкт-Петербург) Б) Арсенальная (Киев)
В) Хвангымболь (Пхеньян) Г) Хунъянцунь (Чунцин)

94. Что добывают в самом большом карьере в мире?

- А) Алмазы Б) Золото В) Камедь Г) Медь

95. Назовите вид картографической проекции



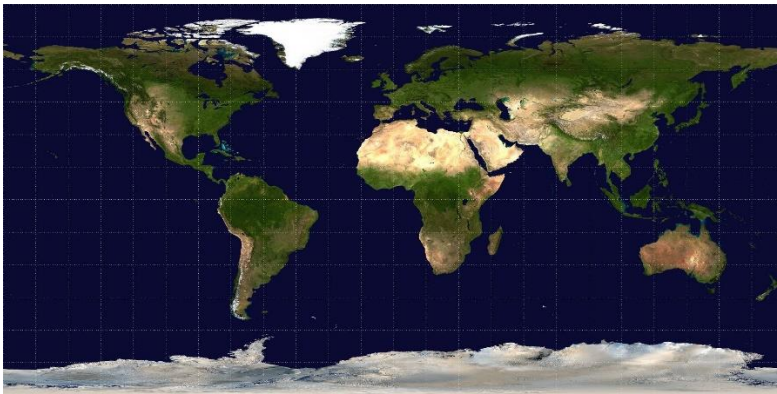
- А) Азимутальная Б) Коническая В) Произвольная Г) Цилиндрическая

96. Назовите тип картографической проекции



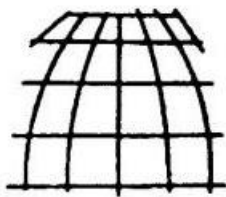
- А) Произвольная Б) Равновеликая В) Равнопромежуточная Г) Равноугольная

97. Назовите тип картографической проекции




А) Произвольная Б) Равновеликая В) Равнопромежуточная Г) Равноугольная

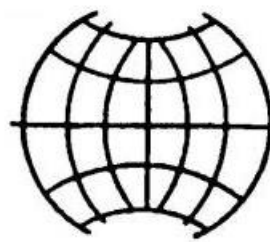
98. Выберите псевдоцилиндрическую проекцию.




А)



Б)

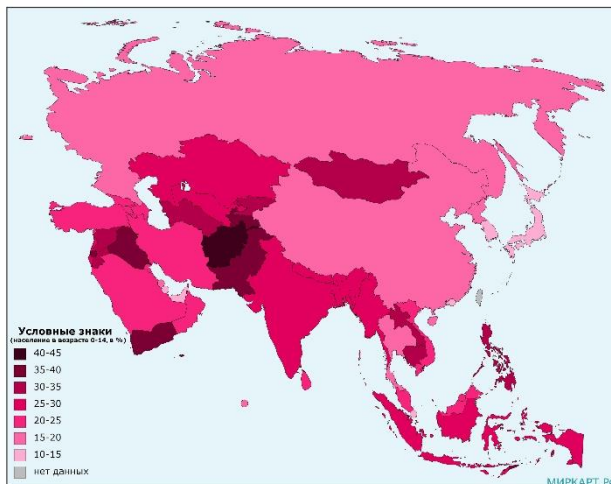


В)



Г)

99. Назовите вид картографического изображения



А) Качественный фон Б) Количественный фон В) Способ картограмм Г) метод ареалов

100. Каким способом картографического изображения обычно выполняется школьная карта циркуляции вод мирового океана?

А) Способ ареалов Б) способом качественного фона
В) способом количественного фона Г) способом знаков движения

101. А – небольшой город, расположенный рядом с третьим по численности населения городом приморской страны (по данным citypopulation.de). Городок был основан в конце позапрошлого века недалеко от остатков древнего города, который входит в список Всемирного наследия вместе с другими подобными объектами. Б – крупнейший остров в

составе островного государства, на нем расположена и столица этой страны. На территории региона указанной страны, который тоже называется Б, расположены остатки древнего поселения, объекта Всемирного наследия. Годовое количество осадков в столице страны, которой принадлежит остров Б, почти в три раза больше, чем в А, а температура самого холодного месяца в году на 17,5 градуса С выше (по данным climate-data.org). Наконец, в названиях А и Б отличается лишь одна буква. Назовите эти объекты.

102. Если отбросить названия, то у городов 1, 2 и 3 не очень много общего. Они находятся в России, в разных субъектах. Город 1 – самый западный, самый крупный и, предположительно, самый старый из трех, при этом субъект, в котором он расположен, самый маленький по территории из имеющихся. Город 2 – самый молодой, самый маленький и самый южный из трех, при этом область, в которой он находится, самая большая по численности населения из трех указанных субъектов. Город 3 – самый восточный и самый северный из трех, по одной из версий, он появился раньше, чем первый город; в нем представлены предприятия лесной и деревообрабатывающей, а также легкой промышленности – это одни из отраслей специализации экономического района, к которому относится город. Город 3 располагается в самом большом по площади субъекте из трех перечисленных. Назовите города 1, 2, 3.

103. Этот народ относится к числу коренных народов одного из российских субъектов. Населенный пункт, в честь которого, по одной из версий, народ получил свое название, находится в западной части указанного субъекта, в предгорьях хребта, имеющего не очень большую протяженность. По другой версии, этноним народа происходит как раз от этого хребта. Народ имеет собственный язык, не так давно был выпущен первый букварь на данном языке. Народ входит в названную в его честь этническую группу, куда входят и другие не особо многочисленные народы. При этом к этой группе не относятся, например, отовало, каньяри или кулла. О каком же народе идет речь?

104. Этот природный объект 1 располагается на самом большом острове в составе одноименного архипелага, принадлежащего островному государству, входящему в сотню крупнейших стран мира по площади. Остров был открыт в начале позапрошлого века, искомый объект 1 появился, как считается, в начале уже прошлого века. Указанный остров не имеет постоянного населения, он является одним из элементов объекта Всемирного наследия ЮНЕСКО для своей страны. Искомый объект 1, по одной из версий, обладает определенным рекордом среди подобных объектов в масштабах планеты. Предыдущим обладателем указанного рекорда, как считается, был другой объект, располагавшийся в далекой от описанного острова стране; эта страна не имеет выхода к морю. Можно отметить, что искомый объект 1 находится на расстоянии в 1300 с лишним километров от столицы страны, который принадлежит описанный остров. Назовите же этот объект 1.

105. Это геологическое образование расположено в южной части одного из регионов России, примерно в 200 км от его административного центра. Рядом с данным образованием расположено живописное озеро, самое глубокое в этом регионе России. Образование представляет собой своеобразные скалы из горной породы вулканического происхождения. Название этого объекта связано с бытом и легендами коренных жителей этих мест, а точнее – с центральным персонажем здешней мифологии, который предстаёт в виде птицы. О каком же геологическом образовании идет речь?

Задание 106 – 20 баллов.

Логическая схема.

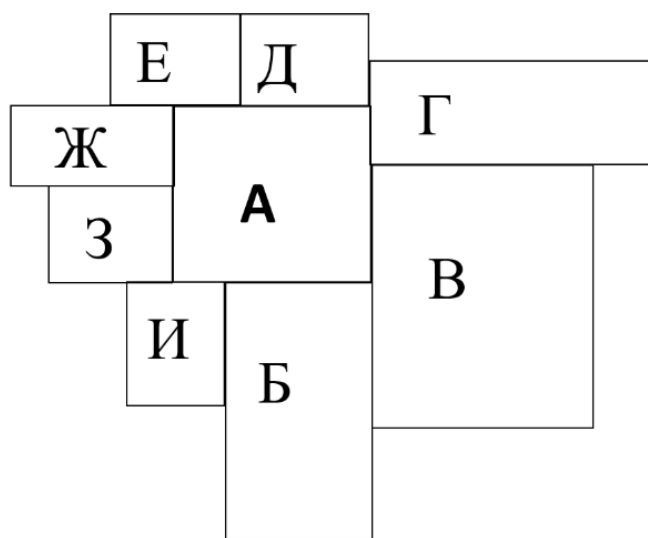
Перед вами схема некоторых субъектов Российской Федерации. Для решения данной схемы вам потребуется прочитать факты о этой территории и определить, какие субъекты могут соответствовать этим фактам.

Учтите, что среди фактов есть два лишних.

Учтите, что один факт может соответствовать сразу нескольким субъектам, и субъекту могут соответствовать сразу несколько фактов.

Есть и такой субъект, которому не соответствует не один из перечисленных фактов.

Ответьте на дополнительные вопросы.



Факт 1: на территории субъекта протекает приток одной реки, на котором стоит административный центр этого субъекта и субъекта-соседа.

Факт 2: основная специализация данного субъекта – чёрная металлургия.

Факт 3: преобладающая природная зона субъекта – тайга.

Факт 4: на территории этого субъекта есть выход кристаллического фундамента на поверхность, которая называется кряжем.

Факт 5: административный центр этого субъекта основан раньше 1590 года.

Факт 6: преобладающая отрасль животноводства этого субъекта – мясо-молочное скотоводство.

Факт 7: на территории этого субъекта располагается НПЗ.

Факт 8: административный статус этого субъекта – край

Факт 9: на территории этого субъекта располагается ГЭС.

Факт 10: высшая точка этого субъекта превышает 300 м.

Факт 11: субъект имеет менее пяти граничащих с ним субъектов.

Факт 12: население второго города по численности населения в субъекте превышает 200 тысяч человек.

**Схема составлена с учетом размеров субъектов и их реального расположения при сильной генерализации.*

Логическая схема.

<i>Буква субъекта</i>	<i>Название субъекта</i>	<i>Номер фактов</i>
<i>А</i>		
<i>Б</i>		
<i>В</i>		
<i>Г</i>		
<i>Д</i>		
<i>Е</i>		
<i>Ж</i>		
<i>З</i>		
<i>И</i>		

- 1. Какие экономические районы охватывают субъекты на схеме?*
- 2. О притоке какой реки идёт речь в Факте 1?*
- 3. Назовите основные центры металлургии, про которых говорится в Факте 2.*
- 4. Как называется геологическая структура, загаданная в Факте 4?*
- 5. В рамках какой возвышенности располагается данная схема?*
- 6. Какой этнос является вторым по численности в субъектах В и Г?*
- 7. Какое полезное ископаемое исторически добывают в субъекте И?*
- 8. По сбору какой культуры субъект Б является лидером в России?*