

# Подмосковная олимпиада школьников по истории

История. 11 класс. Ограничение по времени 120 минут

## Люди на плакатах. Вариант №1

#1111053

Перед Вами фрагменты сатирических плакатов времён Гражданской войны с изображениями видных лидеров Белого движения. Определите, какому из изображённых деятелей соответствует каждый факт.

А.



Б.



Имел титул барона

- ☒ А
- ☐ Б
- ☐ обоим
- ☐ ни одному

1 балл

Был тёзкой как минимум одного императора из династии Романовых

- ☐ А
- ☐ Б
- ☒ обоим
- ☐ ни одному

1 балл

Участвовал в Первой мировой войне

- ☐ А
- ☐ Б
- ☒ обоим
- ☐ ни одному

1 балл

В период с 1917 по 1921 год бывал в Крыму

- ☐ А
- ☐ Б
- ☒ обоим
- ☐ ни одному

1 балл

Был министром Временного правительства России

- ☐ А
- ☐ Б
- ☐ обоим
- ☒ ни одному

1 балл



Провозгласил себя Верховным правителем России

- ☐ А
- ☒ Б
- ☐ обоим
- ☐ ни одному

1 балл

Возглавлял Вооружённые силы Юга России

- ☒ А
- ☐ Б
- ☐ обоим
- ☐ ни одному

1 балл

В годы Второй мировой войны поддерживал Гитлера

- ☐ А
- ☐ Б
- ☐ обоим
- ☒ ни одному

1 балл

Был казнён

- ☐ А
- ☒ Б
- ☐ обоим
- ☐ ни одному

1 балл

Ушёл из жизни в эмиграции

- ☒ А
- ☐ Б
- ☐ обоим
- ☐ ни одному

1 балл

За решение задачи **10 баллов**

Перед Вами фрагменты сатирических плакатов времён Гражданской войны с изображениями видных лидеров Белого движения. Определите, какому из изображённых деятелей соответствует каждый факт.

А.



Б.



Имел титул барона

- ☐ А
- ☒ Б
- ☐ обоим
- ☐ ни одному

1 балл

Был тёзкой как минимум одного императора из династии Романовых

- ☐ А
- ☒ Б
- ☐ обоим
- ☐ ни одному

1 балл

Участвовал в Первой мировой войне

- ☐ А
- ☐ Б
- ☒ обоим
- ☐ ни одному

1 балл

В период с 1917 по 1921 год бывал в Крыму

- ☐ А
- ☐ Б
- ☒ обоим
- ☐ ни одному

1 балл

Был министром Временного правительства России

- ☐ А
- ☐ Б
- ☐ обоим
- ☒ ни одному

1 балл

Участвовал в Ледяном походе

- ☒ А
- ☐ Б
- ☐ обоим
- ☐ ни одному

1 балл

Возглавлял Вооружённые силы Юга России

- ☐ А
- ☐ Б
- ☒ обоим
- ☐ ни одному

1 балл

В годы Второй мировой войны поддерживал Гитлера

- ☐ А
- ☐ Б
- ☐ обоим
- ☒ ни одному

1 балл

Был казнён

- ☐ А
- ☐ Б
- ☐ обоим
- ☒ ни одному

1 балл

Ушёл из жизни в эмиграции

- ☐ А
- ☐ Б
- ☒ обоим
- ☐ ни одному

1 балл

За решение задачи **10 баллов**

## Союзные республики. Вариант №1

#1111100

Перед Вами карты, на которые выделены цветом союзные республики СССР. Ниже приведён перечень фактов. Определите, какой из республик соответствует каждый факт.

А.



Б.





Существовала с момента образования СССР

- ☐ А
- ☐ Б
- ☐ обоим
- ☒ ни одному

1 балл

Граничила с РСФСР

- ☐ А
- ☐ Б
- ☒ обоим
- ☐ ни одному

1 балл

Граничила с союзной республикой, столицей которой был морской порт

- ☐ А
- ☒ Б
- ☐ обоим
- ☐ ни одному

1 балл

Включала территории, до 1917 года не входившие в состав Российской империи

- ☐ А
- ☐ Б
- ☐ обоим
- ☒ ни одному

1 балл

Была хотя бы частично оккупирована в годы Великой Отечественной войны

- ☐ А
- ☐ Б
- ☐ обоим
- ☒ ни одному

1 балл

Столицей республики был морской порт

- ☐ А
- ☐ Б
- ☒ обоим
- ☐ ни одному

1 балл

Столица республики до 1917 года имела другое официальное название

- ☐ А
- ☒ Б
- ☐ обоим
- ☐ ни одному

1 балл

Столица республики в настоящее время является столицей независимого государства

- ☐ А
- ☐ Б
- ☒ обоим
- ☐ ни одному

1 балл

На территории республики родился один из генеральных секретарей ЦК КПСС

- ☐ А
- ☐ Б
- ☐ обоим
- ☒ ни одному

1 балл

Большинство населения республики составляли русские

- ☐ А
- ☐ Б
- ☐ обоим
- ☒ ни одному

1 балл

За решение задачи **10 баллов**

## Союзные республики. Вариант №2

#1111101

Перед Вами карты, на которые выделены цветом союзные республики СССР. Ниже приведён перечень фактов. Определите, какой из республик соответствует каждый факт.

А.



Б.



Существовала с момента образования СССР

- ☐ А
- ☐ Б
- ☐ обоим
- ☒ ни одному

1 балл

Граничила с РСФСР

- ☐ А
- ☐ Б
- ☒ обоим
- ☐ ни одному

1 балл

Граничила с союзной республикой, столицей которой был морской порт

- ☐ А
- ☐ Б
- ☒ обоим
- ☐ ни одному

1 балл

Включала территории, до 1917 года не входившие в состав Российской империи

- ☐ А
- ☒ Б
- ☐ обоим
- ☐ ни одному

1 балл

Была хотя бы частично оккупирована в годы Великой Отечественной войны

- ☒ А
- ☐ Б
- ☐ обоим
- ☐ ни одному

1 балл

Столицей республики был морской порт

- ☐ А
- ☐ Б
- ☐ обоим
- ☒ ни одному

1 балл

Столица республики до 1917 года имела другое официальное название

- ☐ А
- ☐ Б
- ☒ обоим
- ☐ ни одному

1 балл

Столица республики в настоящее время является столицей независимого государства

- ☐ А
- ☐ Б
- ☒ обоим
- ☐ ни одному

1 балл

На территории республики родился один из генеральных секретарей ЦК КПСС

- ☒ А
- ☐ Б
- ☐ обоим
- ☐ ни одному

1 балл



Большинство населения республики составляли русские

- ☐ А
- ☐ Б
- ☐ обоим
- ☒ ни одному

1 балл

За решение задачи **10 баллов**

*Если все варианты одновременно не помещаются в окно браузера, можно воспользоваться сочетанием клавиш `ctrl` и `(-)` (`cmd` и `(-)` для Mac) для уменьшения масштаба окна*

Перед Вами пары названий картин некоторых русских художников второй половины XIX – начала XX века и фрагменты полотен этих же авторов. Соотнесите каждую пару произведений с фрагментом другой работы этого художника.

«Большевик», «Купчиха за чаем»



«Купание красного коня», «На линии огня»



«Девочка с персиками», «Похищение Европы»



«Золотая осень», «Владимирка»




«Бурлаки на Волге», «Садко»



«Неизвестная», «Неутешное горе»



«Рожь», «Утро в сосновом лесу»



«Демон поверженный», «Царевна-Лебедь»



«Утро стрелецкой казни», «Покорение Сибири Ермаком»



«Лунная ночь на Днепре», «Берёзовая роща»



«Осмеянный поцелуй», «Язычок Коломбины»



«Витязь на распутье», «Богатыри»



Доступные варианты ответов:

«Большевик»,  
«Купчиха за чаем»

«Купание красного  
коня», «На линии огня»

«Демон  
поверженный»,  
«Царевна-Лебедь»

«Витязь на распутье»,  
«Богатыри»

«Утро стрелецкой  
казни», «Покорение  
Сибири Ермаком»

«Неизвестная»,  
«Неутешное горе»

«Золотая осень»,  
«Владимирка»

«Бурлаки на Волге»,  
«Садко»

«Осмеянный поцелуй»,  
«Язычок Коломбины»

«Рожь», «Утро в  
сосновом лесу»

«Девочка с  
персиками»,  
«Похищение Европы»

«Лунная ночь на  
Днепре», «Берёзовая  
роща»

Формула вычисления баллов: 0-12 1-11 2-10 3-9 4-8 5-7 6-6 7-5 8-4 9-3 10-2 11-1 12-0

За решение задачи **12 баллов**

*Если все варианты одновременно не помещаются в окно браузера, можно воспользоваться сочетанием клавиш `ctrl` и `(-)` (`cmd` и `(-)` для Mac) для уменьшения масштаба окна*

Перед Вами пары названий картин некоторых русских художников второй половины XIX – начала XX века и фрагменты полотен этих же авторов. Соотнесите каждую пару произведений с фрагментом другой работы этого художника.

«Золотая осень», «Владимирка»



«Девочка с персиками», «Похищение Европы»



«Большевик», «Купчиха за чаем»



«Витязь на распутье», «Богатыри»




«Христос в пустыне», «Неутешное горе»



«Купание красного коня», «На линии огня»



«Лунная ночь на Днепре», «Берёзовая роща»




«Бурлаки на Волге», «Садко»



«Демон поверженный», «Царевна-Лебедь»



«Рожь», «Утро в сосновом лесу»



«Осмеянный поцелуй», «Язычок Коломбины»



«Утро стрелецкой казни», «Покорение Сибири Ермаком»



Доступные варианты ответов:

«Золотая осень»,  
«Владимирка»

«Девочка с  
персиками»,  
«Похищение Европы»

«Бурлаки на Волге»,  
«Садко»

«Утро стрелецкой  
казни», «Покорение  
Сибири Ермаком»

«Демон  
поверженный»,  
«Царевна-Лебедь»

«Купание красного  
коня», «На линии огня»

«Витязь на распутье»,  
«Богатыри»

«Христос в пустыне»,  
«Неутешное горе»

«Осмеянный поцелуй»,  
«Язычок Коломбины»

«Лунная ночь на  
Днепре», «Берёзовая  
роща»

«Большевик»,  
«Купчиха за чаем»

«Рожь», «Утро в  
сосновом лесу»

Формула вычисления баллов: 0-12 1-11 2-10 3-9 4-8 5-7 6-6 7-5 8-4 9-3 10-2 11-1 12-0

За решение задачи **12 баллов**

Перед Вами небольшие тексты с изложением событий разных периодов отечественной истории. В текстах пропущены некоторые слова и словосочетания. Заполните каждый пропуск, выбрав один из трёх вариантов.

После внезапной смерти Ивана [Великого, Калиты, **Красного**] трон унаследовал его малолетний сын Дмитрий. Улучив момент, ярлык на великое княжение [Владимирское, Киевское, Московское] в Орде получил нижегородский князь. Это нанесло удар по авторитету Москвы, но в скором времени ярлык был возвращён усилиями московских бояр и митрополита [Алексия, Петра, Феоноста]. Ключевым сигналом к началу организованной борьбы с интервентами стал призыв патриарха [Гермогена, Иова, Филарета]. В Рязани против поляков выступил воевода [Заруцкий, Ляпунов, Пожарский]. Именно этот город стал центром [Первого ополчения, Второго ополчения, Третьего ополчения] – оттуда по русским городам рассылались грамоты с призывами к борьбе с захватчиками. Если к концу XVII в Московском государстве насчитывалось около 30 [верфей, **мануфактур**, фабрик], то в правление Петра I их число превысило 180. Быстрыми темпами развивалась металлургия, новые заводы на [Алтае, Кавказе, **Урале**] стали крупнейшими в мире металлургическими предприятиями. Вопросами горной промышленности занималась [**берг-коллегия**, камер-коллегия, коммерц-коллегия], с разрешения этого ведомства жители России могли искать полезные ископаемые и основывать заводы. Вскоре после того, как власть в столице перешла в руки большевиков, [вселенский собор, **поместный собор**, святейший синод] в Москве принял решение о восстановлении [автокефалии, **патриаршества**, унии]. Первым обладателем титула, упразднённого более двух столетий тому назад, стал митрополит [Антоний, Сергей, **Тихон**].

Формула вычисления баллов: 0-12 1-11 2-10 3-9 4-8 5-7 6-6 7-5 8-4 9-3 10-2 11-1 12-0

За решение задачи **12 баллов**



Перед Вами небольшие тексты с изложением событий разных периодов отечественной истории. В текстах пропущены некоторые слова и словосочетания. Заполните каждый пропуск, выбрав один из трёх вариантов.

После казни в Орде князя [Брячислава Изяславича, Всеволода Мстиславича, **Михаила Ярославича**] Тверь сохранила статус главного города Северо-Восточной Руси – ярлык на великое княжение [**Владимирское**, Киевское, Московское] достался сыновьям покойного. Но оба, в конечном счёте, разделили судьбу отца: один был казнён в Орде за убийство московского князя [Даниила Александровича, Ивана Даниловича, **Юрия Даниловича**], другой – за участие в антиордынском восстании в Твери. С освобождением Москвы силами Второго ополчения Смута не завершилась окончательно: серьёзные силы группировались вокруг мятежного атамана [**Заруцкого**, Ляпунова, Трубецкого]. Лишь в 1615 году царским воеводам удалось изгнать его из Астрахани, привезти в Москву и казнить. Бывшая царица [Мария Милославская, **Марина Мнишек**, Мария Нагая], сопровождавшая атамана, была заточена в монастырь, а её малолетний сын, также известный по прозвищу [**«Воренок»**, «Иван Внук», «Иван Молодой»], – казнён. В самом конце правления Петра I в столице империи открылась [**Академия наук**, Славяно-греко-латинская академия, Школа морских и навигацких наук]. В отсутствие национальных кадров туда были приглашены видные европейские учёные, в том числе математик [Гаусс, Ньютон, **Эйлер**]. К новому учреждению были причислены научная библиотека и музей, который назывался [**Кунсткамера**, Манеж, Эрмитаж]. Их посещение вскоре стало свободным и бесплатным. Последний император активно участвовал в жизни Русской православной церкви. Размышлял он и о возможности восстановить [автокефалию, **патриаршество**, унию], но против был влиятельный [Витте, Горемыкин, **Победоносцев**], занимавший пост [генерал-квартирмейстера, **обер-прокурора**, статс-секретаря] Синода, – он опасался, что это пошатнёт неограниченное самодержавие в России.

Формула вычисления баллов: 0-12 1-11 2-10 3-9 4-8 5-7 6-6 7-5 8-4 9-3 10-2 11-1 12-0

За решение задачи **12 баллов**

## Даты отечественной истории. Вариант №1

#1111123

*Если все варианты одновременно не помещаются в окно браузера, можно воспользоваться сочетанием клавиш `ctrl` и `(-)` (`cmd` и `(-)` для Mac) для уменьшения масштаба окна*

Перед Вами список событий отечественной истории XIX века, а также перечень годов, к которым эти события относятся. Соотнесите каждое событие с соответствующим годом.

Смерть свёкра императрицы Марии Александровны

1855

Смерть императора, чья жена была дочерью короля Дании

1894

Смерть старшего брата великого князя Константина Павловича

1825

Мирный договор, подписанный на территории современной Румынии

1812

Мирный договор, подписанный на территории современной Турции

1878

Мирный договор, подписанный на территории современной Финляндии

1809

Последнее сражение в военной карьере Наполеона

1815

Последнее сражение в военной карьере Кутузова

1813

Рождение автора поэм «Бородино» и «Мцыри»

1814

Рождение исторического деятеля, в честь которого Симбирск получил своё современное название

1870

Утверждение царём реформы, во многом предопределившей исход «дела Засулич»

1864

Продажа территории, берега которой впервые увидели участники экспедиции Семёна Дежнёва в XVII веке

1867

Доступные варианты ответов:

1813

1814

1809

1864

1878

1867

1870

1855

1815

1812

1825

1894

Формула вычисления баллов: 0-12 1-11 2-10 3-9 4-8 5-7 6-6 7-5 8-4 9-3 10-2 11-1 12-0

За решение задачи **12 баллов**

## Даты отечественной истории. Вариант №2

#1111124

*Если все варианты одновременно не помещаются в окно браузера, можно воспользоваться сочетанием клавиш `ctrl` и `(-)` (`cmd` и `(-)` для Mac) для уменьшения масштаба окна*

Перед Вами список событий отечественной истории XIX века, а также перечень годов, к которым эти события относятся. Соотнесите каждое событие с соответствующим годом.

Смерть императора, чей отец, сын и правнук пали от рук убийц

1855

Смерть императора, чья жена родилась в семье датского короля

1894

Смерть старшего брата великого князя Константина Павловича

1825

Мирный договор, подписанный на территории современного Ирана

1828

Мирный договор, подписанный на территории современной Калининградской области

1807

Мирный договор, подписанный на территории современной Франции

1856

Последнее сражение в военной карьере Багратиона

1812

Последнее сражение в военной карьере Кутузова

1813

Рождение автора повестей «Вий» и «Шинель»

1809

Рождение исторического деятеля, в честь которого долгое время назывался современный Волгоград

1879

Продажа территории, берега которой впервые увидели участники экспедиции Семёна Дежнёва в XVII веке

1867

Утверждение царём реформы, во многом предопределившей исход «дела Засулич»

1864

Доступные варианты ответов:

1855

1894

1813

1864

1809

1856

1828

1807

1867

1812

1825

1879

Формула вычисления баллов: 0-12 1-11 2-10 3-9 4-8 5-7 6-6 7-5 8-4 9-3 10-2 11-1 12-0

За решение задачи **12 баллов**

*Если все варианты одновременно не помещаются в окно браузера, можно воспользоваться сочетанием клавиш `ctrl` и `(-)` (`cmd` и `(-)` для Mac) для уменьшения масштаба окна*

Перед Вами список утверждений о распространённых мужских именах, а также перечень самих имён, к которым они относятся. Соотнесите каждое утверждение с соответствующим именем.



Так не звали ни одного царя из династии Романовых, но так звали святого, в честь которого назывался один из орденов Российской империи

Андрей

Так звали отца императора, который умер в Москве накануне свадьбы

Алексей

Так звали одного из лидеров декабристов, одного из членов Негласного комитета, а также русского императора, убитого в результате заговора

Павел

Так звали трёх русских императоров – деда и двух его внуков

Пётр

Так звали человека, чьё загадочное убийство стало важной предпосылкой Смуты, и князя, при активном участии которого Смута в России прекратилась

Дмитрий

Так звали императора, в правление которого Россия воевала и с Францией, и с Швецией, и с Турцией, и с Ираном

Александр

Так звали одного из членов Негласного комитета и одного из братьев императора Александра I

Николай

Так звали известного русского поэта, погибшего на дуэли, и одного из сыновей императора Павла I

Михаил

Так звали отца и сына, увековеченных на знаменитой картине Репина

Иван

Так звали великого князя, в правление которого русским землям угрожало нашествие войск Тамерлана

Василий

Доступные варианты ответов:

Михаил

Александр

Алексей

Николай

Пётр

Василий

Павел

Иван

Дмитрий

Андрей

Формула вычисления баллов: 0-10 1-9 2-8 3-7 4-6 5-5 6-4 7-3 8-2 9-1 10-0

За решение задачи **10 баллов**

*Если все варианты одновременно не помещаются в окно браузера, можно воспользоваться сочетанием клавиш `ctrl` и `(-)` (`cmd` и `(-)` для Mac) для уменьшения масштаба окна*

Перед Вами список утверждений о распространённых женских именах, а также перечень самих имён, к которым они относятся. Соотнесите каждое утверждение с соответствующим именем.

Так звали жену одного из братьев Петра I и знаменитую русскую крепостную актрису

Прасковья

Так звали бабушку Елизаветы Петровны по отцовской линии

Наталья

Так звали жён первого и последнего правителей Московского государства в XV веке

Софья

Так звали дочь и внучку Ивана V

Анна

Так звали императрицу, в честь которой был назван дворец, где находилась Янтарная комната

Екатерина

Так звали жену императора, при котором в составе Российской империи было создано Царство Польское

Елизавета

Так звали первую невестку Натальи Нарышкиной

Евдокия

Так звали мать царя, при котором к России была присоединена Астрахань

Елена

Так звали жену царя, в правление которого в России было учреждено патриаршество

Ирина

Так звали матерей четырёх русских царей, правивших в XIX веке

Мария

Доступные варианты ответов:

Елена

Елизавета

Наталья

Евдокия

Анна

Мария

Софья

Ирина

Екатерина

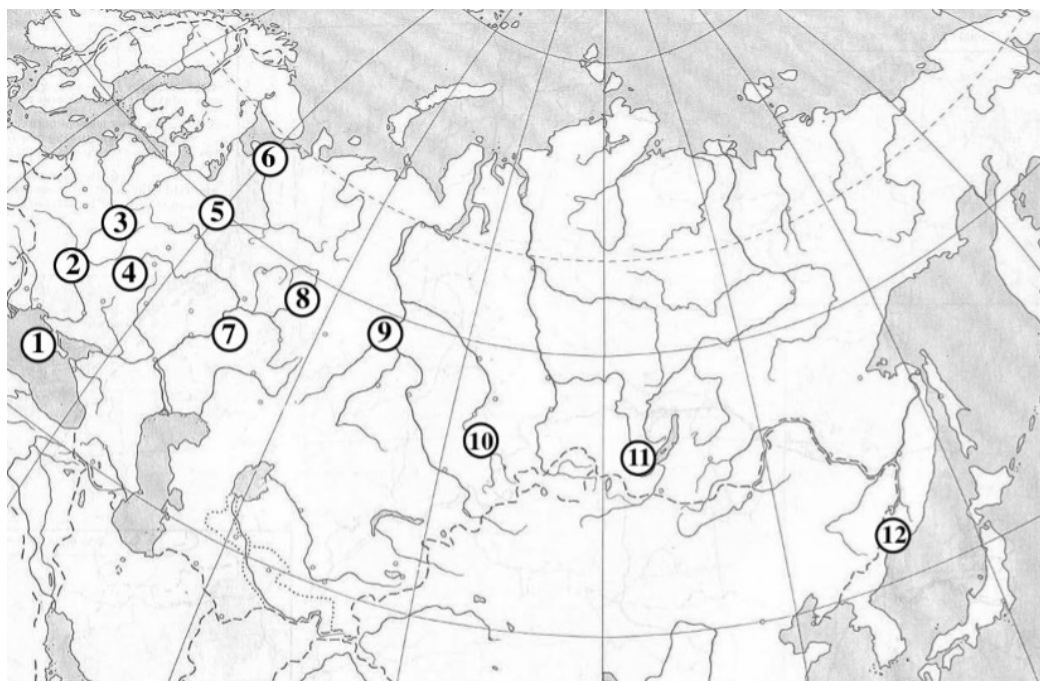
Прасковья

Формула вычисления баллов: 0-10 1-9 2-8 3-7 4-6 5-5 6-4 7-3 8-2 9-1 10-0

За решение задачи **10 баллов**

*Если все варианты одновременно не помещаются в окно браузера, можно воспользоваться сочетанием клавиш **ctrl** и **(-)** (**cmd** и **(-)** для Mac) для уменьшения масштаба окна*

На карте обозначено местонахождение двенадцати городов, сыгравших заметную роль в истории российского государства. Ниже приведены гербы этих городов. Соотнесите каждый город с соответствующим гербом.




1.




2.



3.



4.



5.



6.



7.



8.



9.



10.






11.



12.



Доступные варианты ответов:

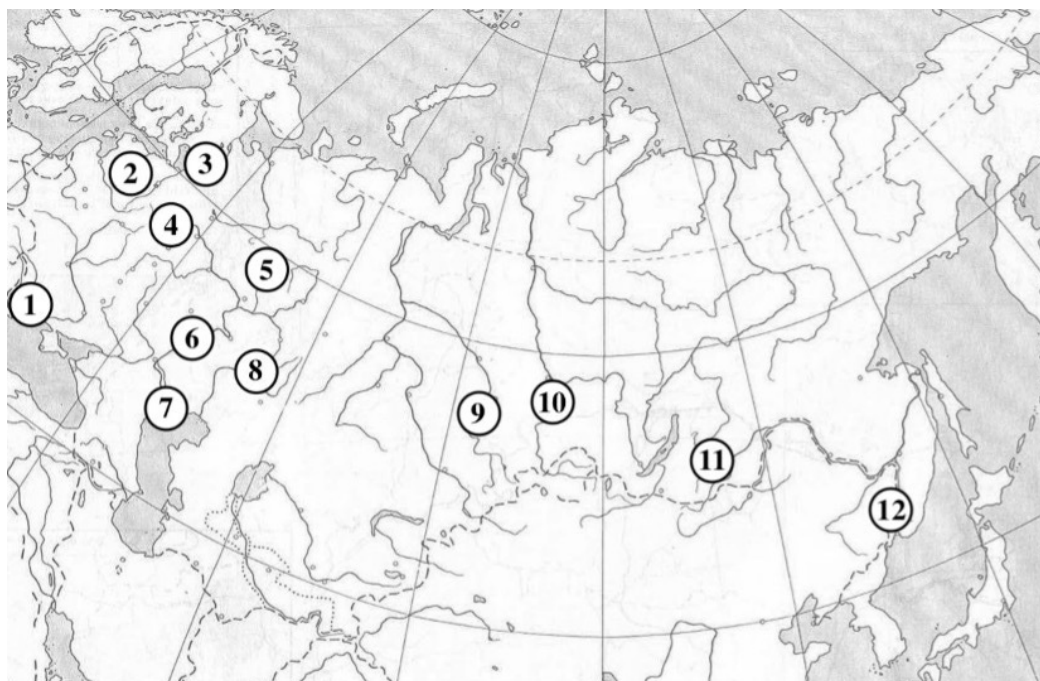


Формула вычисления баллов: 0-12 1-11 2-10 3-9 4-8 5-7 6-6 7-5 8-4 9-3 10-2 11-1 12-0


За решение задачи **12 баллов**

*Если все варианты одновременно не помещаются в окно браузера, можно воспользоваться сочетанием клавиш **ctrl** и **(-)** (**cmd** и **(-)** для Mac) для уменьшения масштаба окна*

На карте обозначено местонахождение двенадцати городов, сыгравших заметную роль в истории российского государства. Ниже приведены гербы этих городов. Соотнесите каждый город с соответствующим гербом.



1.



2.




3.




4.



5.



6.



7.



8.



9.



10.




11.



12.



Доступные варианты ответов:



Формула вычисления баллов: 0-12 1-11 2-10 3-9 4-8 5-7 6-6 7-5 8-4 9-3 10-2 11-1 12-0

За решение задачи **12 баллов**

## Знаменитые монастыри. Вариант №1

#1111125

*Если все варианты одновременно не помещаются в окно браузера, можно воспользоваться сочетанием клавиш `ctrl` и `(-)` (`cmd` и `(-)` для Mac) для уменьшения масштаба окна*

Перед Вами список фактов о знаменитых православных монастырях, сыгравших заметную роль в истории российского государства. Соотнесите каждый факт с названием соответствующего монастыря.

Александрo-Невская лавра

Основан при Петре I

Валаамский монастырь

В 1920-х – 1930-х годах находился на территории Финляндии

Донской монастырь

На кладбище этого московского монастыря погребены останки белых военачальников Антона Деникина и Владимира Каппеля

Иосифо-Волоцкий монастырь

Находится неподалёку от старейшего города Московской области

Кирилло-Белозерский монастырь

В этом монастыре долгое время жил идейный лидер нестяжателей

Новодевичий монастырь

В монастыре жили вдовы Фёдора Иоанновича и Василия Шуйского, а также сёстры и первая жена Петра I

Новоиерусалимский монастырь

Основан патриархом, который впоследствии был извержен из священства

Оптина пустынь

Находится неподалёку от города, который монголы прозвали «злым городом»

Почаевская лавра

В 1920-х – 1930-х годах находился на территории Польши

Псково-Печерский монастырь

В 1920-х – 1930-х годах находился на территории одной из прибалтийских стран

Троице-Сергиева лавра

Находится в городе, который с 1930 по 1991 год назывался в честь Владимира Загорского

Ферапонтов монастырь

В соборе, расположенном на территории монастыря, сохранилась единственная достоверная роспись мастера Дионисия

Доступные варианты ответов:

Находится неподалёку от города, который монголы прозвали «злым городом»

В монастыре жили вдовы Фёдора Иоанновича и Василия Шуйского, а также сёстры и первая жена Петра I

На кладбище этого московского монастыря погребены останки белых военачальников Антона Деникина и Владимира Каппеля

Основан патриархом, который впоследствии был извержен из священства

В соборе, расположенном на территории монастыря, сохранилась единственная достоверная роспись мастера Дионисия

В 1920-х – 1930-х годах находился на территории Финляндии

Находится в городе, который с 1930 по 1991 год назывался в честь Владимира Загорского

В этом монастыре долгое время жил идейный лидер нестяжателей

Основан при Петре I

В 1920-х – 1930-х годах находился на территории одной из прибалтийских стран

Находится неподалёку от старейшего города Московской области

В 1920-х – 1930-х годах находился на территории Польши

Формула вычисления баллов: 0-12 1-11 2-10 3-9 4-8 5-7 6-6 7-5 8-4 9-3 10-2 11-1 12-0

За решение задачи **12 баллов**



## Знаменитые монастыри. Вариант №2

#1111126

*Если все варианты одновременно не помещаются в окно браузера, можно воспользоваться сочетанием клавиш `ctrl` и `(-)` (`cmd` и `(-)` для Mac) для уменьшения масштаба окна*

Перед Вами список фактов о знаменитых православных монастырях, сыгравших заметную роль в истории российского государства. Соотнесите каждый факт с названием соответствующего монастыря.

Александрo-Невская лавра

До 1922 года на его территории хранилась рака с мощами отца Даниила Московского

Данилов монастырь

Основан сыном Александра Невского

Иосифo-Волоцкий монастырь

Находится неподалёку от старейшего города Московской области

Ипатьевский монастырь

Находится на территории города на Волге, который в 1913 стал одним из ключевых мест празднования 300-летия династии Романовых

Кирилло-Белозерский монастырь

В этом монастыре долгое время жил идейный лидер нестяжателей

Киево-Печерская лавра

В конце XVI века монастырём безуспешно пытались завладеть унияты

Коренная пустынь

Основан на месте, где, по преданию, была обретена знаменитая чудотворная икона Божьей матери

Почаевская лавра

В 1920-х – 1930-х годах находился на территории Польши

Соловецкий монастырь

Во время Крымской войны подвергался бомбардировкам английских кораблей

Троице-Сергиева лавра

Находится в городе, который с 1930 по 1991 год назывался в честь Владимира Загорского

Ферапонтов монастырь

В соборе, расположенном на территории монастыря, сохранилась единственная достоверная роспись мастера Дионисия

Юрьев монастырь

Находится на берегу реки, соединяющей

Доступные варианты ответов:

В 1920-х – 1930-х годах  
находился на  
территории Польши

В конце XVI века  
монастырём  
безуспешно пытались  
завладеть униаты

Находится неподалёку  
от старейшего города  
Московской области

Основан на месте, где,  
по преданию, была  
обретена знаменитая  
чудотворная икона  
Божьей матери

Находится на берегу  
реки, соединяющей  
озеро Ильмень и  
Ладожское озеро

Основан сыном  
Александра Невского

В соборе,  
расположенном на  
территории монастыря,  
сохранилась  
единственная  
достоверная роспись  
мастера Дионисия

В этом монастыре  
долгое время жил  
идейный лидер  
нестяжателей

До 1922 года на его  
территории хранилась  
рака с мощами отца  
Даниила Московского

Находится в городе,  
который с 1930 по 1991  
год назывался в честь  
Владимира Загорского

Находится на  
территории города на  
Волге, который в 1913  
стал одним из  
ключевых мест  
празднования 300-  
летия династии  
Романовых

Во время Крымской  
войны подвергался  
бомбардировкам  
английских кораблей

Формула вычисления баллов: 0-12 1-11 2-10 3-9 4-8 5-7 6-6 7-5 8-4 9-3 10-2 11-1 12-0

За решение задачи **12 баллов**

*Если все варианты одновременно не помещаются в окно браузера, можно воспользоваться сочетанием клавиш `ctrl` и `(-)` (`cmd` и `(-)` для Mac) для уменьшения масштаба окна*

Во Вторую мировую войну были вовлечены десятки стран и сотни народов. Перед Вами портреты десяти зарубежных лидеров – одни в годы войны выступали на стороне Антигитлеровской коалиции, другие были в противоположном лагере. Соотнесите портреты лидеров с фактами о них.

Был монархом своей страны




Имел звание вице-адмирала



Имел звание генералиссимуса



Был президентом своей страны и до, и после Второй мировой войны



Был казнён после окончания Второй мировой войны



Был лично знаком с Николаем II



Был членом коммунистической партии




Погиб в авиакатастрофе






Имел прозвище «Дуче»



Памятник ему установлен в Москве



Доступные варианты ответов:




Формула вычисления баллов: 0-10 1-9 2-8 3-7 4-6 5-5 6-4 7-3 8-2 9-1 10-0

За решение задачи **10 баллов**

*Если все варианты одновременно не помещаются в окно браузера, можно воспользоваться сочетанием клавиш `ctrl` и `(-)` (`cmd` и `(-)` для Mac) для уменьшения масштаба окна*

Во Вторую мировую войну были вовлечены десятки стран и сотни народов. Перед Вами портреты десяти зарубежных лидеров – одни в годы войны выступали на стороне Антигитлеровской коалиции, другие были в противоположном лагере. Соотнесите портреты лидеров с фактами о них.

Был монархом своей страны




Имел звание вице-адмирала



Имел звание генералиссимуса




Был президентом своей страны и до, и после Второй мировой войны



Был казнён после окончания Второй мировой войны



Был лично знаком с Николаем II





Был членом коммунистической партии



Погиб в авиакатастрофе




Имел прозвище «Дуче»



Памятник ему установлен в Москве



Доступные варианты ответов:



Формула вычисления баллов: 0-10 1-9 2-8 3-7 4-6 5-5 6-4 7-3 8-2 9-1 10-0

За решение задачи **10 баллов**

