

Подмосковная олимпиада школьников по истории

История. 9 класс. Ограничение по времени 120 минут

Лица на банкнотах. Вариант №1

#1110948

Перед Вами банкноты с портретами деятелей, сыгравших заметную роль в отечественной истории. Ниже приведён перечень фактов. Определите, какому из деятелей соответствует каждый факт.

А.



Б.



Был современником царя Алексея Михайловича

- ☐ А
- ☐ Б
- ☒ обоим
- ☐ ни одному

1 балл

Ни разу в жизни не посещал Киев

- ☐ А
- ☐ Б
- ☐ обоим
- ☒ ни одному

1 балл

Никогда не воевал против России

- ☐ А
- ☐ Б
- ☐ обоим
- ☒ ни одному

1 балл

Умер в Швеции

- ☐ А
- ☐ Б
- ☐ обоим
- ☒ ни одному

1 балл

Исповедовал православие

- ☐ А
- ☐ Б
- ☒ обоим
- ☐ ни одному

1 балл

Был лично знаком с первым российским императором

- ☐ А
- ☒ Б
- ☐ обоим
- ☐ ни одному

1 балл

Владел польским языком

- ☐ А
- ☐ Б
- ☒ обоим
- ☐ ни одному

1 балл

Имел сына, который впоследствии тоже стал гетманом

- ☒ А
- ☐ Б
- ☐ обоим
- ☐ ни одному

1 балл

Был предан анафеме Русской православной церковью

- ☐ А
- ☒ Б
- ☐ обоим
- ☐ ни одному

1 балл

Был женат на сестре одного из русских царей

- ☐ А
- ☐ Б
- ☐ обоим
- ☒ ни одному

1 балл

За решение задачи **10 баллов**

Лица на банкнотах. Вариант №2

#1110949

Перед Вами банкноты с портретами деятелей, сыгравших заметную роль в отечественной истории. Ниже приведён перечень фактов. Определите, какому из деятелей соответствует каждый факт.

А.



Б.



Был современником царя Михаила Фёдоровича

- ☐ А
- ☐ Б
- ☒ обоим
- ☐ ни одному

1 балл

Никогда не воевал против России

- ☐ А
- ☐ Б
- ☐ обоим
- ☒ ни одному

1 балл

Умер в Швеции

- ☐ А
- ☐ Б
- ☐ обоим
- ☒ ни одному

1 балл

Исповедовал католичество

- ☐ А
- ☐ Б
- ☐ обоим
- ☒ ни одному

1 балл

Хотя бы раз в жизни бывал в Киеве

- ☐ А
- ☐ Б
- ☒ обоим
- ☐ ни одному

1 балл

Не был лично знаком с первым российским императором

- ☒ А
- ☐ Б
- ☐ обоим
- ☐ ни одному

1 балл

Был женат на дочери одного из русских царей

- ☐ А
- ☐ Б
- ☐ обоим
- ☒ ни одному

1 балл

Был предан анафеме Русской православной церковью

- ☐ А
- ☒ Б
- ☐ обоим
- ☐ ни одному

1 балл

Хотя бы раз в жизни бывал в Санкт-Петербурге

- ☐ А
- ☐ Б
- ☐ обоим
- ☒ ни одному

1 балл

Владел польским языком

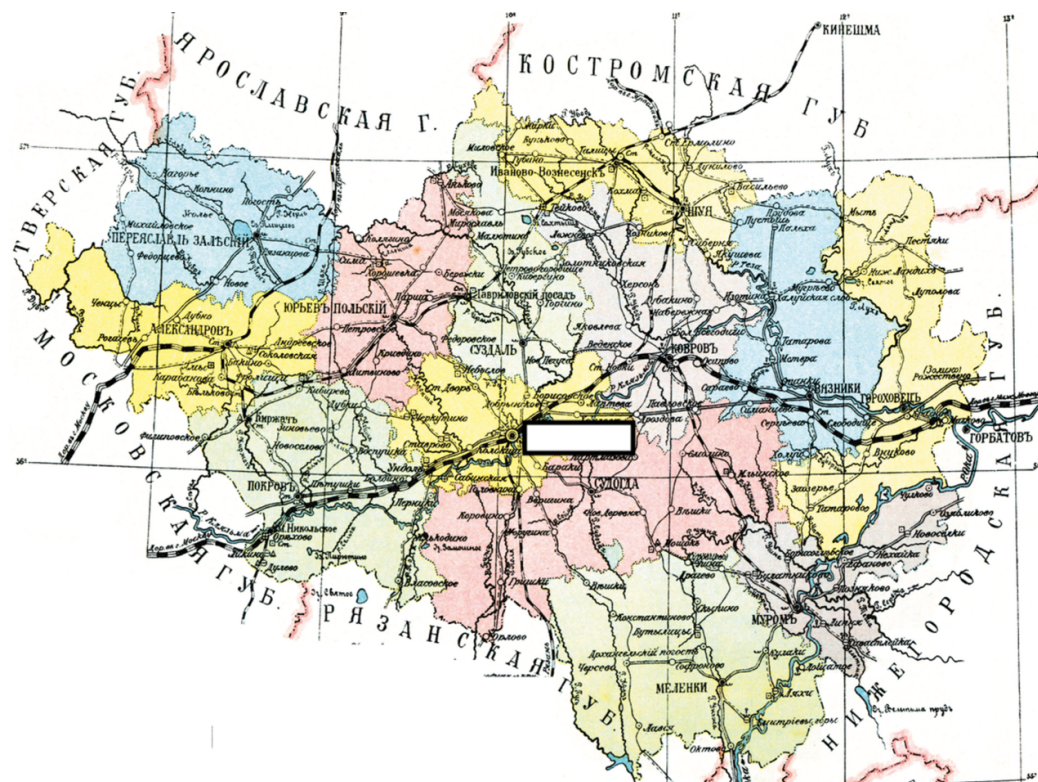
- ☐ А
- ☐ Б
- ☒ обоим
- ☐ ни одному

1 балл

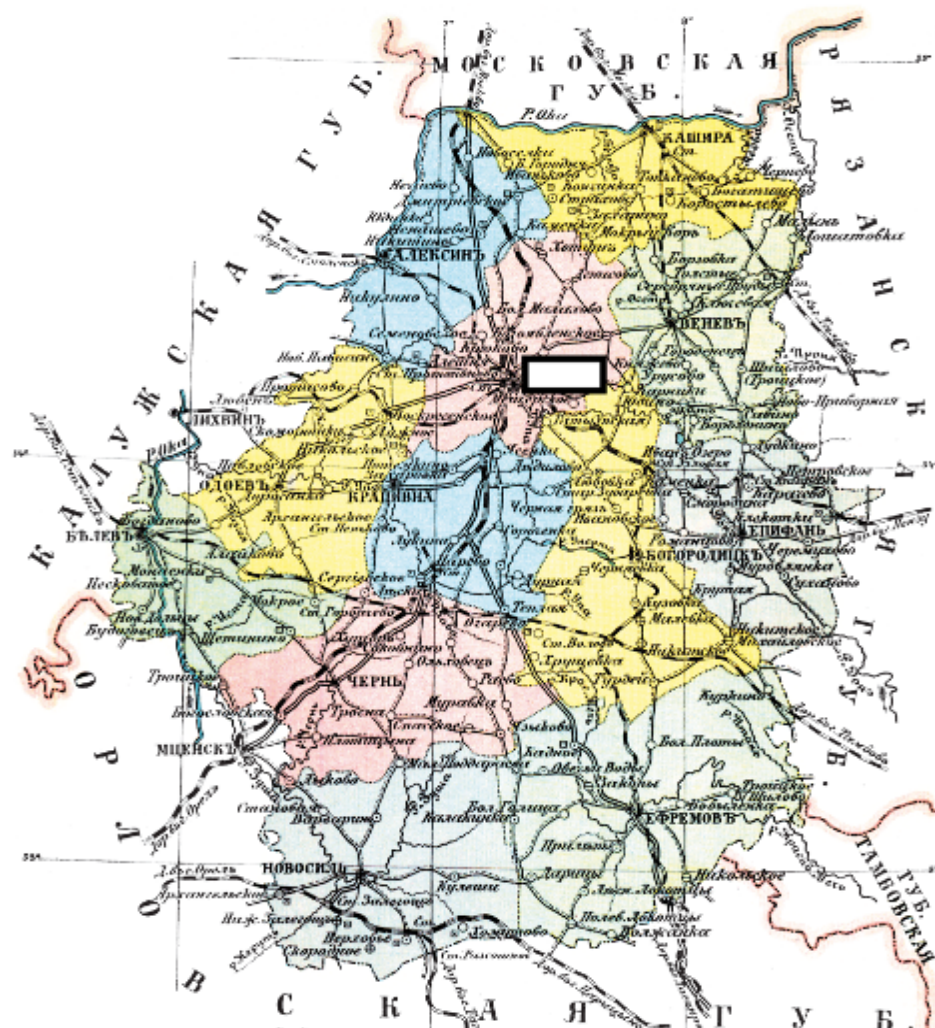
За решение задачи **10 баллов**

Перед Вами карты двух губерний Российской империи. Ниже приведён перечень фактов. Определите, какой из губерний соответствует каждый факт.

А.



Б.



По территории губернии пролегла Николаевская железная дорога

- ☐ А
- ☐ Б
- ☐ обоим
- ☒ ни одному

1 балл

По территории губернии протекала река Ока;

- ☐ А
- ☐ Б
- ☒ обоим
- ☐ ни одному

1 балл

В состав губернии на момент, отображённый на карте, входило более десяти уездов

- ☐ А
- ☐ Б
- ☒ обоим
- ☐ ни одному

1 балл

Губерния находилась западнее Черты оседлости

- ☐ А
- ☐ Б
- ☐ обоим
- ☒ ни одному

1 балл

Центр губернии был основан до нашествия на Русь войск Батыя

- ☐ А
- ☐ Б
- ☒ обоим
- ☐ ни одному

1 балл

Центр губернии в настоящее время называется так же, как и в XIX веке

- ☐ А
- ☐ Б
- ☒ обоим
- ☐ ни одному

1 балл

Центр одного из уездов губернии в настоящее время входит в состав Московской области

- ☐ А
- ☒ Б
- ☐ обоим
- ☐ ни одному

1 балл

Большинство населения губернии составляли русские

- ☐ А
- ☐ Б
- ☒ обоим
- ☐ ни одному

1 балл

Часть будущей территории губернии в XVII веке была охвачена восстанием Болотникова

- ☐ А
- ☒ Б
- ☐ обоим
- ☐ ни одному

1 балл

На момент, отображённый на карте, губерния граничила менее чем с пятью другими губерниями

- ☐ А
- ☐ Б
- ☐ обоим
- ☒ ни одному

1 балл

За решение задачи **10 баллов**

Карты губерний. Вариант №2

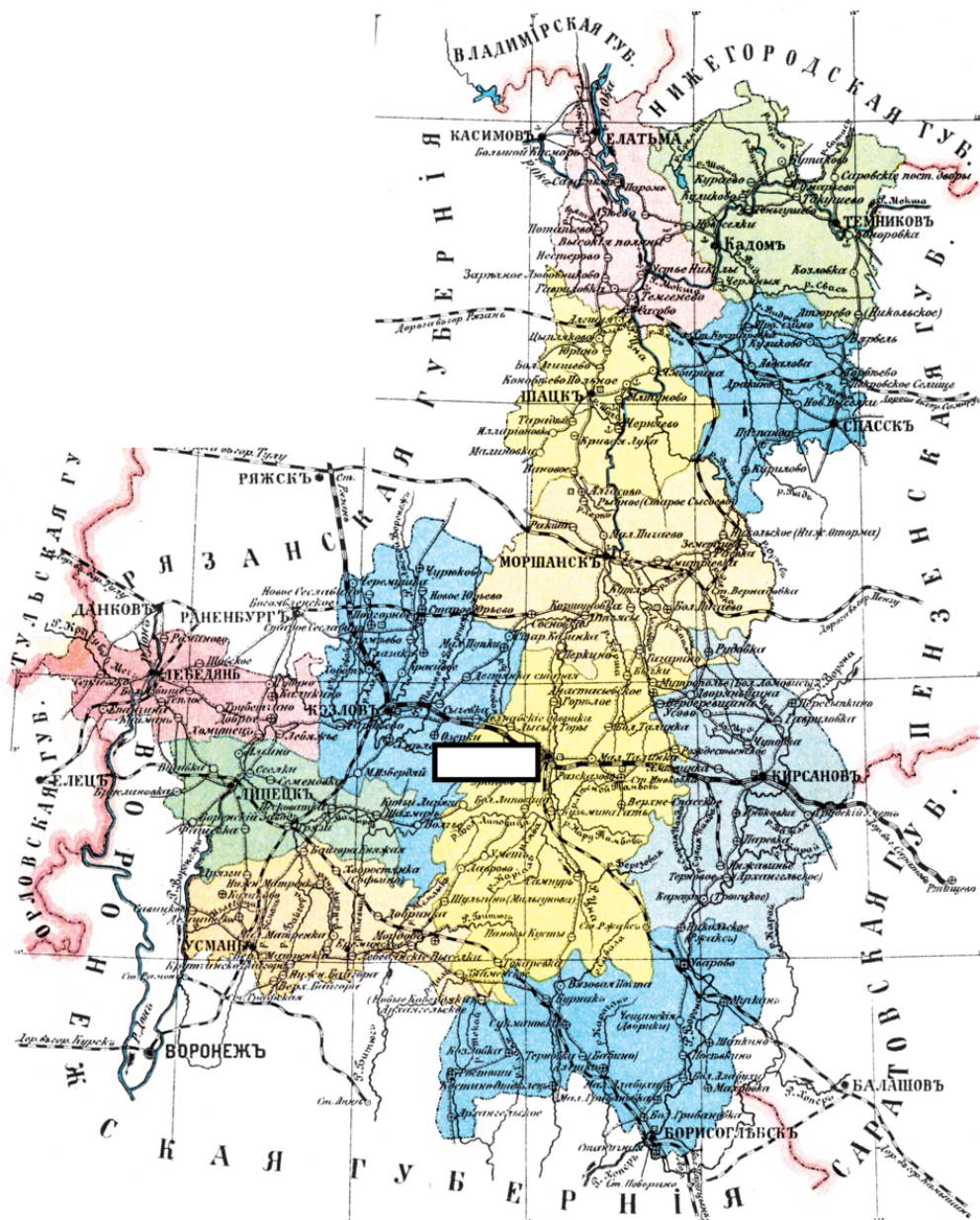
#1110951

Перед Вами карты двух губерний Российской империи. Ниже приведён перечень фактов. Определите, какой из губерний соответствует каждый факт.

А.



Б.



По территории губернии пролегла Николаевская железная дорога

- ☐ А
- ☐ Б
- ☐ обоим
- ☐ ни одному

1 балл

По территории губернии протекала река Дон

- ☐ А
- ☒ Б
- ☐ обоим
- ☐ ни одному

1 балл

В состав губернии на момент, отображённый на карте, входило менее десяти уездов

- ☐ А
- ☐ Б
- ☐ обоим
- ☒ ни одному

1 балл

Губерния находилась западнее Черты оседлости

- ☐ А
- ☐ Б
- ☐ обоим
- ☒ ни одному

1 балл

Центр губернии был основан до нашествия на Русь войск Батыя

- ☒ А
- ☐ Б
- ☐ обоим
- ☐ ни одному

1 балл

Центр губернии в XIX веке подвергался иностранной оккупации

- ☐ А
- ☐ Б
- ☐ обоим
- ☒ ни одному

1 балл

Название центра губернии имеет финно-угорское происхождение

- ☐ А
- ☒ Б
- ☐ обоим
- ☐ ни одному

1 балл

Центр одного из уездов губернии (не считая главного) сегодня является центром одной из областей России

- ☐ А
- ☒ Б
- ☐ обоим
- ☐ ни одному

1 балл

Большинство населения губернии составляли русские

- ☐ А
- ☐ Б
- ☒ обоим
- ☐ ни одному

1 балл

На момент, отображённый на карте, губерния граничила менее чем с пятью другими губерниями

- ☐ А
- ☐ Б
- ☐ обоим
- ☒ ни одному

1 балл

За решение задачи 10 баллов

Если все варианты одновременно не помещаются в окно браузера, можно воспользоваться сочетанием клавиш `ctrl` и `(-)` (`cmd` и `(-)` для Mac) для уменьшения масштаба окна

Перед Вами пары названий картин некоторых русских художников XVIII–XIX веков и фрагменты полотен этих же авторов. Соотнесите каждую пару произведений с фрагментом другой работы этого художника.

«Охотники на привале», «Чаепитие в Мытищах»



«Итальянский полдень», «Всадница»




«Гумно», «Жнецы»



«Девятый вал», «Синопское сражение»



«Рожь», «Утро в сосновом лесу»



«Портрет Марии Лопухиной», «Екатерина II на прогулке в Царскосельском парке»



«Анкор, ещё анкор», «Сватовство майора»



«Пётр допрашивает царевича Алексея в Петергофе», «Тайная вечеря»



«Портрет Н. В. Гоголя», «Явление Христа народу»



«Неизвестная», «Неутешное горе»



«Кружевница», «Автопортрет на фоне окна, с видом на Кремль»



«Лунная ночь на Днепре», «Берёзовая роща»



Доступные варианты ответов:

«Охотники на привале», «Чаепитие в Мытищах»

«Лунная ночь на Днепре», «Берёзовая роща»

«Гумно», «Жнецы»

«Рожь», «Утро в сосновом лесу»

«Кружевница», «Автопортрет на фоне окна, с видом на Кремль»

«Портрет Марии Лопухиной», «Екатерина II на прогулке в Царскосельском парке»

«Итальянский полдень», «Всадница»

«Неизвестная», «Неутешное горе»

«Анкор, ещё анкор», «Сватовство майора»

«Пётр допрашивает царевича Алексея в Петергофе», «Тайная вечеря»

«Девятый вал», «Синопское сражение»

«Портрет Н. В. Гоголя», «Явление Христа народу»

Формула вычисления баллов: 0-12 1-11 2-10 3-9 4-8 5-7 6-6 7-5 8-4 9-3 10-2 11-1 12-0

За решение задачи **12 баллов**

Если все варианты одновременно не помещаются в окно браузера, можно воспользоваться сочетанием клавиш `ctrl` и `(-)` (`cmd` и `(-)` для Mac) для уменьшения масштаба окна

Перед Вами пары названий картин некоторых русских художников XVIII–XIX веков и фрагменты полотен этих же авторов. Соотнесите каждую пару произведений с фрагментом другой работы этого художника.

«Завтрак аристократа», «Сватовство майора»



«Тройка», «Чаепитие в Мытищах»



«Кружевница», «Автопортрет на фоне окна, с видом на Кремль»



«Гумно», «На пашне. Весна»



«Христос в пустыне», «Неутешное горе»



«Пётр допрашивает царевича Алексея в Петергофе», «Тайная вечеря»



«Лунная ночь на Днепре», «Берёзовая роща»




«Портрет Н. В. Гоголя», «Явление Христа народу»



«Итальянский полдень», «Всадница»



«Рождь», «Утро в сосновом лесу»



«Портрет Марии Лопухиной», «Екатерина II на прогулке в Царскосельском парке»



«Девятый вал», «Синопское сражение»



Доступные варианты ответов:

«Завтрак аристократа»,
«Сватовство майора»

«Девятый вал»,
«Синопское сражение»

«Кружевница»,
«Автопортрет на фоне
окна, с видом на
Кремль»

«Христос в пустыне»,
«Неутешное горе»

«Портрет Марии
Лопухиной»,
«Екатерина II на
прогулке в
Царскосельском
парке»

«Пётр допрашивает
царевича Алексея в
Петергофе», «Тайная
вечеря»

«Тройка», «Чаепитие в
Мытищах»

«Рожь», «Утро в
сосновом лесу»

«Лунная ночь на
Днепре», «Берёзовая
роща»

«Портрет Н. В. Гоголя»,
«Явление Христа
народу»

«Гумно», «На пашне.
Весна»

«Итальянский
полдень», «Всадница»

Формула вычисления баллов: 0-12 1-11 2-10 3-9 4-8 5-7 6-6 7-5 8-4 9-3 10-2 11-1 12-0

За решение задачи **12 баллов**

Перед Вами небольшие тексты с изложением событий разных периодов отечественной истории. В текстах пропущены некоторые слова и словосочетания. Заполните каждый пропуск, выбрав один из трёх вариантов.

После внезапной смерти Ивана [Великого, Калиты, **Красного**] трон унаследовал его малолетний сын Дмитрий. Улучив момент, ярлык на великое княжение [Владимирское, Киевское, Московское] в Орде получил нижегородский князь. Это нанесло удар по авторитету Москвы, но в скором времени ярлык был возвращён усилиями московских бояр и митрополита [Алексия, Петра, Феоноста]. С освобождением Москвы силами Второго ополчения Смута не завершилась окончательно: серьёзные силы группировались вокруг мятежного атамана [Заруцкого, Ляпунова, Трубецкого]. Лишь в 1615 году царским воеводам удалось изгнать его из Астрахани, привезти в Москву и казнить. Бывшая царица [Мария Милославская, **Марина Мнишек**, Мария Нагая], сопровождавшая атамана, была заточена в монастырь, а её малолетний сын, также известный по прозвищу [«Воренок», «Иван Внук», «Иван Молодой»], – казнён. Если к концу XVII в Московском государстве насчитывалось около 30 [верфей, **мануфактур**, фабрик], то в правление Петра I их число превысило 180. Быстрыми темпами развивалась металлургия, новые заводы на [Алтае, Кавказе, **Урале**] стали крупнейшими в мире металлургическими предприятиями. Вопросами горной промышленности занималась [коммерц-коллегия, камер-коллегия, **берг-коллегия**], с разрешения этого ведомства жители России могли искать полезные ископаемые и основывать заводы. Классическим образцом [классицизма, реализма, **сентиментализма**] в русской литературе служит повесть [«Княжна Мери», «**Бедная Лиза**», «Светлана»], написанная известным историком [Карамзиным, Соловьевым, Татищевым]. Любовные отношения дворянина и крестьянки, вокруг которых развивается сюжет, заканчиваются трагически – девушка погибает.

Формула вычисления баллов: 0-12 1-11 2-10 3-9 4-8 5-7 6-6 7-5 8-4 9-3 10-2 11-1 12-0

За решение задачи **12 баллов**

Перед Вами небольшие тексты с изложением событий разных периодов отечественной истории. В текстах пропущены некоторые слова и словосочетания. Заполните каждый пропуск, выбрав один из трёх вариантов.

После казни в Орде князя [Брячислава Изяславича, Всеволода Мстиславича, **Михаила Ярославича**] Тверь сохранила статус главного города Северо-Восточной Руси – ярлык на великое княжение [**Владимирское**, Киевское, Московское] достался сыновьям покойного. Но оба, в конечном счёте, разделили судьбу отца: один был казнён в Орде за убийство московского князя [Даниила Александровича, Ивана Даниловича, **Юрия Даниловича**], другой – за участие в антиордынском восстании в Твери. Ключевым сигналом к началу организованной борьбы с интервентами стал призыв патриарха [**Гермогена**, Иова, Филарета]. В Рязани против поляков выступил воевода [Заруцкий, **Ляпунов**, Пожарский]. Именно этот город стал центром [**Первого ополчения**, Второго ополчения, Третьего ополчения] – оттуда по русским городам рассылались грамоты с призывами к борьбе с захватчиками. В самом конце правления Петра I в столице империи открылась [**Академия наук**, Славяно-греко-латинская академия, Школа морских и навигацких наук]. В отсутствие национальных кадров туда были приглашены видные европейские учёные, в том числе математик [Гаусс, Ньютон, **Эйлер**]. К новому учреждению были причислены научная библиотека и музей, который назывался [**Кунсткамера**, Манеж, Эрмитаж]. Их посещение вскоре стало свободным и бесплатным. [**Державин**, Сумароков, Фонвизин] был не только видным государственным деятелем, но и знаменитым поэтом. Известность ему принесла ода [«Россиада», «Телемахида», **«Фелица»**], восхвалявшая императрицу [Анну Иоанновну, Елизавету Петровну, **Екатерину II**].

Формула вычисления баллов: 0-12 1-11 2-10 3-9 4-8 5-7 6-6 7-5 8-4 9-3 10-2 11-1 12-0

За решение задачи **12 баллов**

Даты отечественной истории. Вариант №1

#1111044

Если все варианты одновременно не помещаются в окно браузера, можно воспользоваться сочетанием клавиш `ctrl` и `(-)` (`cmd` и `(-)` для Mac) для уменьшения масштаба окна

Перед Вами список событий отечественной истории XVIII – XIX веков, а также перечень годов, к которым эти события относятся. Соотнесите каждое событие с соответствующим годом.

Смерть племянника Елизаветы Петровны

1762

Смерть последней жены первого
российского императора

1727

Смерть старшего брата великого князя
Константина Павловича

1825

Мирный договор, подписанный на
территории современной Сербии

1739

Мирный договор, подписанный на
территории современной Румынии

1791

Мирный договор, подписанный на
территории современной Болгарии

1774

Последний раздел Речи Посполитой

1795

Сражение, прозванное «матерью
Полтавской баталии»

1708

Последнее сражение в военной карьере
Суворова

1799

Последнее сражение в военной карьере
Багратиона

1812

Последнее сражение в военной карьере
Наполеона

1815

Рождение автора поэм «Бородино» и
«Мцыри»

1814

Доступные варианты ответов:

1812

1799

1815

1708

1814

1774

1791

1825

1762

1795

1739

1727

Формула вычисления баллов: 0-12 1-11 2-10 3-9 4-8 5-7 6-6 7-5 8-4 9-3 10-2 11-1 12-0

За решение задачи **12 баллов**

Даты отечественной истории. Вариант №2

#1111045

Если все варианты одновременно не помещаются в окно браузера, можно воспользоваться сочетанием клавиш `ctrl` и `(-)` (`cmd` и `(-)` для Mac) для уменьшения масштаба окна

Перед Вами список событий отечественной истории XVIII – XIX веков, а также перечень годов, к которым эти события относятся. Соотнесите каждое событие с соответствующим годом.

Смерть внучки Алексея Михайловича,
двоюродной бабушки Ивана VI

1740

Смерть второй жены первого российского
императора

1727

Смерть самого старшего из внуков
Екатерины II

1825

Мирный договор, подписанный на
территории современной Финляндии

1809

Мирный договор, подписанный на
территории современной Румынии

1711

Мирный договор, подписанный на
территории современного Ирана

1828

Первый раздел Речи Посполитой

1772

Сражение Северной войны, прозванное
современниками «конфузией»

1700

Последнее сражение в военной карьере
Кутузова

1813

Последнее сражение в военной карьере
Багратиона

1812

Последнее сражение в военной карьере
Наполеона

1815

Рождение автора поэм «Бахчисарайский
фонтан» и «Полтава»

1799

Доступные варианты ответов:

1727

1825

1711

1700

1828

1772

1740

1815

1813

1812

1809

1799

Формула вычисления баллов: 0-12 1-11 2-10 3-9 4-8 5-7 6-6 7-5 8-4 9-3 10-2 11-1 12-0

За решение задачи **12 баллов**

Если все варианты одновременно не помещаются в окно браузера, можно воспользоваться сочетанием клавиш `ctrl` и `(-)` (`cmd` и `(-)` для Mac) для уменьшения масштаба окна

Перед Вами список утверждений о распространённых мужских именах, а также перечень самих имён, к которым они относятся. Соотнесите каждое утверждение с соответствующим именем.

Так не звали ни одного царя из династии Романовых, но так звали святого, в честь которого назывался один из орденов Российской империи

Андрей

Так звали отца императора, который умер в Москве накануне свадьбы

Алексей

Так звали одного из лидеров декабристов, одного из членов Негласного комитета, а также русского императора, убитого в результате заговора

Павел

Так звали трёх русских императоров – деда и двух его внуков

Пётр

Так звали человека, чьё загадочное убийство стало важной предпосылкой Смуты, и князя, при активном участии которого Смута в России прекратилась

Дмитрий

Так звали императора, в правление которого Россия воевала и с Францией, и с Швецией, и с Турцией, и с Ираном

Александр

Так звали одного из членов Негласного комитета и одного из братьев императора Александра I

Николай

Так звали известного русского поэта, погибшего на дуэли, и одного из сыновей императора Павла I

Михаил

Так звали отца и сына, увековеченных на знаменитой картине Репина

Иван

Так звали великого князя, в правление которого русским землям угрожало нашествие войск Тамерлана

Василий

Доступные варианты ответов:

Михаил

Александр

Алексей

Николай

Пётр

Василий

Павел

Иван

Дмитрий

Андрей

Формула вычисления баллов: 0-10 1-9 2-8 3-7 4-6 5-5 6-4 7-3 8-2 9-1 10-0

За решение задачи **10 баллов**

Если все варианты одновременно не помещаются в окно браузера, можно воспользоваться сочетанием клавиш `ctrl` и `(-)` (`cmd` и `(-)` для Mac) для уменьшения масштаба окна

Перед Вами список утверждений о распространённых женских именах, а также перечень самих имён, к которым они относятся. Соотнесите каждое утверждение с соответствующим именем.

Так звали жену одного из братьев Петра I и знаменитую русскую крепостную актрису

Прасковья

Так звали бабушку Елизаветы Петровны по отцовской линии

Наталья

Так звали жён первого и последнего правителей Московского государства в XV веке

Софья

Так звали дочь и внучку Ивана V

Анна

Так звали императрицу, в честь которой был назван дворец, где находилась Янтарная комната

Екатерина

Так звали жену императора, при котором в составе Российской империи было создано Царство Польское

Елизавета

Так звали первую невестку Натальи Нарышкиной

Евдокия

Так звали мать царя, при котором к России была присоединена Астрахань

Елена

Так звали жену царя, в правление которого в России было учреждено патриаршество

Ирина

Так звали матерей четырёх русских царей, правивших в XIX веке

Мария

Доступные варианты ответов:

Елена

Елизавета

Наталья

Евдокия

Анна

Мария

Софья

Ирина

Екатерина

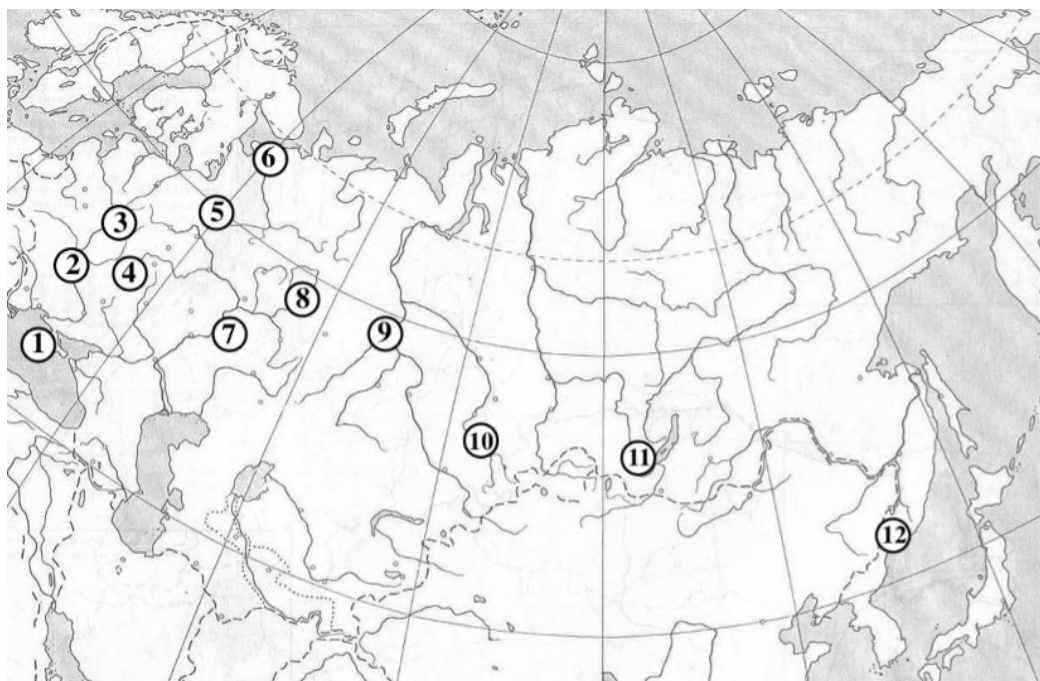
Прасковья

Формула вычисления баллов: 0-10 1-9 2-8 3-7 4-6 5-5 6-4 7-3 8-2 9-1 10-0

За решение задачи **10 баллов**

*Если все варианты одновременно не помещаются в окно браузера, можно воспользоваться сочетанием клавиш **ctrl** и **(-)** (**cmd** и **(-)** для Mac) для уменьшения масштаба окна*

На карте обозначено местонахождение двенадцати городов, сыгравших заметную роль в истории российского государства. Ниже приведены гербы этих городов. Соотнесите каждый город с соответствующим гербом.




1.




2.



3.



4.



5.



6.



7.



8.



9.



10.




11.



12.



Доступные варианты ответов:

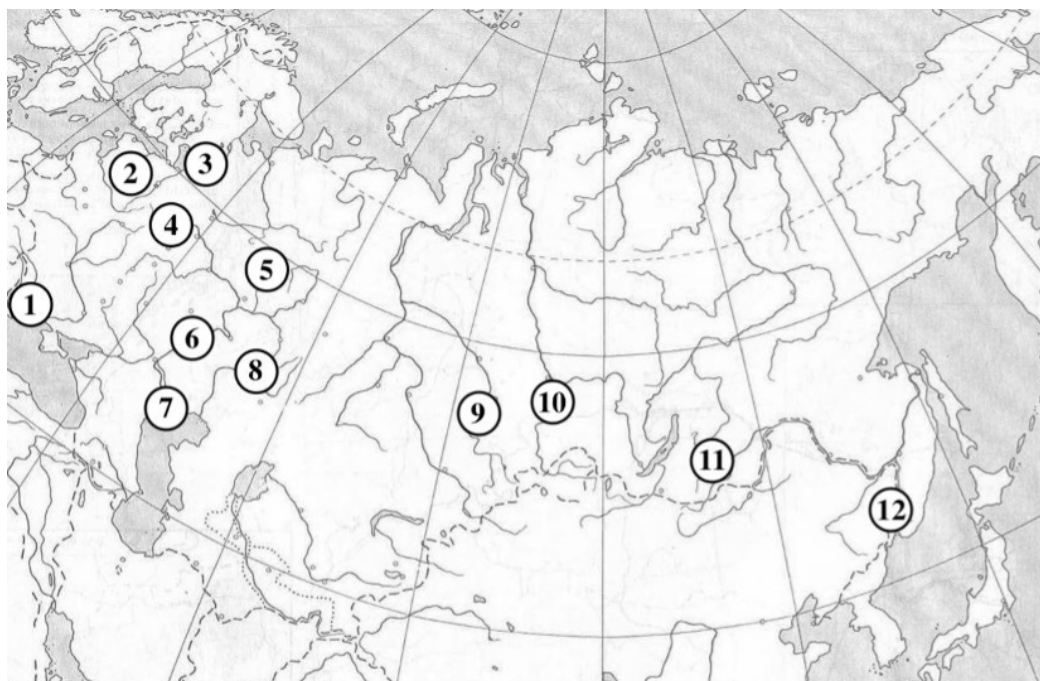


Формула вычисления баллов: 0-12 1-11 2-10 3-9 4-8 5-7 6-6 7-5 8-4 9-3 10-2 11-1 12-0


За решение задачи **12 баллов**

*Если все варианты одновременно не помещаются в окно браузера, можно воспользоваться сочетанием клавиш **ctrl** и **(-)** (**cmd** и **(-)** для Mac) для уменьшения масштаба окна*

На карте обозначено местонахождение двенадцати городов, сыгравших заметную роль в истории российского государства. Ниже приведены гербы этих городов. Соотнесите каждый город с соответствующим гербом.



1.



2.



3.




4.



5.



6.



7.



8.



9.



10.




11.



12.



Доступные варианты ответов:



Формула вычисления баллов: 0-12 1-11 2-10 3-9 4-8 5-7 6-6 7-5 8-4 9-3 10-2 11-1 12-0

За решение задачи **12 баллов**

Знаменитые монастыри. Вариант №1

#1111050

Если все варианты одновременно не помещаются в окно браузера, можно воспользоваться сочетанием клавиш `ctrl` и `(-)` (`cmd` и `(-)` для Mac) для уменьшения масштаба окна

Перед Вами список фактов о знаменитых православных монастырях, сыгравших заметную роль в истории российского государства. Соотнесите каждый факт с названием соответствующего монастыря.

Александрo-Невская лавра

Основан при Петре I

Валаамский монастырь

Находится на островах

Донской монастырь

На кладбище этого московского монастыря погребены авторы «Философических писем» и «Россиады»

Иосифо-Волоцкий монастырь

Находится неподалёку от старейшего города Московской области

Кирилло-Белозерский монастырь

В этом монастыре долгое время жил идейный лидер нестяжателей

Новодевичий монастырь

В монастыре жили вдовы Фёдора Иоанновича и Василия Шуйского, а также сёстры и первая жена Петра I

Новоиерусалимский монастырь

Основан патриархом, который впоследствии был извержен из священства

Оптина пустынь

Находится неподалёку от города, который монголы прозвали «злым городом»

Почаевская лавра

Находится за пределами России

Псково-Печерский монастырь

На территории этого монастыря похоронен ряд предков Пушкина, а сам он покоится в другом монастыре неподалёку

Троице-Сергиева лавра

На территории этого монастыря укрывался Пётр I во время последнего конфликта с Софьей

Ферапонтов монастырь

В соборе, расположенном на территории монастыря, сохранилась единственная достоверная роспись мастера Дионисия

Доступные варианты ответов:

Находится неподалёку от города, который монголы прозвали «злым городом»

Находится за пределами России

На кладбище этого московского монастыря погребены авторы «Философических писем» и «Россиады»

На территории этого монастыря укрывался Пётр I во время последнего конфликта с Софьей

Основан патриархом, который впоследствии был извержен из священства

В монастыре жили вдовы Фёдора Иоанновича и Василия Шуйского, а также сёстры и первая жена Петра I

В соборе, расположенном на территории монастыря, сохранилась единственная достоверная роспись мастера Дионисия

Находится неподалёку от старейшего города Московской области

В этом монастыре долгое время жил идейный лидер нестяжателей

На территории этого монастыря похоронен ряд предков Пушкина, а сам он покоится в другом монастыре неподалёку

Находится на островах

Основан при Петре I

Формула вычисления баллов: 0-12 1-11 2-10 3-9 4-8 5-7 6-6 7-5 8-4 9-3 10-2 11-1 12-0

За решение задачи **12 баллов**

Знаменитые монастыри. Вариант №2

#1111051

Если все варианты одновременно не помещаются в окно браузера, можно воспользоваться сочетанием клавиш `ctrl` и `(-)` (`cmd` и `(-)` для Mac) для уменьшения масштаба окна

Перед Вами список фактов о знаменитых православных монастырях, сыгравших заметную роль в истории российского государства. Соотнесите каждый факт с названием соответствующего монастыря.

Александрo-Невская лавра

Основан при Петре I

Данилов монастырь

Основан сыном Александра Невского

Иосифо-Волоцкий монастырь

Находится неподалёку от старейшего города Московской области

Ипатьевский монастырь

Находится на территории города на Волге, который с конца XVIII века был центром одной из губерний Российской империи

Кирилло-Белозерский монастырь

В этом монастыре долгое время жил идейный лидер нестяжателей

Киево-Печерская лавра

В конце XVI века монастырём безуспешно пытались завладеть унияты

Коренная пустынь

Основан на месте, где, по преданию, была обретена знаменитая чудотворная икона Божьей матери

Новоиерусалимский монастырь

Основан патриархом, который впоследствии был извержен из священства

Соловецкий монастырь

Во время Крымской войны подвергался бомбардировкам английских кораблей

Троице-Сергиева лавра

На территории этого монастыря укрывался Пётр I во время последнего конфликта с Софьей

Ферапонтов монастырь

В соборе, расположенном на территории монастыря, сохранилась единственная достоверная роспись мастера Дионисия

Юрьев монастырь

Находится на берегу реки, соединяющей озеро Ильмень и Ладожское озеро

Доступные варианты ответов:

Основан патриархом,
который впоследствии
был извержен из
священства

Во время Крымской
войны подвергался
бомбардировкам
английских кораблей

Находится неподалёку
от старейшего города
Московской области

В соборе,
расположенном на
территории монастыря,
сохранилась
единственная
достоверная роспись
мастера Дионисия

Основан на месте, где,
по преданию, была
обретена знаменитая
чудотворная икона
Божьей матери

В конце XVI века
монастырём
безуспешно пытались
завладеть унияты

Находится на берегу
реки, соединяющей
озеро Ильмень и
Ладожское озеро

Находится на
территории города на
Волге, который с конца
XVIII века был центром
одной из губерний
Российской империи

В этом монастыре
долгое время жил
идейный лидер
нестяжателей

На территории этого
монастыря укрывался
Пётр I во время
последнего конфликта
с Софьей

Основан сыном
Александра Невского

Основан при Петре I


Формула вычисления баллов: 0-12 1-11 2-10 3-9 4-8 5-7 6-6 7-5 8-4 9-3 10-2 11-1 12-0

За решение задачи **12 баллов**

Если все варианты одновременно не помещаются в окно браузера, можно воспользоваться сочетанием клавиш `ctrl` и `(-)` (`cmd` и `(-)` для Mac) для уменьшения масштаба окна

Страницы жизни многих героев Великой Отечественной войны – от высокопоставленных военачальников до детей военной поры – легли в основу литературных сюжетов. Соотнесите названия литературных произведений и портреты людей, ставших персонажами или прототипами персонажей этих произведений.

«Волоколамское шоссе»



«Жила, была»



«Молодая гвардия»



«Повесть о Зое и Шуре»



«Повесть о настоящем человеке»



«Трубка снайпера»



«Улица младшего сына»



«Человек, для которого не было тайн»






«Честь»



«Это было под Ровно»



Доступные варианты ответов:



Формула вычисления баллов: 0-10 1-9 2-8 3-7 4-6 5-5 6-4 7-3 8-2 9-1 10-0

За решение задачи **10 баллов**

