

Подмосковная олимпиада школьников по истории

История. 7 класс. Ограничение по времени 120 минут

Лица на банкнотах. Вариант №1

#1110934

Перед Вами банкноты с портретами деятелей, сыгравших заметную роль в отечественной истории. Ниже приведён перечень фактов. Определите, какому из деятелей соответствует каждый факт.

А.



Б.



Был прямым потомком Рюрика

- ☐ А
- ☐ Б
- ☒ обоим
- ☐ ни одному

1 балл

Был женат на иностранке

- ☐ А
- ☐ Б
- ☒ обоим
- ☐ ни одному

1 балл

При нём Древнерусское государство воевало с печенегами

- ☐ А
- ☐ Б
- ☒ обоим
- ☐ ни одному

1 балл

При нём Древнерусское государство воевало с половцами

- ☐ А
- ☐ Б
- ☐ обоим
- ☒ ни одному

1 балл

Имел более двух сыновей

- ☐ А
- ☐ Б
- ☒ обоим
- ☐ ни одному

1 балл

Исповедовал язычество

- ☒ А
- ☐ Б
- ☐ обоим
- ☐ ни одному

1 балл

Бывал в Великом Новгороде

- ☐ А
- ☐ Б
- ☒ обоим
- ☐ ни одному

1 балл

Бывал во Владимире-на-Клязьме

- ☐ А
- ☐ Б
- ☐ обоим
- ☒ ни одному

1 балл

Причислен к лику святых

- ☐ А
- ☐ Б
- ☒ обоим
- ☐ ни одному

1 балл

Его останки покоятся в Софийском соборе в Киеве

- ☐ А
- ☒ Б
- ☐ обоим
- ☐ ни одному

1 балл

За решение задачи **10 баллов**

Лица на банкнотах. Вариант №2

#1110935

Перед Вами банкноты с портретами деятелей, сыгравших заметную роль в отечественной истории. Ниже приведён перечень фактов. Определите, какому из деятелей соответствует каждый факт.

А.



Б.



Был прямым потомком Олега Вещего

- ☐ А
- ☐ Б
- ☐ обоим
- ☒ ни одному

1 балл

Был женат на дочери полоцкого князя

- ☒ А
- ☐ Б
- ☐ обоим
- ☐ ни одному

1 балл

При нём Древнерусское государство воевало с печенегами

- ☐ А
- ☐ Б
- ☐ обоим
- ☒ ни одному

1 балл

При нём Древнерусское государство воевало с монголами

- ☐ А
- ☐ Б
- ☐ обоим
- ☒ ни одному

1 балл

Не имел сыновей

- ☐ А
- ☐ Б
- ☐ обоим
- ☒ ни одному

1 балл

Исповедовал христианство

- ☐ А
- ☐ Б
- ☒ обоим
- ☐ ни одному

1 балл

Княжил в Великом Новгороде

- ☐ А
- ☐ Б
- ☒ обоим
- ☐ ни одному

1 балл

Княжил во Владимире-на-Клязьме

- ☐ А
- ☐ Б
- ☐ обоим
- ☒ ни одному

1 балл

Был канонизирован

- ☐ А
- ☐ Б
- ☒ обоим
- ☐ ни одному

1 балл

Его останки покоятся в Софийском соборе в Киеве

- ☐ А
- ☒ Б
- ☐ обоим
- ☐ ни одному

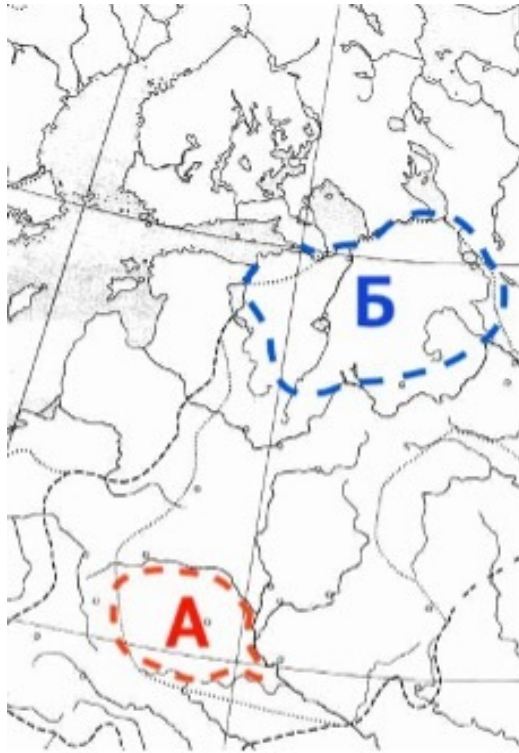
1 балл

За решение задачи **10 баллов**

Древнеславянские племена. Вариант №1

#1110936

Перед Вами карта, на которой отмечены территории проживания двух древнеславянских племён. Ниже приведён перечень фактов. Определите, какому из племён соответствует каждый факт.



Ключевым центром этого племени был город Искоростень

- ☒ А
- ☐ Б
- ☐ обоим
- ☐ ни одному

1 балл

Ключевым центром этого племени был город Чернигов

- ☐ А
- ☐ Б
- ☐ обоим
- ☒ ни одному

1 балл

Севернее этого племени жили дреговичи

- ☒ А
- ☐ Б
- ☐ обоим
- ☐ ни одному

1 балл

Севернее этого племени жили вятичи

- ☐ А
- ☐ Б
- ☐ обоим
- ☒ ни одному

1 балл

Территория, которую населяло это племя, в настоящее время входит в состав Украины

- ☒ А
- ☐ Б
- ☐ обоим
- ☐ ни одному

1 балл

На территории, которую населяло это племя, находится озеро Ильмень

- ☐ А
- ☒ Б
- ☐ обоим
- ☐ ни одному

1 балл

По территории, которую населяло это племя, протекает река Терек

- ☐ А
- ☐ Б
- ☐ обоим
- ☒ ни одному

1 балл

Одним из правителей этого племени в X веке был Мал

- ☒ А
- ☐ Б
- ☐ обоим
- ☐ ни одному

1 балл

Согласно летописи, представители этого племени убили князя Игоря

- ☒ А
- ☐ Б
- ☐ обоим
- ☐ ни одному

1 балл

Согласно летописи, представители этого племени убили князя Святослава

- ☐ А
- ☐ Б
- ☐ обоим
- ☒ ни одному

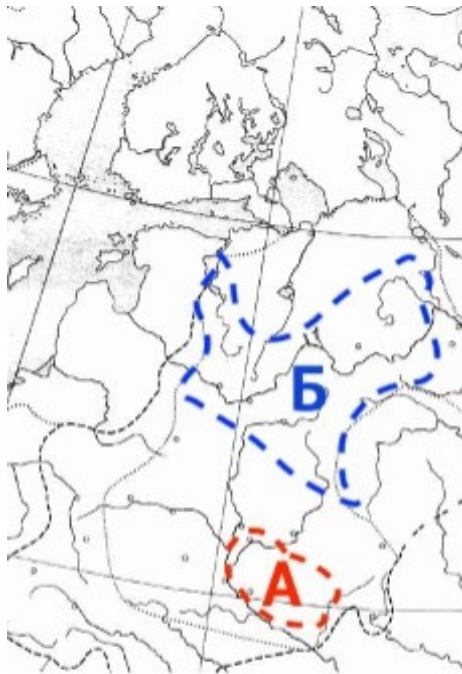
1 балл

За решение задачи **10 баллов**

Древнеславянские племена. Вариант №2

#1110937

Перед Вами карта, на которой отмечены территории проживания двух древнеславянских племён. Ниже приведён перечень фактов. Определите, какому из племён соответствует каждый факт.



Одним из ключевых центров этого племени был город Искоростень

- ☐ А
- ☐ Б
- ☐ обоим
- ☒ ни одному

1 балл

Одним из ключевых центров этого племени был город Смоленск

- ☐ А
- ☒ Б
- ☐ обоим
- ☐ ни одному

1 балл

По соседству с этим племенем жили радимичи

- ☐ А
- ☐ Б
- ☒ обоим
- ☐ ни одному

1 балл

По соседству с этим племенем жили белые хорваты

- ☐ А
- ☐ Б
- ☐ обоим
- ☒ ни одному

1 балл

Территория, которую населяло это племя, в настоящее время входит в состав нескольких государств

- ☐ А
- ☒ Б
- ☐ обоим
- ☐ ни одному

1 балл

На территории, которую населяло это племя, находится озеро Ильмень

- ☐ А
- ☐ Б
- ☐ обоим
- ☒ ни одному

1 балл

По территории, которую населяло это племя, протекает река Десна

- ☒ А
- ☐ Б
- ☐ обоим
- ☐ ни одному

1 балл

Ответвлением этого племени были полочане

- ☐ А
- ☒ Б
- ☐ обоим
- ☐ ни одному

1 балл

Согласно летописи, представители этого племени убили князя Игоря

- ☐ А
- ☐ Б
- ☐ обоим
- ☒ ни одному

1 балл

Согласно летописи, представители этого племени убили князя Святослава

- ☐ А
- ☐ Б
- ☐ обоим
- ☒ ни одному

1 балл

За решение задачи **10 баллов**

Достопримечательности. Вариант №1

#1110938

Если все варианты одновременно не помещаются в окно браузера, можно воспользоваться сочетанием клавиш `ctrl` и `(-)` (`cmd` и `(-)` для Mac) для уменьшения масштаба окна

Перед Вами фотографии всемирно известных достопримечательностей и отрывки из дневников наших соотечественников с описанием своих впечатлений от их посещения. Соотнесите каждое изображение с отрывком.

«Восточный фронтон сего чтилища Минервы покрыт был изваяниями если не самого Фидия, то любимого ученика его Огоракрита»



«Пресловутая, наклонённая в одну сторону, башня, она же и колокольня, в восемь ярусов, основана была в 1174 г., что доказывает надпись у входа в неё»




«Здесь погребены под его плитами короли, герцоги, полководцы и великие люди Англии. Сплошной ряд художественных памятников украшает все стены и отдельные кельи этого замысловатого здания»




«На одном из мраморных столбов, справа, виднеется сабельный удар, сделанный завоевателем Царьграда Магомедом II, въехавшим в храм на коне по телам 10 тысяч убитых греков»



«...Лучшее произведение искусства, крупнейшее, если не величайшее выражение отвлечённой идеи... встречает здесь всякого нового пришельца и высится над тысячами кораблей, пароходов, фабрик и машин»



«Огромное готическое здание действительно подавляюще красиво. Мы попытались войти внутрь, там мама что-то громко воскликнула, между тем в соборе шла воскресная служба»



«Собор называется Санта Мария дель Фиоре, т. е. Святая Мария, – цвет (лилия). Над входной дверью помещено мозаичное изображение, представляющее коронавание Богоматери...»




«...Представляет из себя огромную голову с отбитым носом (и, кажется, бородой) из цельного камня. Внутри головы, говорят, был языческий храм»



«Двухсотлетняя неприкосновенность и святость дворцов... были нарушены. Тайны раскрыты. Алый город перестал быть Запретным»



«...Он массивен, величественен и громаден. В нём несколько этажей, вот места, где сидели патриции, вот ложа императора. Выше несколько этажей, где в ложах помещались другие зрители»



«Осматривали дворец Людовиков XIV, XV, XVI, апартаменты, зеркальную галерею. Парк. Катались на коньках»



«Я с большим уважением глядел на почтенные разбитые статуи и почерневшие картины; вначале было очень интересно, потом скучно, затем мучительно»



Доступные варианты ответов:

«...Лучшее произведение искусства, огромное, если не величайшее выражение отвлечённой идеи... встречает здесь всякого нового пришельца и высится над тысячами кораблей, пароходов, фабрик и машин»

«...Представляет из себя огромную голову с отбитым носом (и, кажется, бородой) из цельного камня. Внутри головы, говорят, был языческий храм»

«Пресловутая, наклонённая в одну сторону, башня, она же и колокольня, в восемь ярусов, основана была в 1174 г., что доказывает надпись у входа в неё»

«Я с большим уважением глядел на почтенные разбитые статуи и почерневшие картины; вначале было очень интересно, потом скучно, затем мучительно»

«Двухсотлетняя неприкосновенность и святость дворцов... были нарушены. Тайны раскрыты. Алый город перестал быть Запретным»

«...Он массивен, величественен и громаден. В нём несколько этажей, вот места, где сидели патриции, вот ложа императора. Выше несколько этажей, где в ложах помещались другие зрители»

«Здесь погребены под его плитами короли, герцоги, полководцы и великие люди Англии. Сплошной ряд художественных памятников украшает все стены и отдельные кельи этого замысловатого здания»

«Осматривали дворец Людовиков XIV, XV, XVI, апартаменты, зеркальную галерею. Парк. Катались на коньках»

«Огромное готическое здание действительно подавляюще красиво. Мы попытались войти внутрь, там мама что-то громко воскликнула, между тем в соборе шла воскресная служба»

«На одном из мраморных столбов, справа, виднеется сабельный удар, сделанный завоевателем Царьграда Магомедом II, въехавшим в храм на коне по телам 10 тысяч убитых греков»

«Собор называется Санта Мария дель Фиоре, т. е. Святая Мария, – цвет (лилия). Над входною дверью помещено мозаическое изображение, представляющее коронование Богоматери...»

«Восточный фронтон сего чтилища Минервы покрыт был изваяниями если не самого Фидия, то любимого ученика его Огоракрита»

За решение задачи **12 баллов**

Достопримечательности. Вариант №2

#1110939

Если все варианты одновременно не помещаются в окно браузера, можно воспользоваться сочетанием клавиш `ctrl` и `(-)` (`cmd` и `(-)` для Mac) для уменьшения масштаба окна

Перед Вами фотографии всемирно известных достопримечательностей и отрывки из дневников наших соотечественников с описанием своих впечатлений от их посещения. Соотнесите каждое изображение с отрывком.


«Восточный фронто́н сего чтилища Минервы покрыт был изваяниями если не самого Фидия, то любимого ученика его Огоракрита»



«Я с большим уважением глядел на почтенные разбитые статуи и почерневшие картины; вначале было очень интересно, потом скучно, затем мучительно»



«Она поразила меня своими громадными размерами: сажень 50 (квадратных). В ней есть лифт, который поднимается на предпоследнюю площадку башни»



«Пресловутая, наклонённая в одну сторону, башня, она же и колокольня, в восемь ярусов, основана была в 1174 г., что доказывает надпись у входа в неё»



«Красота всего сооружения поражает, но и понимаешь, что после всего этого должна была быть во Франции революция»



«Англичане-туристы уже взбирались наверх. Но мы не решились подниматься на такую высоту: без проводников-арабов, в белых балахонах, невозможно подняться, а они иногда злоупотребляют: введши наверх, требуют другую плату, чем договорились, иначе отказываются вести назад»



«Мы провели более двух часов в созерцании и в рассматривании подробном... всех его памятников и в чтении надгробных надписей. [...] Ни в одной истории не встречается столько царевубийств, как в английской»




«Мы опять выходим из полумрака и затхлого воздуха на солнце и идем по двору с потухшими курильницами и нелюдимыми галереями кругом. Мы входим во дворец, такой же мрачный и пустынный, как и прежние»



«...О какая прелесть, какая мощь и тихое настроение, там Рафаэль спит вечным сном»




«Огромное готическое здание действительно подавляюще красиво. Мы попытались войти внутрь, там мама что-то громко воскликнула, между тем в соборе шла воскресная служба»



«Собор называется Санта Мария дель Фиоре, т. е. Святая Мария, – цвет (лилия). Над входною дверью помещено мозаическое изображение,

представляющее коронование Богоматери...»



«Снаружи она не представляет, благодаря разным пристройкам и минаретам, особо выдающегося вида. Таких, по наружному виду, мечетей – много, с полумесяцем – вместо Креста»

Доступные варианты ответов:

«Восточный фронтон сего чтилища Минервы покрыт был изваяниями если не самого Фидия, то любимого ученика его Огоракрита»

«Англичане-туристы уже взбирались наверх. Но мы не решились подниматься на такую высоту: без проводников-арабов, в белых балахонах, невозможно подняться, а они иногда злоупотребляют: введши наверх, требуют другую плату, чем договорились, иначе отказываются вести назад»

«Пресловутая, наклонённая в одну сторону, башня, она же и колокольня, в восемь ярусов, основана была в 1174 г., что доказывает надпись у входа в неё»

«Красота всего сооружения поражает, но и понимаешь, что после всего этого должна была быть во Франции революция»

«...О какая прелесть, какая мощь и тихое настроение, там Рафаэль спит вечным сном»

«Собор называется Санта Мария дель Фиоре, т. е. Святая Мария, – цвет (лилия). Над входною дверью помещено мозаическое изображение, представляющее коронование Богоматери...»

«Я с большим уважением глядел на почтенные разбитые статуи и почерневшие картины; вначале было очень интересно, потом скучно, затем мучительно»

«Огромное готическое здание действительно подавляюще красиво. Мы попытались войти внутрь, там мама что-то громко воскликнула, между тем в соборе шла воскресная служба»

«Мы опять выходим из полумрака и затхлого воздуха на солнце и идем по двору с потухшими курильницами и нелюдимыми галереями кругом. Мы входим во дворец, такой же мрачный и пустынный, как и прежние»

«Снаружи она не представляет, благодаря разным пристройкам и минаретам, особо выдающегося вида. Таких, по наружному виду, мечетей – много,

«Она поразила меня своими громадными размерами: сажень 50 (квадратных). В ней есть лифт, который поднимается на

«Мы провели более двух часов в созерцании и в рассматривании подробном... всех его памятников и в чтении надгробных надписей. [...] Ни в одной

с полумесяцем –
вместо Креста»

предпоследнюю
площадку башни»

истории не встречается
столько царубийств,
как в английской»

Формула вычисления баллов: 0-12 1-11 2-10 3-9 4-8 5-7 6-6 7-5 8-4 9-3 10-2 11-1 12-0

За решение задачи **12 баллов**

В каждом пропуске из выпадающего списка выберите один верный ответ.

Перед Вами небольшие тексты с изложением событий разных периодов отечественной истории. В текстах пропущены некоторые слова и словосочетания. Заполните каждый пропуск, выбрав один из трёх вариантов.

В Древней Руси зодчие активно использовали [базальт, изразец, **плинфу**] – по примеру мастеров из [Булгарии, **Византии**, Скандинавии]. Одним из шедевров древнерусской архитектуры, возведённых с применением этой техники, стал Софийский собор в [Вологде, **Киеве**, Новгороде]. Многие исследователи считают, что фактически период раздробленности на Руси начался после съезда князей [у Долобского озера, в **Любече**, в Уветичах] – на нём было решено, что потомки трёх старших сыновей [Святослава Храброго, Владимира Святого, **Ярослава Мудрого**] должны владеть «отчинами», то есть территориями, полученными от отцов. Съезд проходил в замке [Андрея Боголюбского, **Владимира Мономаха**, Ивана Калиты], который также принимал в нём участие. После внезапной смерти Ивана [Великого, Калиты, **Красного**] трон унаследовал его малолетний сын Дмитрий. Улучив момент, ярлык на великое княжение [**Владимирское**, Киевское, Московское] в Орде получил нижегородский князь. Это нанесло удар по авторитету Москвы, но в скором времени ярлык был возвращён усилиями московских бояр и митрополита [**Алексия**, Петра, Феоноста]. С освобождением Москвы силами Второго ополчения Смута не завершилась окончательно: серьёзные силы группировались вокруг мятежного атамана [**Заруцкого**, Ляпунова, Трубецкого]. Лишь в 1615 году царским воеводам удалось изгнать его из Астрахани, привезти в Москву и казнить. Бывшая царица [Мария Милославская, **Марина Мнишек**, Мария Нагая], сопровождавшая атамана, была заточена в монастырь, а её малолетний сын, также известный по прозвищу [**«Воренок»**, «Иван Внук», «Иван Молодой»], – казнён.

Формула вычисления баллов: 0-12 1-11 2-10 3-9 4-8 5-7 6-6 7-5 8-4 9-3 10-2 11-1 12-0

За решение задачи **12 баллов**

В каждом пропуске из выпадающего списка выберите один верный ответ.

Перед Вами небольшие тексты с изложением событий разных периодов отечественной истории. В текстах пропущены некоторые слова и словосочетания. Заполните каждый пропуск, выбрав один из трёх вариантов.

В декорации интерьера домонгольских древнерусских храмов нередко использовалась техника [витража, лепнины, мозаики] – по примеру [Византии, Ломбардии, Скандинавии]. Среди шедевров древнерусской архитектуры, в убранстве которых сегодня можно найти использование этого приёма, – Софийский собор в [Киеве, Новгороде, Полоцке]. Многие исследователи считают, что фактически период раздробленности на Руси начался после съезда князей [у Долобского озера, в Любече, в Уветичах] – на нём было решено, что потомки трёх старших сыновей [Святослава Храброго, Владимира Святого, Ярослава Мудрого] должны владеть «отчинами», то есть территориями, полученными от отцов. Съезд проходил в замке [Андрея Боголюбского, Владимира Мономаха, Ивана Калиты], который также принимал в нём участие. После казни в Орде князя [Брячислава Изяславича, Всеволода Мстиславича, Михаила Ярославича] Тверь сохранила статус главного города Северо-Восточной Руси – ярлык на великое княжение [Владимирское, Киевское, Московское] достался сыновьям покойного. Но оба, в конечном счёте, разделили судьбу отца: один был казнён в Орде за убийство московского князя [Даниила Александровича, Ивана Даниловича, Юрия Даниловича], другой – за участие в антиордынском восстании в Твери. Ключевым сигналом к началу организованной борьбы с интервентами стал призыв патриарха [Гермогена, Иова, Филарета]. В Рязани против поляков выступил воевода [Заруцкий, Ляпунов, Пожарский]. Именно этот город стал центром [Первого ополчения, Второго ополчения, Третьего ополчения] – отсюда по русским городам рассылались грамоты с призывами к борьбе с захватчиками.

Формула вычисления баллов: 0-12 1-11 2-10 3-9 4-8 5-7 6-6 7-5 8-4 9-3 10-2 11-1 12-0

За решение задачи **12 баллов**

Даты отечественной истории. Вариант №1

#1110942

Если все варианты одновременно не помещаются в окно браузера, можно воспользоваться сочетанием клавиш `ctrl` и `(-)` (`cmd` и `(-)` для Mac) для уменьшения масштаба окна

Перед Вами список событий отечественной истории, а также перечень годов, к которым эти события относятся. Соотнесите каждое событие с соответствующим годом.

Смерть князя, который основал Владимир-на-Клязьме

1174

Смерть князя, при котором Московское княжество присоединило Псков

1533

Смерть московского государя, который первым венчался на царство

1584

Разорение монголами русского города, который был прозван ими «злым городом»

1238

Вторжение монголов на территорию страны, за правителя которой Ярослав Мудрый когда-то выдал одну из своих дочерей

1241

Разгром московскими ратями войск крымского хана на территории современной Московской области

1572

Начало затяжной войны между потомками Дмитрия Донского

1425

Событие, с которым принято связывать окончательное завершение ордынского ига на русских землях

1480

Последний поход на Москву правителя, который был сыном Гедимины и братом Кейстута

1372

Поместный собор русской церкви, созванный по инициативе одного из участников «Избранной рады»

1551

Основание монастыря, игумен которого благословил на битву с ордынцами Дмитрия Донского

1337

Присоединение к Московскому государству города, откуда происходил автор «Хождения за три моря»

1485

Доступные варианты ответов:

1533

1238

1372

1425

1584

1241

1551

1174

1572

1480

1337

1485

Формула вычисления баллов: 0-12 1-11 2-10 3-9 4-8 5-7 6-6 7-5 8-4 9-3 10-2 11-1 12-0

За решение задачи **12 баллов**

Даты отечественной истории. Вариант №2

#1110943

Если все варианты одновременно не помещаются в окно браузера, можно воспользоваться сочетанием клавиш `ctrl` и `(-)` (`cmd` и `(-)` для Mac) для уменьшения масштаба окна

Перед Вами список событий отечественной истории, а также перечень годов, к которым эти события относятся. Соотнесите каждое событие с соответствующим годом.

Смерть князя, который считается основателем Москвы

1157

Смерть князя, при котором Московское княжество присоединило Смоленск и Рязань

1533

Смерть первого московского правителя, который венчался на царство

1584

Разорение монголами русского города, который, согласно преданию, основали три брата и сестра

1240

Битва, в которой погиб великий владимирский князь, дядя Александра Невского

1238

Разгром московскими ратями войск крымского хана на территории современной Московской области

1572

Начало затяжной войны между членами московской княжеской семьи

1425

Событие, с которым принято связывать окончательное завершение ордынского ига на русских землях

1480

Последний поход на Москву князя, сыном которого был Ягайло

1372

Поместный собор русской церкви, созванный по инициативе одного из участников «Избранной рады»

1551

Основание монастыря, на территории которого похоронен Борис Годунов и члены его семьи

1337

Присоединение к Московскому государству города, откуда родом был автор «Хождения за три моря»

1485

Доступные варианты ответов:

1533

1240

1372

1425

1584

1238

1551

1157

1572

1480

1337

1485

Формула вычисления баллов: 0-12 1-11 2-10 3-9 4-8 5-7 6-6 7-5 8-4 9-3 10-2 11-1 12-0

За решение задачи **12 баллов**

Если все варианты одновременно не помещаются в окно браузера, можно воспользоваться сочетанием клавиш `ctrl` и `(-)` (`cmd` и `(-)` для Mac) для уменьшения масштаба окна

Перед Вами список утверждений о распространённых мужских именах, а также перечень самих имён, к которым они относятся. Соотнесите каждое утверждение с соответствующим именем.

Так звали одного из сыновей Юрия Долгорукого, одного из членов «Избранной рады» и одного из апостолов

Андрей

Так звали одного из сыновей Ярослава Мудрого, а также князя, при котором во Владимире был возведён Дмитриевский собор

Всеволод

Так звали князя, объединившего Галицкое и Волынское княжества в одно

Роман

Так звали русского митрополита – современника Ивана Калиты, а также знаменитого святого из Муром, жившего в XII–XIII веках

Пётр

Так звали человека, чьё загадочное убийство стало важной предпосылкой Смуты, и князя, при активном участии которого Смута в России прекратилась

Дмитрий

Так звали князя, чей сын был первым удельным князем московским

Александр

Так звали князя, который, по преданию, убил в Киеве бывших дружинников своего предшественника

Олег

Так звали царя, чей дед был родным братом первой жены Ивана IV

Михаил

Так звали отца и сына, увековеченных на знаменитой картине Репина

Иван

Так звали великого князя, в правление которого русским землям угрожало нашествие войск Тамерлана

Василий

Доступные варианты ответов:

Андрей

Александр

Василий

Дмитрий

Всеволод

Роман

Олег

Пётр

Михаил

Иван

Формула вычисления баллов: 0-10 1-9 2-8 3-7 4-6 5-5 6-4 7-3 8-2 9-1 10-0

За решение задачи **10 баллов**

Если все варианты одновременно не помещаются в окно браузера, можно воспользоваться сочетанием клавиш `ctrl` и `(-)` (`cmd` и `(-)` для Mac) для уменьшения масштаба окна

Перед Вами список утверждений о распространённых мужских именах, а также перечень самих имён, к которым они относятся. Соотнесите каждое утверждение с соответствующим именем.

Так звали жену представителя династии
Рюриковичей, убитого подданными князя
Мала

Ольга

Так звали дочь Ярослава Мудрого,
выданную замуж за венгерского короля

Анастасия

Так звали жён первого и последнего
правителей Московского государства в XV
веке

Софья

Так звали дочь Ярослава Мудрого,
выданную замуж за французского короля

Анна

Так звали жену исторического деятеля,
жестоко убитого в Москве в 1606 году

Марина

Так звали дочь Ярослава Мудрого, которая
была замужем за правителем одной из
скандинавских стран

Елизавета

Так звали жену царя, чей дед был родным
братом первой жены Ивана IV

Евдокия

Так звали мать царя, увековеченного на
знаменитой картине Репина из собрания
Государственной Третьяковской галереи

Елена

Так звали жену царя, в правление которого
в России было учреждено патриаршество

Ирина

Так звали мать исторического деятеля,
погибшего в Угличе при таинственных
обстоятельствах

Мария

Доступные варианты ответов:

Ольга

Елизавета

Мария

Марина

Анастасия

Софья

Евдокия

Анна

Елена

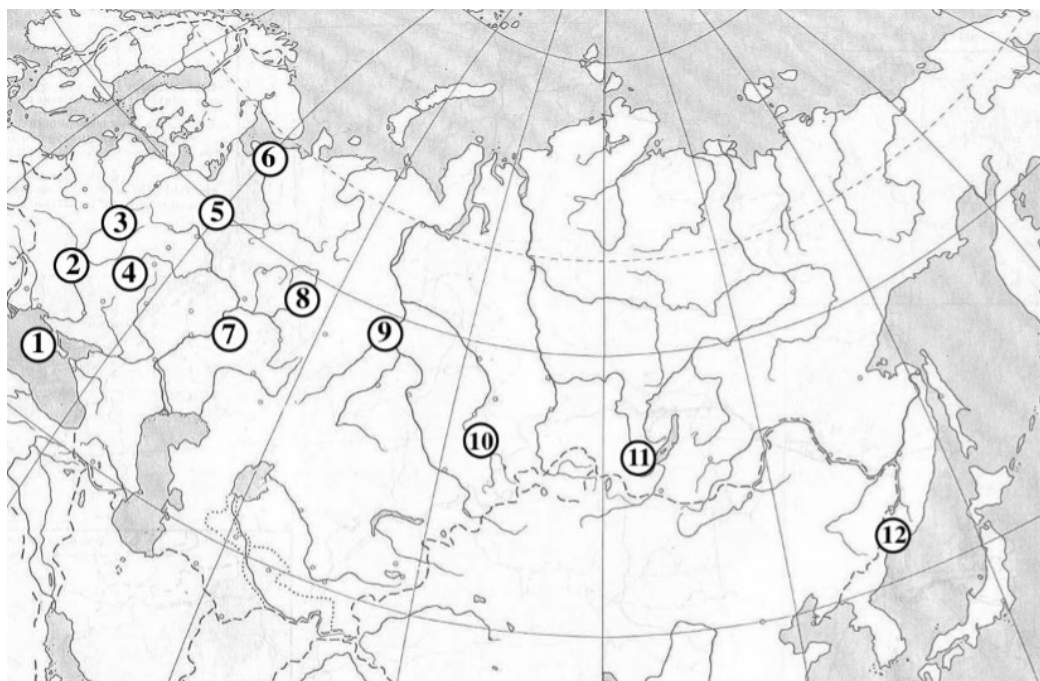
Ирина

Формула вычисления баллов: 0-10 1-9 2-8 3-7 4-6 5-5 6-4 7-3 8-2 9-1 10-0

За решение задачи **10 баллов**

*Если все варианты одновременно не помещаются в окно браузера, можно воспользоваться сочетанием клавиш **ctrl** и **(-)** (**cmd** и **(-)** для Mac) для уменьшения масштаба окна*

На карте обозначено местонахождение двенадцати городов, сыгравших заметную роль в истории российского государства. Ниже приведены гербы этих городов. Соотнесите каждый город с соответствующим гербом.




1.




2.



3.



4.



5.



6.



7.



8.



9.



10.




11.



12.



Доступные варианты ответов:

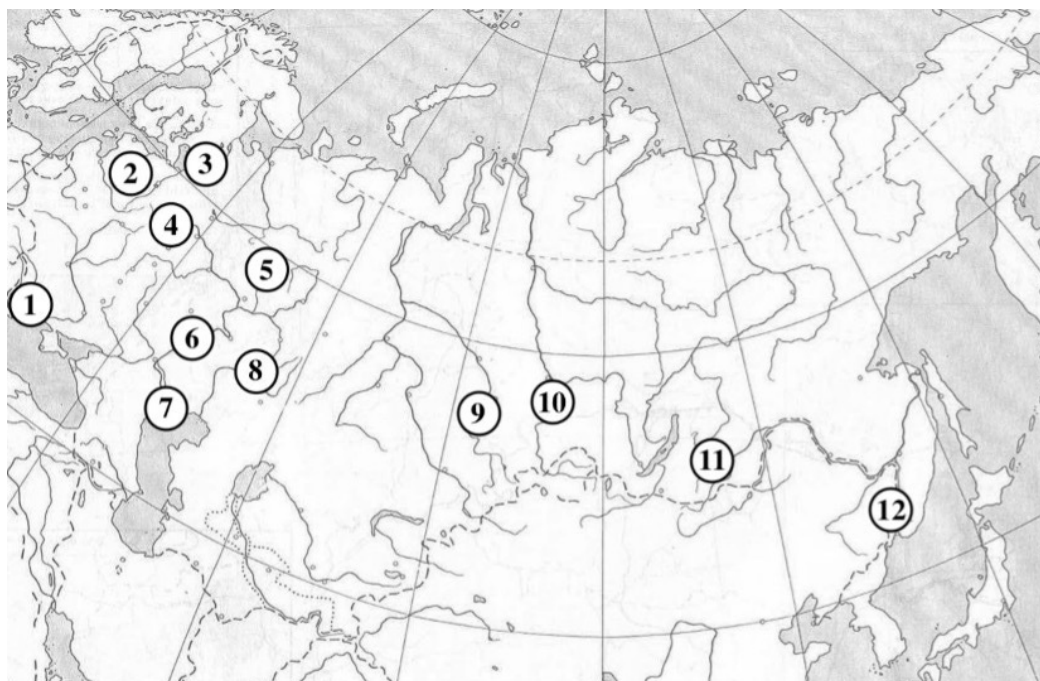


Формула вычисления баллов: 0-12 1-11 2-10 3-9 4-8 5-7 6-6 7-5 8-4 9-3 10-2 11-1 12-0


За решение задачи **12 баллов**

*Если все варианты одновременно не помещаются в окно браузера, можно воспользоваться сочетанием клавиш **ctrl** и **(-)** (**cmd** и **(-)** для Mac) для уменьшения масштаба окна*

На карте обозначено местонахождение двенадцати городов, сыгравших заметную роль в истории российского государства. Ниже приведены гербы этих городов. Соотнесите каждый город с соответствующим гербом.



1.



2.




3.




4.



5.



6.



7.



8.



9.



10.




11.



12.



Доступные варианты ответов:



Формула вычисления баллов: 0-12 1-11 2-10 3-9 4-8 5-7 6-6 7-5 8-4 9-3 10-2 11-1 12-0

За решение задачи **12 баллов**

Знаменитые монастыри. Вариант №1

#1110946

Если все варианты одновременно не помещаются в окно браузера, можно воспользоваться сочетанием клавиш `ctrl` и `(-)` (`cmd` и `(-)` для Mac) для уменьшения масштаба окна

Перед Вами список фактов о знаменитых православных монастырях, сыгравших заметную роль в истории российского государства. Соотнесите каждый факт с названием соответствующего монастыря.

Александрo-Невская лавра

На территории монастыря покоятся мощи князя, победившего немецких рыцарей в Ледовом побоище

Валаамский монастырь

Находится на островах

Донской монастырь

Основан в конце XVI века в ознаменование победы над войсками крымского хана

Иосифо-Волоцкий монастырь

Находится неподалёку от старейшего города Московской области

Кирилло-Белозерский монастырь

В этом монастыре долгое время жил идейный лидер нестяжателей

Новодевичий монастырь

В монастыре жили вдовы Фёдора Иоанновича и Василия Шуйского

Новоиерусалимский монастырь

Основан патриархом, который впоследствии был извержен из священства

Оптина пустынь

Находится неподалёку от города, который монголы прозвали «злым городом»

Почаевская лавра

Находится за пределами России

Псково-Печерский монастырь

Находится неподалёку от города, который стоит на реке Великой

Троице-Сергиева лавра

Основан религиозным деятелем, которого в миру звали Варфоломей

Ферапонтов монастырь

В соборе, расположенном на территории монастыря, сохранилась единственная достоверная роспись мастера Дионисия

Доступные варианты ответов:

В этом монастыре
долгое время жил
идейный лидер
нестяжателей

Находится неподалёку
от старейшего города
Московской области

Находится неподалёку
от города, который
монголы прозвали
«злым городом»

Находится за
пределами России

Находится на островах

Основан патриархом,
который впоследствии
был извержен из
священства

В монастыре жили
вдовы Фёдора
Иоанновича и Василия
Шуйского

Находится неподалёку
от города, который
стоит на реке Великой

Основан религиозным
деятелем, которого в
миру звали
Варфоломей

Основан в конце XVI
века в ознаменование
победы над войсками
крымского хана

На территории
монастыря покоятся
мощи князя,
победившего немецких
рыцарей в Ледовом
побоище

В соборе,
расположенном на
территории монастыря,
сохранилась
единственная
достоверная роспись
мастера Дионисия

Формула вычисления баллов: 0-12 1-11 2-10 3-9 4-8 5-7 6-6 7-5 8-4 9-3 10-2 11-1 12-0

За решение задачи **12 баллов**

Знаменитые монастыри. Вариант №2

#1110947

Если все варианты одновременно не помещаются в окно браузера, можно воспользоваться сочетанием клавиш `ctrl` и `(-)` (`cmd` и `(-)` для Mac) для уменьшения масштаба окна

Перед Вами список фактов о знаменитых православных монастырях, сыгравших заметную роль в истории российского государства. Соотнесите каждый факт с названием соответствующего монастыря.

Александрo-Невская лавра

На территории монастыря покоятся мощи князя, победившего немецких рыцарей в Ледовом побоище

Данилов монастырь

Основан сыном Александра Невского

Иосифo-Волоцкий монастырь

Находится неподалёку от старейшего города Московской области

Ипатьевский монастырь

На территории этого монастыря был призван на царство сын будущего патриарха

Кирилло-Белозерский монастырь

В этом монастыре долгое время жил идейный лидер нестяжателей

Киево-Печерская лавра

В конце XVI века монастырём безуспешно пытались завладеть униаты

Коренная пустынь

Основан на месте, где, по преданию, была обретена знаменитая чудотворная икона Божьей матери

Новоиерусалимский монастырь

Основан патриархом, который впоследствии был извержен из священства

Соловецкий монастырь

Находится на территории архипелага

Троице-Сергиева лавра

Основан религиозным деятелем, которого в миру звали Варфоломей

Ферапонтов монастырь

В соборе, расположенном на территории монастыря, сохранилась единственная достоверная роспись мастера Дионисия

Юрьев монастырь

Находится на берегу реки, соединяющей озеро Ильмень и Ладожское озеро

Доступные варианты ответов:

Основан религиозным деятелем, которого в миру звали Варфоломей

На территории этого монастыря был призван на царство сын будущего патриарха

Основан патриархом, который впоследствии был извержен из священства

В соборе, расположенном на территории монастыря, сохранилась единственная достоверная роспись мастера Дионисия

Находится на берегу реки, соединяющей озеро Ильмень и Ладожское озеро

Основан на месте, где, по преданию, была обретена знаменитая чудотворная икона Божьей матери

На территории монастыря покоятся мощи князя, победившего немецких рыцарей в Ледовом побоище

Основан сыном Александра Невского

Находится неподалёку от старейшего города Московской области

Находится на территории архипелага

В этом монастыре долгое время жил идейный лидер нестяжателей

В конце XVI века монастырём безуспешно пытались завладеть униаты


Формула вычисления баллов: 0-12 1-11 2-10 3-9 4-8 5-7 6-6 7-5 8-4 9-3 10-2 11-1 12-0

За решение задачи **12 баллов**

Если все варианты одновременно не помещаются в окно браузера, можно воспользоваться сочетанием клавиш `ctrl` и `(-)` (`cmd` и `(-)` для Mac) для уменьшения масштаба окна

Страницы жизни многих героев Великой Отечественной войны – от высокопоставленных военачальников до детей военной поры – легли в основу литературных сюжетов. Соотнесите названия литературных произведений и портреты людей, ставших персонажами или прототипами персонажей этих произведений.

«Волоколамское шоссе»



«Жила, была»



«Молодая гвардия»



«Повесть о Зое и Шуре»



«Повесть о настоящем человеке»



«Трубка снайпера»



«Улица младшего сына»



«Человек, для которого не было тайн»






«Честь»



«Это было под Ровно»



Доступные варианты ответов:



Формула вычисления баллов: 0-10 1-9 2-8 3-7 4-6 5-5 6-4 7-3 8-2 9-1 10-0

За решение задачи **10 баллов**

