

Подмосковная олимпиада школьников по искусству (МХК)

Искусство (МХК). 7–8 классы. Ограничение по времени 90 минут

Памятники Московской области. Вариант №1

#1110687

В данном задании несколько верных утверждений. Выберите все, которые вы считаете верными, но обратите внимание, что за выбор неверного утверждения балл снижается.

Перед Вами фотография памятника, установленного в **2003** г. в одном из городов Московской области. Рассмотрите фотографию и ответьте на вопросы.



Укажите, кому установлен памятник.

- ☐ Кузьма Минин
- ☒ Дмитрий Пожарский
- ☐ Юрий Долгорукий
- ☐ Прокопий Ляпунов
- ☐ Александр Невский
- ☐ Иван *III* Великий
- ☐ Дмитрий Донской
- ☐ Михаил Скопин-Шуйский

3 балла

Укажите название города, в котором находится памятник.

- ☐ Клин
- ☐ Подольск
- ☐ Дмитров
- ☐ Звенигород
- ☐ Коломна
- ☒ Зарайск
- ☐ Дубна
- ☐ Сергиев Посад

3 балла

Выберите верные утверждения о памятнике

- ☐ В городе, в котором установлен памятник, сохранился комплекс исторического кремля, возведенного в **XVI** в.
- ☐ Исторический деятель, которому установлен памятник, является основателем города, в котором находится памятник.
- ☐ Исторический деятель, которому установлен памятник, связан с событиями Смутного времени.
- ☐ Памятник установлен к **400**—летию со дня рождения исторического деятеля

Формула вычисления баллов: 0-4 1-2 2-0

4 балла

За решение задачи **10 баллов**

Памятники Московской области. Вариант №2

#1110688

В данном задании несколько верных утверждений. Выберите все, которые вы считаете верными, но обратите внимание, что за выбор неверного утверждения балл снижается.

Перед Вами фотография памятника, установленного в **2001** г. в одном из городов Московской области. Рассмотрите фотографию и ответьте на вопросы



Укажите, кому установлен памятник.

- ☐ Кузьма Минин
- ☐ Дмитрий Пожарский
- ☒ Юрий Долгорукий
- ☐ Прокопий Ляпунов
- ☐ Александр Невский
- ☐ Иван *III* Великий
- ☐ Дмитрий Донской
- ☐ Михаил Скопин-Шуйский

3 балла

Укажите название города, в котором находится памятник.

- ☐ Клин
- ☐ Подольск
- ☒ Дмитров
- ☐ Звенигород
- ☐ Коломна
- ☐ Зарайск
- ☐ Дубна
- ☐ Сергиев Посад

3 балла

Выберите верные утверждения о памятнике

- ☐ В городе, в котором установлен памятник, частично сохранился комплекс древнерусской крепости, возведенной в **XII** в.
- ☐ Исторический деятель, которому установлен памятник, является основателем города, в котором находится памятник.
- ☐ Исторический деятель, которому установлен памятник, связан с событиями Смутного времени.
- ☐ Памятник установлен к **400**—летию со дня рождения исторического деятеля

Формула вычисления баллов: 0-4 1-2 2-0

4 балла

За решение задачи **10 баллов**

Лишнее понятие. Вариант №1

#1110689

Определите лишнее понятие в ряду представленных.

Альт, арфа, виолончель, контрабас, скрипка

- ☐ альт
- ☐ виолончель
- ☐ скрипка
- ☐ контрабас
- ☒ арфа

2 балла

Боттичелли, Веронезе, Донателло, Рафаэль, Тициан

- ☐ Тициан
- ☐ Веронезе
- ☐ Рафаэль
- ☒ Донателло
- ☐ Боттичелли

2 балла

Амьенский собор, Реймский собор, Собор Парижской Богоматери, Собор Святого Павла, Шартрский собор

- ☐ Амьенский собор
- ☐ Собор Парижской Богоматери
- ☐ Шартрский собор
- ☒ Собор Святого Павла
- ☐ Реймский собор

2 балла

Зиккурат, клинопись, мастаба, Стела Хаммурапи, шеду

- ☐ зиккурат
- ☒ мастаба
- ☐ шеду
- ☐ Стела Хаммурапи
- ☐ клинопись

2 балла

Мирон, Поликлет, Пракситель, Софокл, Фидий

- ☐ Мирон
- ☐ Пракситель
- ☐ Фидий
- ☒ Софокл
- ☐ Поликлет

2 балла

За решение задачи **10 баллов**

Лишнее понятие. Вариант №2

#1110690

Определите лишнее понятие в ряду представленных.

Валторна, гобой, кларнет, фагот, флейта

- ☐ гобой
- ☐ кларнет
- ☐ флейта
- ☒ валторна
- ☐ фагот

2 балла

Боттичелли, Дюрер, Леонардо, Микеланджело, Тициан

- ☒ Дюрер
- ☐ Леонардо
- ☐ Тициан
- ☐ Боттичелли
- ☐ Микеланджело

2 балла

Бамбергский собор, Вормсский собор, Майнцкий собор,
Шпайерский собор, Шартрский собор

- ☐ Вормсский собор
- ☐ Майнцкий собор
- ☒ Шартрский собор
- ☐ Бамбергский собор
- ☐ Шпайерский собор

2 балла

Иероглифика, канопа, клинопись, мастаба, ушебти

- ☐ канопа
- ☒ клинопись
- ☐ ушебти
- ☐ иероглифика
- ☐ мастаба

2 балла

Аристофан, Еврипид, Поликлет, Софокл, Эсхил

- ☐ Еврипид
- ☒ Поликлет
- ☐ Эсхил
- ☐ Аристофан
- ☐ Софокл

2 балла

За решение задачи **10 баллов**

Древние божества в скульптуре. Вариант №1


#1110691

*Если все варианты одновременно не помещаются в окно браузера, можно воспользоваться сочетанием клавиш `ctrl` и `(-)` (`cmd` и `(-)` для *Mac*) для уменьшения масштаба окна*

Рассмотрите фотографии четырех скульптур и фрагментов рельефных композиций, запечатлевших образы разных божеств.

Соотнесите фотографии с информацией о персонажах. Чтобы увеличить картинку - нажмите на нее

Древнеегипетское божество, связанное с загробным культом. Одним из его символов является столб Джед.



Одно из индуистских божеств, считается родителем Ганеши, бога мудрости и благополучия.



Древнегреческое божество, культ которого связан с плодородием и изобилием. Один из мифов повествует о попытке пленения этого бога пиратами.



Одно из божеств пантеона богов Древней Месопотамии. Покровитель солнца и солнечного света. Изображен на памятнике, являющимся одним из первых примеров письменно зафиксированных законов.



Доступные варианты ответов:

Основатель одного из религиозно-философских движений Востока. Его имя дословно переводится как «пробужденный».

Древнегреческий бог, покровительствовавший искусствам.

Древнегреческое божество, считавшееся покровителем торговли.

Древнегреческое божество, культ которого связан с плодородием и

Одно из божеств пантеона богов Древней Месопотамии. Покровитель солнца и

Главное божество

изобилием. Один из мифов повествует о попытке пленения этого бога пиратами.

солнечного света. Изображен на памятнике, являющимся одним из первых примеров письменно зафиксированных законов.

древнеассирийского пантеона. Часто изображался с охотничьим луком.

Одно из индуистских божеств, считается родителем Ганеши, бога мудрости и благополучия.

Древнеегипетское божество, связанное с обрядом мумификации. В период римского владычества в Египте распространился культ бога, совмещающий в себе черты этого божества и античного бога Гермеса.

Древнеегипетское божество, связанное с загробным культом. Одним из его символов является столб Джед.

Индуистское божество, одним из воплощений которого является Кришна.

Формула вычисления баллов: 0-8 1-6 2-4 3-2 4-0

8 баллов

Назовите имя божества, представленного на изображении. В качестве ответа укажите **ОДНО** слово в именительном падеже **БЕЗ** пробелов, знаков препинания и дополнительных символов, например, олимпиада.



Правильный ответ:

Шива

Формула вычисления баллов: 0-3 1-0

3 балла

Назовите имя божества, представленного на изображении. В качестве ответа укажите **ОДНО** слово в именительном падеже **БЕЗ** пробелов, знаков препинания и дополнительных символов, например, олимпиада.



Правильный ответ:

Осирис

Формула вычисления баллов: 0-3 1-0

3 балла

Назовите имя божества, представленного на изображении. В качестве ответа укажите **ОДНО** слово в именительном падеже **БЕЗ** пробелов, знаков препинания и дополнительных символов, например, олимпиада.



Правильный ответ:

Дионис

Формула вычисления баллов: 0-3 1-0

3 балла

Назовите имя божества, представленного на изображении. В качестве ответа укажите **ОДНО** слово в именительном падеже **БЕЗ** пробелов, знаков препинания и дополнительных символов, например, олимпиада.



Правильный ответ:

Шамаш

Формула вычисления баллов: 0-3 1-0

3 балла

За решение задачи **20 баллов**

Древние божества в скульптуре. Вариант №2

#1110692

*Если все варианты одновременно не помещаются в окно браузера, можно воспользоваться сочетанием клавиш `ctrl` и `(-)` (`cmd` и `(-)` для *Mac*) для уменьшения масштаба окна*

Рассмотрите фотографии четырех скульптур и фрагментов рельефных композиций, запечатлевших образы разных божеств.

Соотнесите фотографии с информацией о персонажах. Чтобы увеличить картинку - нажмите на нее

Главное божество древнеассирийского пантеона. Часто изображался с охотничьим луком.



Одно из индуистских божеств, считается родителем Ганеши, бога мудрости и благополучия.



Древнегреческое божество, считавшееся покровителем торговли.



Древнеегипетское божество, связанное с обрядом мумификации. В период римского владычества в Египте распространился культ бога, совмещающий в себе черты этого божества и античного бога Гермеса.



Доступные варианты ответов:

Главное божество древнеассирийского пантеона. Часто изображался с охотничьим луком.

Древнегреческое божество, считавшееся покровителем торговли.

Одно из божеств пантеона богов Древней Месопотамии. Покровитель солнца и солнечного света. Изображен на памятнике, являющимся одним из первых примеров письменно зафиксированных законов.

Древнегреческое божество, культ

Основатель одного из

древнеегипетское

которого связан с плодородием и изобилием. Один из мифов повествует о попытке пленения этого бога пиратами.

религиозно-философских движений Востока. Его имя дословно переводится как «пробужденный».

божество, связанное с загробным культом. Одним из его символов является столб Джед.

Одно из индуистских божеств, считается родителем Ганеши, бога мудрости и благополучия.

Древнеегипетское божество, связанное с обрядом мумификации. В период римского владычества в Египте распространился культ бога, совмещающий в себе черты этого божества и античного бога Гермеса.

Древнегреческий бог, покровительствовавший искусствам.

Индуистское божество, одним из воплощений которого является Кришна.

Формула вычисления баллов: 0-8 1-6 2-4 3-2 4-0

8 баллов

Назовите имя божества, представленного на изображении. В качестве ответа укажите **ОДНО** слово в именительном падеже **БЕЗ** пробелов, знаков препинания и дополнительных символов, например, олимпиада.



Правильный ответ:

Шива

Формула вычисления баллов: 0-3 1-0

3 балла

Назовите имя божества, представленного на изображении. В качестве ответа укажите **ОДНО** слово в именительном падеже **БЕЗ** пробелов, знаков препинания и дополнительных символов, например, олимпиада.



Правильный ответ:

Анубис

Формула вычисления баллов: 0-3 1-0

3 балла

Назовите имя божества, представленного на изображении. В качестве ответа укажите **ОДНО** слово в именительном падеже **БЕЗ** пробелов, знаков препинания и дополнительных символов, например, олимпиада.



Правильный ответ:

Гермес

Формула вычисления баллов: 0-3 1-0

3 балла

Назовите имя божества, представленного на изображении. В качестве ответа укажите **ОДНО** слово в именительном падеже **БЕЗ** пробелов, знаков препинания и дополнительных символов, например, олимпиада.



Правильный ответ:

Ашшур

Формула вычисления баллов: 0-3 1-0

3 балла

За решение задачи **20 баллов**

В качестве ответа укажите ОДНО слово БЕЗ пробелов, знаков препинания и дополнительных символов, например, Лермонтов.

Прослушайте фрагмент музыкальной композиции и рассмотрите репродукцию живописного произведения. На портрете представлена певица в образе главной героини музыкального произведения.





https://storage.yandexcloud.net/wk-mo/development_50/uploads/task/audio_content/1110693/2bd37cf08f5e950a.mp3

Назовите название музыкального произведения.

Правильный ответ:

Кармен

Формула вычисления баллов: 0-3 1-0

3 балла

Назовите фамилию композитора, автора музыкального произведения.

Правильный ответ:

Бизе

Формула вычисления баллов: 0-3 1-0

3 балла

Назовите художника, автора картины.

- ☐ Э. Дега
- ☐ Ф. Гойя
- ☐ И. Крамской
- ☐ В. Серов
- ☐ К. Моне
- ☐ М. Врубель
- ☐ С. Дали
- ☒ Э. Мане

3 балла

Выберите среди предложенного списка другие картины художника. В данном задании несколько верных утверждений. Выберите все, которые вы считаете верными, но обратите внимание, что за выбор неверного утверждения балл снижается.

- ☐ «Бульвар Капуцинок»
- ☒ «Олимпия»
- ☐ «Сатурн, пожирающий своего сына»
- ☐ «Девочка с персиками»
- ☐ «Руанский собор»
- ☐ «Похищение Европы»
- ☐ «Демон сидящий»
- ☐ «Христос в пустыне»
- ☐ «Шестикрылый серафим»
- ☒ «Завтрак на траве»

Формула вычисления баллов: 0-3 1-2 2-1 3-0

3 балла

За решение задачи **12 баллов**

В качестве ответа укажите ОДНО слово БЕЗ пробелов, знаков препинания и дополнительных символов, например, Лермонтов.

Прослушайте фрагмент музыкальной композиции и рассмотрите репродукцию живописного произведения. На портрете представлена певица в образе главной героини музыкального произведения.





https://storage.yandexcloud.net/wk-mo/development_50/uploads/task/audio_content/1110694/cb86f5f1ac5ef947.mp3

Назовите название музыкального произведения.

Правильный ответ:

Кармен

Формула вычисления баллов: 0-3 1-0

3 балла

Назовите фамилию композитора, автора музыкального произведения.

Правильный ответ:

Бизе

Формула вычисления баллов: 0-3 1-0

3 балла

Назовите художника, автора картины.

- ☐ К. Моне
- ☐ В. Серов
- ☐ И. Крамской
- ☐ Э. Мане
- ☐ Э. Дега
- ☐ С. Дали
- ☒ М. Врубель
- ☐ Ф. Гойя

3 балла

Выберите среди предложенного списка другие картины художника. В данном задании несколько верных утверждений. Выберите все, которые вы считаете верными, но обратите внимание, что за выбор неверного утверждения балл снижается.

- ☒ «Шестикрылый серафим»
- ☐ «Руанский собор»
- ☐ «Олимпия»
- ☐ «Христос в пустыне»
- ☐ «Похищение Европы»
- ☐ «Сатурн, пожирающий своего сына»
- ☒ «Демон сидящий»
- ☐ «Завтрак на траве»
- ☐ «Девочка с персиками»
- ☐ «Бульвар Капуцинок»

Формула вычисления баллов: 0-3 1-2 2-1 3-0

3 балла

За решение задачи **12 баллов**

Если все варианты одновременно не помещаются в окно браузера, можно воспользоваться сочетанием клавиш `ctrl` и `(-)` (`cmd` и `(-)` для Mac) для уменьшения масштаба окна. Для просмотра изображения в увеличенном виде, нажмите на него.

2022 год объявлен Годом народного искусства и нематериального культурного наследия народов. Рассмотрите изображения ниже и определите, какие народные промыслы на них представлены.

Дымковская игрушка



Мезенская роспись



Павловопосадский платок



Палехская лаковая миниатюра



Доступные варианты ответов:

Елецкое
кружево

Жостовская
роспись

Оренбургский
пуховый платок

Дымковская
игрушка

Городецкая
роспись

Филимоновская
игрушка

Федоскинская
лаковая
миниатюра

Мезенская
роспись

Керамика Гжели

Каргопольская
игрушка

Мстёрская
лаковая
миниатюра

Палехская
лаковая
миниатюра

Мценское
кружево

Павловопосадский
платок

Формула вычисления баллов: 0-8 1-6 2-4 3-2 4-0

За решение задачи **8 баллов**

Если все варианты одновременно не помещаются в окно браузера, можно воспользоваться сочетанием клавиш `ctrl` и `(-)` (`cmd` и `(-)` для Mac) для уменьшения масштаба окна. Для просмотра изображения в увеличенном виде, нажмите на него.

2022 год объявлен Годом народного искусства и нематериального культурного наследия народов. Рассмотрите изображения ниже и определите, какие народные промыслы на них представлены.

Городецкая роспись



Елецкое кружево



Каргопольская игрушка



Федоскинская лаковая миниатюра



Доступные варианты ответов:

Керамика
Гжели

Павловопосадский
платок

Мстёрская
лаковая
миниатюра

Оренбургский
пуховый платок

Мценское
кружево

Палехская
лаковая
миниатюра

Елецкое
кружево

Федоскинская
лаковая
миниатюра

Городецкая
роспись

Жостовская
роспись

Дымковская
игрушка

Филимоновская
игрушка

Каргопольская
игрушка

Мезенская
роспись

Формула вычисления баллов: 0-8 1-6 2-4 3-2 4-0

За решение задачи **8 баллов**

Натюрморт в изобразительном искусстве .

Вариант №1

#1110697

Если все варианты одновременно не помещаются в окно браузера, можно воспользоваться сочетанием клавиш ctrl и (-) (cmd и (-) для Mac) для уменьшения масштаба окна. Для просмотра изображения в увеличенном виде, нажмите на него.


Натюрморт – один из жанров изобразительного искусства, имеющих долгую историю.

Рассмотрите пять натюрмортов, расположите их в хронологическом порядке появления (от самого раннего – к самому позднему)

Создан третьим по хронологии



Создан первым по хронологии



Создан пятым по хронологии



Создан вторым по хронологии



Создан четвертым по хронологии



Доступные варианты ответов:

Создан пятым
по хронологии

Создан вторым
по хронологии

Создан
четвертым по
хронологии

Создан первым
по хронологии

Создан
третьим по
хронологии

Формула вычисления баллов: 0-10 1-8 2-6 3-4 4-2 5-0

10 баллов

Выберите историческую эпоху или стиль, в рамках которого (которой) было создано изображение.

Древний Египет



Древний Рим



Авангард (начало XX в.)



Постимпрессионизм (последняя четверть XIX в.)



Эпоха барокко (XVII в.)



Доступные варианты ответов:

Древний
Китай

Древнее
Междуречье

Постимпрессионизм
(последняя четверть
XIX в.)

Древний
Египет

Древняя Греция

Авангард
(начало XX в.)

Древний Рим

Эпоха барокко (
XVII в.)

Романтизм

Импрессионизм

Эпоха

Средние века

Формула вычисления баллов: 0-10 1-8 2-6 3-4 4-2 5-0

10 баллов

За решение задачи **20 баллов**

Натюрморт в изобразительном искусстве .

Вариант №2

#1110698

Если все варианты одновременно не помещаются в окно браузера, можно воспользоваться сочетанием клавиш ctrl и (-) (cmd и (-) для Mac) для уменьшения масштаба окна. Для просмотра изображения в увеличенном виде, нажмите на него.

Натюрморт – один из жанров изобразительного искусства, имеющих долгую историю.

Рассмотрите пять натюрмортов, расположите их в хронологическом порядке появления (от самого раннего – к самому позднему)

Создан пятым по хронологии



Создан третьим по хронологии



Создан вторым по хронологии



Создан четвертым по хронологии



Создан первым по хронологии



Доступные варианты ответов:

Создан
четвертым по
хронологии

Создан пятым
по хронологии

Создан вторым
по хронологии

Создан первым
по хронологии

Создан
третьим по
хронологии

Формула вычисления баллов: 0-10 1-8 2-6 3-4 4-2 5-0

10 баллов

Выберите историческую эпоху или стиль, в рамках которого (которой) было создано изображение.

Древний Египет



Древний Рим



Авангард (начало XX в.)



Постимпрессионизм (последняя четверть XIX в.)



Эпоха барокко (XVII в.)



Доступные варианты ответов:

Авангард
(начало XX в.)

Романтизм

Древний Рим

Эпоха
барокко (
XVII в.)

Древний
Египет

Постимпрессионизм
(последняя четверть
XIX в.)

Древняя Греция

Древний Китай

Древнее
Междуречье

Импрессионизм

Средние века

Эпоха

Формула вычисления баллов: 0-10 1-8 2-6 3-4 4-2 5-0

10 баллов

За решение задачи **20 баллов**

В качестве ответа укажите НЕ БОЛЕЕ 3 слов ЧЕРЕЗ пробел, БЕЗ знаков препинания и дополнительных символов, например, летняя база отдыха.

Перед Вами представлены кадр из мультфильма отечественного мультипликатора и репродукция живописного произведения. Рассмотрите изображения и ответьте на вопросы.





Назовите название мультфильма.

Правильный ответ:

Падал прошлогодний снег

Формула вычисления баллов: 0-3 1-0

3 балла

Выберите фамилию мультипликатора, режиссера мультфильма, кадр из которого представлен в задании.

- ☐ Караваев
- ☐ Атаманов
- ☐ Качанов
- ☐ Норштейн
- ☐ Хржановский
- ☒ Татарский
- ☐ Хитрук

2 балла

Назовите представленный в живописном произведении сюжет, отсылкой к которому можно считать кадр из мультфильма.

Правильный ответ:

Тайная вечеря

Формула вычисления баллов: 0-3 1-0

3 балла

Назовите художника, автора живописного произведения.

☒ Джотто ди Бондоне

☐ Николай Ге

☐ Леонардо да Винчи

☐ Альбрехт Дюрер

☐ Илья Репин

2 балла

За решение задачи **10 баллов**

В качестве ответа укажите НЕ БОЛЕЕ 3 слов ЧЕРЕЗ пробел, БЕЗ знаков препинания и дополнительных символов, например, летняя база отдыха.

Перед Вами представлены кадр из мультфильма отечественного мультипликатора и репродукция живописного произведения. Рассмотрите изображения и ответьте на вопросы.





Назовите название мультфильма.

Правильный ответ:

Падал прошлогодний снег

Формула вычисления баллов: 0-3 1-0

3 балла

Выберите фамилию мультипликатора, режиссера мультфильма, кадр из которого представлен в задании.

- ☐ Качанов
- ☐ Хитрук
- ☐ Атаманов
- ☐ Норштейн
- ☐ Хржановский
- ☐ Караваев
- ☒ Татарский

2 балла

Назовите представленный в живописном произведении сюжет, отсылкой к которому можно считать кадр из мультфильма.

Правильный ответ:

Тайная вечеря

Формула вычисления баллов: 0-3 1-0

3 балла

Назовите художника, автора живописного произведения.

- ☒ Николай Ге
- ☐ Альбрехт Дюрер
- ☐ Джотто ди Бондоне
- ☐ Леонардо да Винчи
- ☐ Илья Репин

2 балла

За решение задачи **10 баллов**

*Если все варианты одновременно не помещаются в окно браузера, можно воспользоваться сочетанием клавиш `ctrl` и `(-)` (`cmd` и `(-)` для *Mac*) для уменьшения масштаба окна*

В истории и теории искусства традиционно сохраняется деление на искусство «Запада» и искусство «Востока». Хотя границы двух художественных традиций могут быть условны, для изучения основных периодов развития искусства, исторического и философского контекста это разделение остается целесообразными.

Найдите к этим сооружениям в пару современника из числа построек, созданных западной цивилизацией. Чтобы увеличить картинку - нажмите на нее

Тауэр



Музей Гуггенхайма в Бильбао



Вилла Ротонда



Пергамский алтарь



Реймский собор



Доступные варианты ответов:

Вилла Ротонда

Пергамский
алтарь

Музей
Гуггенхайма в
Бильбао

Реймский
собор

Тауэр

Формула вычисления баллов: 0-10 1-8 2-6 3-4 4-2 5-0


За решение задачи **10 баллов**

*Если все варианты одновременно не помещаются в окно браузера, можно воспользоваться сочетанием клавиш `ctrl` и `(-)` (`cmd` и `(-)` для *Mac*) для уменьшения масштаба окна*

В истории и теории искусства традиционно сохраняется деление на искусство «Запада» и искусство «Востока». Хотя границы двух художественных традиций могут быть условны, для изучения основных периодов развития искусства, исторического и философского контекста это разделение остается целесообразными.

Найдите к этим сооружениям в пару современника из числа построек, созданных западной цивилизацией. Чтобы увеличить картинку - нажмите на нее

Тауэр



Музей Гуггенхайма в Бильбао



Купол собора Санта Мария дель Фьоре



Пергамский алтарь



Собор Парижской Богоматери



Доступные варианты ответов:

Пергамский
алтарь

Музей
Гуггенхайма в
Бильбао

Собор
Парижской
Богоматери

Тауэр

Купол собора
Санта Мария
дель Фьоре

Формула вычисления баллов: 0-10 1-8 2-6 3-4 4-2 5-0

За решение задачи **10 баллов**