

**МУНИЦИПАЛЬНЫЙ ЭТАП
8 КЛАСС
БЛАНК ЗАДАНИЙ**

Время на выполнение – 120 минут.

*Дорогие друзья! Обратите внимание, что Ваши ответы должны быть внесены в **бланк ответов** – именно он будет проверяться жюри. Делая пометки в черновиках и на бланке заданий, пожалуйста, не забудьте перенести всё в бланк ответов.*

Задание 1. [4 балла]

Перед Вами два списка. В одном – факты о городах Московской области, в другом – названия этих городов. Соотнесите каждый факт с городом, которому он соответствует. Обратите внимание, что в перечне городов есть два лишних элемента.

- | | |
|---|-------------------------|
| А. В 2000-х годах начался постепенный переезд в этот город административных органов Московской области | 1. Волоколамск |
| Б. На гербе этого города изображена монастырская стена | 2. Истра |
| В. У этого города русские войска соединились перед походом к месту Куликовской битвы | 3. Кашира |
| Г. Этот город впервые упоминается в летописи раньше Москвы | 4. Коломна |
| Д. Этот город до 1930 года носил название Воскресенск | 5. Красногорск |
| Е. Этот город является наукоградом | 6. Сергиев Посад |
| | 7. Серпухов |
| | 8. Черноголовка |

Задание 2. [5 баллов]

Перед Вами небольшой текст о некоторых преобразованиях Петра I. В него вкрались пять явных фактических ошибок. Укажите и исправьте эти ошибки. Обратите внимание, что балл можно получить только за указание с исправлением. Например: «Адриан умер не в 1700, а в 1710 году» (это неверное исправление, оно приводится в качестве примера).

Одним из ключевых преобразований Петра I было учреждение коллегий, которые пришли на смену запутанной системе приказов. Каждая из них отвечала за определённую отрасль управления: коллегия иностранных дел – внешней политикой, военная – сухопутными войсками, коммерц-коллегия – сбором налогов, и т. д. Одной из коллегий фактически был главный магистрат, который ведал управлением городами. Некоторые из этих новых отраслевых органов возглавили выдающиеся государственные деятели, например, первым президентом военной коллегии был друг юности Петра А. Д. Шереметев.

В 1721 году также была создана Духовная коллегия, или Сенат. Это был коллективный государственный орган управления церковью, ключевую роль в нём играл специальный чиновник – обер-полицмейстер. Соответственно, митрополит перестал быть главой русской церкви – после смерти Адриана в 1700 году его преемник не избирался.

Задание 3. [7 баллов]

Перед Вами карта, на которой показано расположение известных линий укрепления. Укажите их устойчивое название. Из перечня утверждений, приведённого в задании, выберите шесть верных и выпишите их номера в поле ответа. При перечислении в ответе более чем шести цифр эта часть задания не проверяется.




Утверждения к карте:

1. Буквой «Д» отмечен город, с которым было связано одно из ключевых сражений Великой Отечественной войны лета 1943 года;
2. Буквой «Ж» отмечен город Самара;
3. Город, отмеченный буквой «Е», в эпоху раздробленности на Руси был центром одной из вечевых республик;
4. Двумя буквами «Б» отмечена река Волга;
5. Двумя буквами «В» отмечена река Дунай;
6. Карта отражает ситуацию времён царствования Ивана IV;
7. Линии укрепления, отмеченные на карте, были предназначены для защиты от литовских набегов;
8. На карте подписано название города, который монголы, согласно преданию, прозвали «злым городом»;
9. На карте подписано старое название города, который в настоящее время называется Волгоград;
10. Один из городов, отмеченных на карте буквами, находится на территории современной Московской области;
11. Река, отмеченная двумя буквами «А», в эпоху Древней Руси была частью «пути из варяг в греки»;
12. Среди подписанных на карте городов более чем два имеют почётное звание «Город-Герой».

Задание 4. [7 баллов]

Перед Вами прорисовки древнерусских средневековых грамот. Укажите город, в котором все они были найдены, и название материала, на котором делались записи. Попробуйте вникнуть в содержание грамот и, поняв их примерный смысл, соотнести каждую прорисовку с краткой характеристикой из списка.



БНЮТЬ ЧЕЛМЪ КТЪ АН Е Г Н Ю М Р И Н О Н Ч Н Ф
Д В Н Ц Ю О К Л Ю Ч Н Н К Т З А Н Д О Г Н Е Н Е М О Х Е М В
Н Ч Н М З К Е М Ю О А В Р И Т Н С А Т О Г О Т Н Е С З С К Т А

2

ЕТЄРЕНАТЕАКЗЛДНХАЛТОПРН
 ШДЛНТАЛОШАКЗ(ЗАКОВАЕМД
 ЛПАСДХТДЛУЖНАСАВНАУАДК
 АНААРОСЛАВАНДОБЗЗДОРОВЗНГАН
 ГОРЕЛЛАДУГЛННАНЕЗАМЕРЗЛННА
 АРОСЛАВЛН+ТЗДОУГЕНАНТУПЛКЗ
 ДРУЖНА

3

ВОЛОДЕНТЬ К. Б. МЕЛНИКА. П. 5
 ЗАДЪТЪ И Ц. К. И. С. Д. Ю. К. О. Н. Б. Н.
 ДОРОЖУ. ВОЕН. ГОСПОД. Н. Б. Н.
 ПЕЧЕНА. Л. Е. С. А. Г. О. А. Ю. А. М. Н. А. Н.
 Н. П. П. С. А. Н. С. Д. О. Н. ВОЛОДЕНЬ.

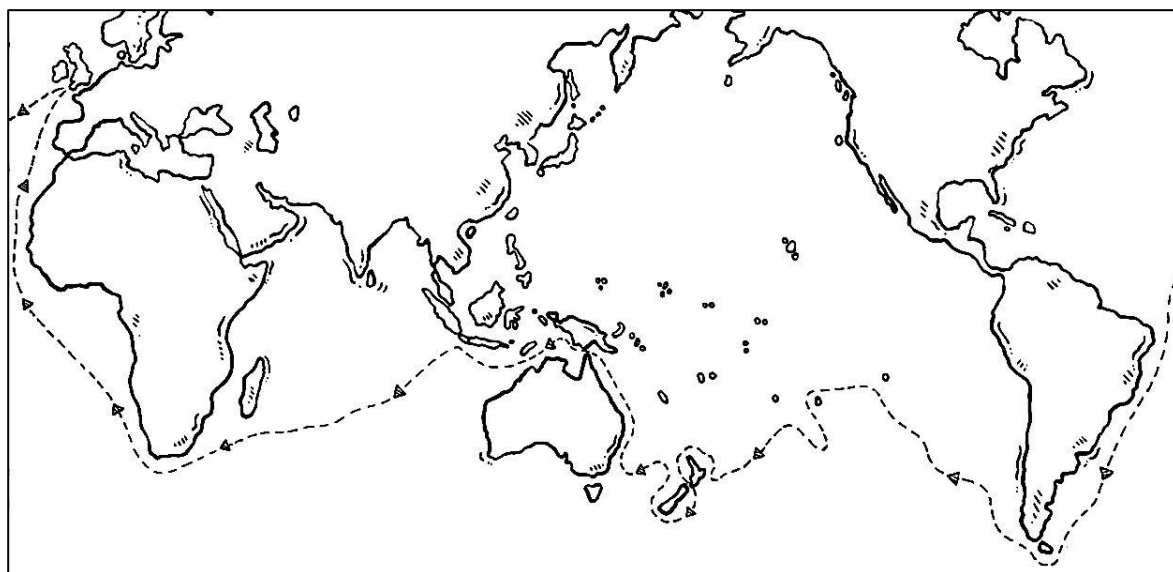
4

К О С Т Ъ С Я ^{СНА} У И К И Н Д .
 Ѡ Ф Р Ъ М О В Д . С Н Д . К У
 Т Р Д . Н А Ч Н О
 Ѡ Н Н Т В Ъ К У . К У П Д Д .
 Ф О М Н Н Д . С Н Д . Н Г Н Д Т
 З . Н А . Ю Р Ъ Н Е В Д . С Н З

5

Задание 5. [9 баллов]

Перед Вами две карты путешествий, которые состоялись в одном и том же столетии: первое – европейского мореплавателя, а второе – нашего соотечественника. Изучите обе карты и ответьте на ряд вопросов к ним.



№ 1



№ 2

Задание 6. [8 баллов]

Перед Вами отрывки из стихотворений русских поэтов XIX–XX веков, посвящённых событиям разных эпох отечественной истории. Соотнесите каждый отрывок со столетием, о событиях которого идёт речь, и ответьте на один дополнительный вопрос.

*Сидит грозный царь Иван Васильевич.
Позади его стоят стольники,
Супротив его всё бояре да князья,
По бокам его всё опричники;
И пирует царь во славу божию,
В удовольствие свое и веселие.*

1

*Как ныне собирается векий Олег
Отмстить неразумным хозарам:
Их села и нивы за буйный набег
Обрек он мечам и пожарам;
С дружиной своей, в цареградской броне,
Князь по полю едет на верном коне.*

2

*«Доколь нам, други, пред тираном
Склонять покорную главу
И заодно с презренным ханом
Позорить сильную Москву?
Не нам, не нам страшиться битвы
С толпами грозными врагов:
За нас и Сергия молитвы
И прах замученных отцов!»*

3

*«Здорово, Гаральд! Расскажи, из какой
На Русь воротился ты дали?
Замешкался долго в земле ты чуждой,
Давно мы тебя не видали!»
«Я, княже, уехал, любви не стяжав,
Уехал безвестный и бедный;
Но ныне к тебе, государь Ярослав,
Вернулся я в славе победной!»*

4

*Иван явился Третий;
Он говорит: «Шалишь!
Уж мы теперь не дети!»
Послал татарам шиш.*

5

*И смеётся гость земли немецкой,
Что когда не стало больше сил,
Игорь-князь в Каяле половецкой
Русские богатства утопил.*

6

*Собрались дружинники князя – кто пеше, кто конно...
Александр Ярославич повел с ними речь неуклонно:
«Други – братья, помянем не кровь и не плоть,
А слова, «что не в силе, а в правде господь!»
И дружинники все оградилась крестом перед битвою,
И за князь Александр Ярославичем двинулись в поле с молитвою.*

7

Задание 7. [8 баллов]

Это задание посвящено жёнам восьми князей и царей. Их девичьи фамилии или отчества уже указаны в таблице ответа. Укажите имена, каждое из которых соответствует двум женщинам, и соотнесите с каждой женщиной два факта: один – о ней самой, другой – о её супруге. Обратите внимание, что муж одной из «героинь» задания был не московским великим князем, а удельным князем и престолонаследником, что и отражено в одном из предложенных фактов.

Факты о княгинях и царицах:


1. Была дочерью господаря Молдавии;
2. Была дочерью правителя Литвы;
3. Была матерью двух царей из династии Романовых;
4. Была матерью русского царя, прозванного Грозным;
5. Была племянницей византийского императора;
6. Была убита заговорщиками вместе с сыном;
7. После развода с мужем была заточена в монастырь;
8. Супруга первого русского царя из династии Романовых.

Факты об их мужьях:

- А. В его правление произошли Медный и Соляной бунты;
- Б. В его правление произошло знаменитое «стояние» на Угре;
- В. До избрания царём он уже фактически правил страной при Фёдоре Иоанновиче;
- Г. Его отец долгое время был главой русской церкви;
- Д. Он единственный человек в этом списке, который никогда не княжил и не царствовал в Москве;
- Е. При нём в состав Московского государства окончательно вошли Псков и Рязань;
- Ж. При нём Едигей попытался осадить Москву;
- З. При нём Россия была провозглашена империей.

Задание 8. [10 баллов]

Нашим предкам не раз приходилось сталкиваться с завоевателями и серьёзными соперниками как на Западе, так и на Востоке. Перед Вами фотографии мест захоронения четырёх иностранных правителей, которые в разное время снаряжали походы на русские земли. Заполните пропуски в таблице, указав имена этих правителей и страны, на территории которых они похоронены, а также верно соотнесите с каждым из них изображение захоронения и характеристику из списка ниже.




1



2



3



4

Список характеристик:

- А. Направил свои войска для поддержки Мамай в битве с войсками Дмитрия Донского, но, узнав о поражении ордынцев в Куликовской битве, повернул обратно;
- Б. Остановил свой поход на русские земли в районе Ельца – по преданию, после того, как во сне ему явилась Богородица;
- В. Потерпел поражение в Полтавской баталии;
- Г. Потерпел поражение и был вынужден отступить за пределы России по итогам Отечественной войны 1812 года.

Задание 9. [9 баллов]

В мае наша страна праздновала 80-летие Победы в Великой Отечественной войне. Перед Вами фотография, отражающая важное событие, связанное с Великой Победой, и отрывок из мемуаров запечатлённого на ней военачальника. Внимательно рассмотрите фотографию, прочтите текст отрывка и ответьте на ряд вопросов.



«Часы отбивают 10.00. Что тут говорить, сердце билось учащённо. Но с выездом на (1 – **название**) площадь, когда грянули мощные и торжественные звуки столь дорогой для каждой русской души мелодии «Слався!» (2 – **фамилия композитора**), а затем сразу воцарилась абсолютная тишина, раздались чёткие слова командующего парадом Маршала Советского Союза К. К. (3 – **фамилия**), который, конечно, волновался не меньше моего. Его рапорт поглотил все мое внимание, и я стал спокоен. [...] Ни с чем не сравнимым был момент, когда двести бойцов — ветеранов войны под барабанный бой бросили к подножию (4 – **название сооружения**) В. И. Ленина двести знамен немецко-фашистской армии»

Задание 10. [12 баллов]

Многим историческим деятелям, оставившим след в истории нашего региона, установлены монументы не только в Подмосковье, но и в других городах России. Перед Вами три пары изображений памятников, в каждом из случаев оба монумента посвящены одному и тому же человеку. Заполните пропуски в текстах, сопровождающих пары изображений.



1



2



3



4



5



6

Задание 11. [8 баллов]

Выберите лишний элемент в каждом ряду и кратко объясните, почему он лишний.

11.1. Велес, Дажьбог, Один, Перун

11.2. Аршин, вершок, пуд, сажень

11.3. Або, Андрусово, Кардис, Ништадт

11.4. Ф. Вольтер, Ш. Монтескьё, Ш. Перро, Ж.-Ж. Руссо

Задание 12. [16 баллов]

Важнейший навык историка – умение анализировать исторический источник. Перед Вами отрывок из записок иностранного путешественника с описанием впечатлений о Московском государстве. Внимательно прочитайте текст и ответьте на ряд вопросов к нему.

«§ 54. Если плыть по этой реке и направляться на северо-восток и на восток, следуя по пути в Москву, то в продолжение пятнадцати дней вдоль берегов будут встречаться бесчисленные племена Тартарии. Направляясь к северо-востоку, достигают пределов России; здесь находится городок, называемый Рязань. Он принадлежит родственнику русского великого князя Иоанна. Всё население – христиане, по греческому обряду.

Страна обильна хлебом, мясом, мёдом и другими полезными вещами. [...] Повсюду много лесов и деревень.

Немного дальше находится город по названию Коломна. Оба города имеют деревянные укрепления; также и дома все деревянные, потому что в этих местах нет достаточно камня.

§ 55. В трёх днях пути протекает превосходная река Москва, на которой расположен город, называемый Москвой, где живёт русский великий князь Иоанн. Река проходит посередине города и имеет несколько мостов. Замок стоит на холме и со всех сторон окружён лесом. Изобилие хлеба и мяса в этом месте можно представить себе по тому, как продают мясо: его дают не на вес, а просто на глаз, причём не менее четырёх фунтов за один маркет. На один дукат получают семьдесят кур, а один гусь стоит три маркета.

Мороз там настолько силен, что замерзает река. Зимой свозят свиней, быков и другую скотину в виде ободранных от шкуры туш. Твёрдых, как камень, их ставят на ноги, и в таком количестве, что если кто-нибудь пожелал бы купить за один день двести туш, он вполне мог бы получить их. [...]

Там нет винограда, но одни изготавливают вино из мёда, другие варят брагу из проса. И в то и в другое кладут цветы хмеля, которые создают брожение; получается напиток одуряющий и опьяняющий, как вино.

§ 57. Сейчас прошло, вероятно, лет двадцать пять с тех пор, как русские платили за плавание дань татарскому хану. В настоящее время они подчинили себе город, который называется Казань. На нашем языке это значит «котёл». Находится на берегу реки Ледиль по левую руку, если плыть к Бакинскому морю; он удалён от Москвы на пять дней пути. Это – торговый город: оттуда вывозят громадное количество мехов, которые идут в Москву, в Польшу, в Пруссию и во Фландрию. Меха получают с севера и северо-востока, из областей Дзагатаев и из Мордовии.

Этими северными странами владели татары, которые в большинстве своём язычники, так же как и мордовцы. [...]

§ 59. О татарах же нечего сказать другого, кроме разве того, что те из них, которые остались язычниками, поклоняются истуканам, возя их с собой на своих телегах; однако среди них есть и такие, которые имеют обычай поклоняться каждый день какому-нибудь животному, встреченному ими при первом выходе из дома.

§ 60. Великий князь покорил также Новгород, что на нашем языке означает «девять замков». Это громаднейший город, отдалённый от Москвы на восемь дней пути в северо-западном направлении. Раньше он управлялся народом, и люди жили там без всякого правосудия; среди них было много еретиков. Теперь понемногу переходят они в католическую веру, хотя одни верят, а другие нет; но они живут по закону, и у них есть судопроизводство»

Максимальная оценка – 100 баллов

ЖЕЛАЕМ УДАЧИ!!!