

**МУНИЦИПАЛЬНЫЙ ЭТАП  
7 КЛАСС  
БЛАНК ЗАДАНИЙ**

**Время на выполнение – 120 минут.**

*Дорогие друзья! Обратите внимание, что Ваши ответы должны быть внесены в **бланк ответов** – именно он будет проверяться жюри. Делая пометки в черновиках и на бланке заданий, пожалуйста, не забудьте перенести всё в бланк ответов.*

**Задание 1. [4 балла]**

**Перед Вами два списка. В одном – факты о городах Московской области, в другом – названия этих городов. Соотнесите каждый факт с городом, которому он соответствует. Обратите внимание, что в перечне городов есть два лишних элемента.**

- |   |                       |
|---|-----------------------|
| <b>А.</b> В этом городе, по одной из версий, умерла жена Лжедмитрия I | <b>1.</b> Волоколамск |
| <b>Б.</b> На гербе этого города изображена чайка                      | <b>2.</b> Дубна       |
| <b>В.</b> Расцвет этого города связан с именем князя Юрия Дмитриевича | <b>3.</b> Зарайск     |
| <b>Г.</b> Этот город впервые упоминается в летописи раньше Москвы     | <b>4.</b> Звенигород  |
| <b>Д.</b> Этот город до 1930 года носил название Богородск            | <b>5.</b> Коломна     |
| <b>Е.</b> Этот город является наукоградом                             | <b>6.</b> Люберцы     |
|   | <b>7.</b> Ногинск     |
|   | <b>8.</b> Чехов       |

**Задание 2. [5 баллов]**

**Перед Вами небольшой текст об эволюции крепостного права в Московском государстве. В него вкрались пять явных фактических ошибок. Укажите и исправьте эти ошибки. Обратите внимание, что балл можно получить только за указание с исправлением. Например: «*Юрьев день был не 26 ноября, а 26 декабря*» (это неверное исправление, оно приводится в качестве примера).**

*Установление крепостного права в Московском государстве было длительным процессом. В 1497 году был принят новый свод законов – Судебник Ивана III. По Судебнику крестьяне могли уходить от землевладельцев в течение месяца до и месяца после Юрьева дня – 26 ноября. При этом они должны были уплатить особый налог – полюдье. В 1560 году, в царствование Ивана IV, Вселенский собор принял новый Судебник: право свободного перехода крестьян подтверждалось, но размер вышеупомянутого налога увеличился. Следующее изменение в положении крестьян произошло в начале 1580-х годов, когда были впервые введены так называемые урочные лета, то есть запрет на крестьянский переход в Юрьев день. Крестьяне фактически стали крепостными и были закреплены за землевладельцами.*

**Задание 3. [7 баллов]**

**Перед Вами карта, на которой показана траектория известного исторического торгового пути. Укажите его устойчивое название. Из перечня утверждений, расположенных сбоку от карты, выберите шесть верных и выпишите их номера в поле ответа. При перечислении в ответе более чем шести цифр эта часть задания не проверяется.**




#### Утверждения к карте:


1. Буквой «А» отмечена территория проживания племенного союза, представители которого, согласно летописи, убили князя Игоря;
2. Буквой «Б» отмечена территория проживания племенного союза, центром которого был город Чернигов;
3. Буквой «В» отмечен город Полоцк;
4. Буквой «Д» отмечена река Ока;
5. Город, отмеченный буквой «Г», был центром племенного союза вятичей;
6. «Конечной точкой» показанного на карте пути был город Булгар;
7. На карте видна часть акватории Балтийского моря;
8. На карте не подписано ни одно финно-угорское племя;
9. На карте отмечен и назван город, который был центром племенного союза древлян;
10. На карте отмечен и назван город, в который после захвата в 882 году перенёс свою резиденцию князь Олег;
11. На карте подписано название кочевого народа, представители которого, согласно летописи, убили князя Святослава Игоревича;
12. Показанный на карте путь проходил, среди прочего, по территории современной Белоруссии.

#### Задание 4. [7 баллов]

Перед Вами прорисовки древнерусских средневековых грамот. Укажите город, в котором все они были найдены, и название материала, на котором делались записи. Попробуйте вникнуть в содержание грамот и, поняв их примерный смысл, соотнести каждую прорисовку с краткой характеристикой из списка.



1



2

К Р Н Н Н Л О С Н Н О Р У А О Д О Р А О Р У Р О К Е В  
 А К Н В Е В О С Л А В Н Е ( О К О К Н ) К Е

3

В О Л О Б Е Н Т Ъ К . С М Е Л Н И К А . Р  
 З Л О С Т И Ц К И С Ю Д Ъ Ю . К О Н Ъ Н  
 Ф О Р О В У . В О Б Е Н Г О С П О Д Н Е  
 П Е Ч Е М Л Е С А . Г О Р А Н А М Н И  
 Н Ъ П О С Л Н С О Н У О Л О В Е К Ъ .

4

К О С Т И С Д <sup>СНА</sup> И К И Н Д .  
 О Ф Р А М О В А . С Н Д . К У  
 П Р А . Н А Ч Н О  
 О Н Н Т В А К И . К У П Д  
 Ф О Л Н Н Д . С Н Д . Н Г Н И Т  
 Д Н А . Ю Р Ь Н В А С Л

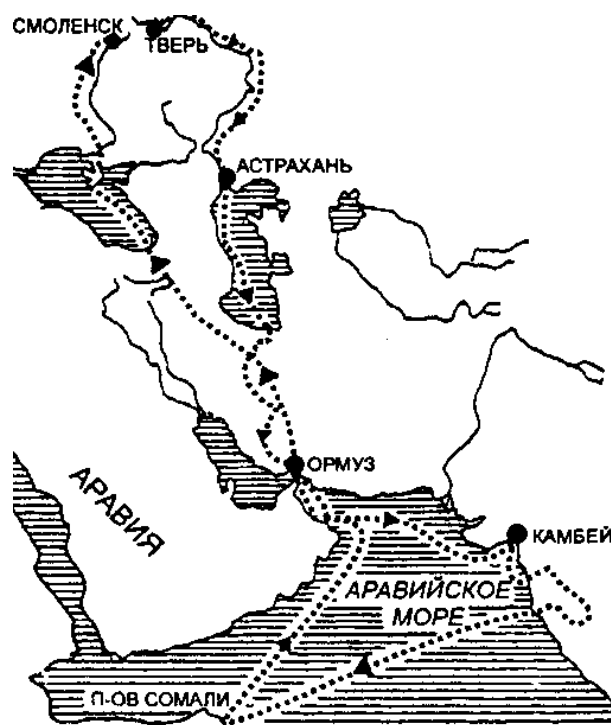
5

# Задание 5. [9 баллов]

Перед Вами две карты путешествий, которые состоялись в одном и том же столетии: первое – европейского мореплавателя, а второе – нашего соотечественника. Изучите обе карты и ответьте на ряд вопросов к ним.



№ 1



№ 2

**Задание 6. [8 баллов]**

Перед Вами отрывки из стихотворений русских поэтов XIX–XX веков, посвящённых событиям разных эпох отечественной истории. Соотнесите каждый отрывок со столетием, о событиях которого идёт речь, и ответьте на один дополнительный вопрос.

*Сидит грозный царь Иван Васильевич.  
Позади его стоят стольники,  
Супротив его всё бояре да князья,  
По бокам его всё опричники;  
И пирует царь во славу божию,  
В удовольствие свое и веселие.*

**1**

*Как ныне собирается веший Олег  
Отмстить неразумным хозарам:  
Их села и нивы за буйный набег  
Обрек он мечам и пожарам;  
С дружиной своей, в цареградской броне,  
Князь по полю едет на верном коне.*

**2**

*«Доколь нам, други, пред тираном  
Склонять покорную главу  
И заодно с презренным ханом  
Позорить сильную Москву?  
Не нам, не нам страшиться битвы  
С толпами грозными врагов:  
За нас и Сергия молитвы  
И прах замученных отцов!»*

**3**

*«Здорово, Гаральд! Расскажи, из какой  
На Русь воротился ты дали?  
Замешкался долго в земле ты чужой,  
Давно мы тебя не видали!»  
«Я, княже, уехал, любви не стяжав,  
Уехал безвестный и бедный;  
Но ныне к тебе, государь Ярослав,  
Вернулся я в славе победной!»*

**4**

*Иван явился Третий;  
Он говорит: «Шалишь!  
Уж мы теперь не дети!»  
Послал татарам шиш.*

**5**

*И смеётся гость земли немецкой,  
Что когда не стало больше сил,  
Игорь-князь в Каяле половецкой  
Русские богатства утопил.*

**6**

*Собрались дружинники князя – кто пешие, кто конно...  
Александр Ярославич повел с ними речь неуклонно:  
«Други – братья, помянем не кровь и не плоть,  
А слова, «что не в силе, а в правде господь!»  
И дружинники все оградилась крестом перед битвою,  
И за князь Александр Ярославичем двинулись в поле с молитвою.*

**7**

**Задание 7. [8 баллов]**

Многие русские князья имеют устойчивые прозвища: за одними они закрепились ещё при жизни, за другими – с лёгкой руки потомков. Это задание посвящено восьми таким князьям. Подсказкой служит то, что имена князей уже указаны в таблице ответа. Укажите прозвище каждого князя и соотнесите с ним два факта: один – о нём самом, другой – о происхождении прозвища. Обратите внимание: если князь имеет несколько известных прозвищ, Вам нужно указать именно то, которое подразумевает подсказка.

**Факты о князьях:**


1. При этом князе в Киеве появилась Десятинная церковь;
2. При этом князе в Москве появились первый Успенский собор и дубовый Кремль;
3. При этом князе русская православная церковь стала автокефальной;
4. Этот князь был братом Дмитрия Шемяки;
5. Этот князь был отцом Дмитрия Донского;
6. Этот князь выдал своих дочерей за королей Венгрии, Норвегии и Франции;
7. Этот князь правил в Галиче;
8. Этот князь считается автором «Поучения детям».

### Факты о прозвищах:


- А. Прозвище закрепилось за князем благодаря былинам о русских богатырях;
- Б. Прозвище связано с ослеплением князя на оба глаза;
- В. Прозвище связано с ослеплением князя на один глаз;
- Г. Прозвище отсылает к денежной сумке;
- Д. Прозвище популяризировал знаменитый историк Н. М. Карамзин;
- Е. Прозвище связано с происхождением матери князя;
- Ж. Прозвище, по одной из версий, связано с красотой князя;
- З. Прозвище, по одной из версий, связано с тем, что князь знал восемь языков;

### Задание 8. [10 баллов]

Нашим предкам не раз приходилось сталкиваться с завоевателями и серьёзными соперниками как на Западе, так и на Востоке. Перед Вами фотографии мест захоронения четырёх иностранных правителей, которые в разное время снаряжали походы на русские земли. Заполните пропуски в таблице, указав имена этих правителей и страны, на территории которых они похоронены, а также верно соотнесите с каждым из них изображение захоронения и характеристику из списка ниже.




1



2



3



4

### Список характеристик:

- А. Направил свои войска для поддержки Мамая в битве с войсками Дмитрия Донского, но, узнав о поражении ордынцев в Куликовской битве, повернул обратно;
- Б. Остановил свой поход на русские земли в районе Ельца – по преданию, после того, как во сне ему явилась Богородица;
- В. Потерпел поражение в Полтавской баталии;
- Г. Потерпел поражение и был вынужден отступить за пределы России по итогам Отечественной войны 1812 года.

**Задание 9. [9 баллов]**

В мае наша страна праздновала 80-летие Победы в Великой Отечественной войне. Перед Вами фотография, отражающая важное событие, связанное с Великой Победой, и отрывок из мемуаров запечатлённого на ней военачальника. Внимательно рассмотрите фотографию, прочтите текст отрывка и ответьте на ряд вопросов.



«Часы отбивают 10.00. Что тут говорить, сердце билось учащённо. Но с выездом на (1 – *название*) площадь, когда грянули мощные и торжественные звуки столь дорогой для каждой русской души мелодии «Славься!» (2 – *фамилия композитора*), а затем сразу воцарилась абсолютная тишина, раздались чёткие слова командующего парадом Маршала Советского Союза К. К. (3 – *фамилия*), который, конечно, волновался не меньше моего. Его рапорт поглотил все мое внимание, и я стал спокоен. [...] Ни с чем не сравнимым был момент, когда двести бойцов — ветеранов войны под барабанный бой бросили к подножию (4 – *название сооружения*) В. И. Ленина двести знамен немецко-фашистской армии»

**Задание 10. [12 баллов]**

Многим историческим деятелям, оставившим след в истории нашего региона, установлены монументы не только в Подмосковье, но и в других городах России. Перед Вами три пары изображений памятников, в каждом из случаев оба монумента посвящены одному и тому же человеку. Заполните пропуски в текстах, сопровождающих пары изображений.



1



2





3



4



5



6

### Задание 11. [8 баллов]

Выберите лишний элемент в каждом ряду и кратко объясните, почему он лишний.

11.1. Велес, Дажьбог, Один, Перун

11.2. Аршин, вершок, пуд, сажень

11.3. Константинополь, Стамбул, Херсонес, Царьград

11.4. Вильгельм Завоеватель, Иоанн Безземельный, Ричард Львиное Сердце, Фердинанд Арагонский

### Задание 12. [16 баллов]

**Важнейший навык историка – умение анализировать исторический источник. Перед Вами отрывок из записок иностранного путешественника с описанием впечатлений о Московском государстве. Внимательно прочитайте текст и ответьте на ряд вопросов к нему.**

«§ 54. Если плыть по этой реке и направляться на северо-восток и на восток, следуя по пути в Москву, то в продолжение пятнадцати дней вдоль берегов будут встречаться бесчисленные племена Тартарии. Направляясь к северо-востоку, достигают пределов России; здесь находится городок, называемый Рязань. Он принадлежит родственнику русского великого князя Иоанна. Всё население – христиане, по греческому обряду.

Страна обильна хлебом, мясом, мёдом и другими полезными вещами. [...] Повсюду много лесов и деревень.

Немного дальше находится город по названию Коломна. Оба города имеют деревянные укрепления; также и дома все деревянные, потому что в этих местах нет достаточно камня.

§ 55. В трёх днях пути протекает превосходная река Москва, на которой расположен город, называемый Москвой, где живёт русский великий князь Иоанн. Река проходит посередине города и имеет несколько мостов. Замок стоит на холме и со всех сторон окружён лесом. Изобилие хлеба и мяса в этом месте можно представить себе по тому, как продают мясо: его дают не на вес, а просто на глаз, причём не менее четырёх фунтов за один маркет. На один дукат получают семьдесят кур, а один гусь стоит три маркета.

Мороз там настолько силен, что замерзает река. Зимой свозят свиней, быков и другую скотину в виде ободранных от шкуры туш. Твёрдых, как камень, их ставят на ноги, и в таком количестве, что если кто-нибудь пожелал бы купить за один день двести туш, он вполне мог бы получить их. [...]

Там нет винограда, но одни изготавливают вино из мёда, другие варят брагу из проса. И в то и в другое кладут цветы хмеля, которые создают брожение; получается напиток одуряющий и опьяняющий, как вино.

§ 57. Сейчас прошло, вероятно, лет двадцать пять с тех пор, как русские платили за плавание дань татарскому хану. В настоящее время они подчинили себе город, который называется Казань. На нашем языке это значит «котёл». Находится на берегу реки Ледиль по левую руку, если плыть к Бакинскому морю; он удалён от Москвы на пять дней пути. Это – торговый город: оттуда вывозят громадное количество мехов, которые идут в Москву, в Польшу, в Пруссию и во Фландрию. Меха получают с севера и северо-востока, из областей Дзагатаев и из Мордовии.

Этими северными странами владели татары, которые в большинстве своём язычники, так же как и мордовцы. [...]

§ 59. О татарах же нечего сказать другого, кроме разве того, что те из них, которые остались язычниками, поклоняются истуканам, возя их с собой на своих телегах; однако среди них есть и такие, которые имеют обычай поклоняться каждый день какому-нибудь животному, встреченному ими при первом выходе из дома.

§ 60. Великий князь покорил также Новгород, что на нашем языке означает «девять замков». Это громаднейший город, отдалённый от Москвы на восемь дней пути в северо-западном направлении. Раньше он управлялся народом, и люди жили там без всякого правосудия; среди них было много еретиков. Теперь понемногу переходят они в католическую веру, хотя одни верят, а другие нет; но они живут по закону, и у них есть судопроизводство»

**Максимальная оценка – 100 баллов**

**ЖЕЛАЕМ УДАЧИ!!!**