

**ВСЕРОССИЙСКАЯ ОЛИМПИАДА ШКОЛЬНИКОВ ПО ИСТОРИИ  
МУНИЦИПАЛЬНЫЙ ЭТАП  
2022–2023 УЧЕБНЫЙ ГОД**

**7 КЛАСС**

**БЛАНК ОТВЕТОВ**

**Задание 1. (2 балла)**

|  |  |
|--|--|
| <b>Назовите имя и прозвище московского князя, о котором идёт речь:</b> |  |
| <b>Укажите век, о событиях которого идёт речь в отрывке:</b>           |  |

**Задание 2. (4 балла)**

**Ответ:** \_\_\_\_\_

**Задание 3. (6 баллов)**

**Впишите в ячейки буквы, обозначающие народы:**





| <b>Западные славяне</b> | <b>Южные славяне</b> | <b>Не славяне</b> |
|-------------------------|----------------------|-------------------|
|                         |                      |                   |

**Задание 4. (10 баллов)**

**Определите, какие утверждения из списка относятся к изображению № 1, какие – к изображению № 2, а какие – к обоим. Поставьте знак «+» в соответствующей ячейке.**

| <b>Утверждение</b>  | <b>№ 1</b> | <b>№ 2</b> | <b>Оба</b> |
|---|------------|------------|------------|
| Подпись к изображению сделана кириллическими буквами  |            |            |            |
| Изображённый персонаж – реальная историческая фигура  |            |            |            |
| Изображённый персонаж – если верить сохранившимся преданиям о нём, – бывал на территории современной России |            |            |            |
| Изображённый персонаж – если верить сохранившимся преданиям о нём, – исповедовал христианство               |            |            |            |
| На коне, верхом на котором сидит изображённый персонаж, есть сбруя  |            |            |            |

**Задание 5. (10 баллов)**

| Событие отечественной истории   | Век (римскими или арабскими цифрами) | Литературное произведение (цифра) |
|---|--------------------------------------|-----------------------------------|
|    |                                      |                                   |
|   |                                      |                                   |
|  |                                      |                                   |
|  |                                      |                                   |



### Задание 6. (12 баллов)

| Имя женщины             | Место рождения (буква) | Имя мужа |
|-------------------------|------------------------|----------|
| Sofija<br>Vytautaitė    |                        |          |
| Gytha of<br>Wessex      |                        |          |
| Ingegerd<br>Olofsdotter |                        |          |
| Zωή<br>Παλαιολογίνα     |                        |          |

### Задание 7. (8 баллов)

| Название дисциплины<br>(заполните пропуски) | Изображение<br>(цифра) |
|---|------------------------|
| _ И Л А _ Е Л И Я                           |                        |
| Н _ _ И З _ А Т И К А                       |                        |
| Ф _ _ Е _ И С Т И К А                       |                        |
| _ О Н _ С Т И К А                           |                        |

### Задание 8. (9 баллов)

|   |   |   |   |
|---|---|---|---|
| 2 | 4 | 6 | 8 |
|   |   |   |   |
| 1 | 3 | 5 | 7 |
|   |   |   |   |

**Задание 9. (12 баллов)**

| <b>Изображение</b> | <b>Название города<br/>(в наше время или в годы ВОВ)</b> | <b>Местоположение<br/>на карте (буква)</b> |
|--------------------|--|--|
| <b>1</b>           |  |  |
| <b>2</b>           |  |  |
| <b>3</b>           |  |  |
| <b>4</b>           |  |  |
| <b>5</b>           |  |  |

|   |  |
|---|--|
| <b>Какой из этих городов не был удостоен почётного звания «Город-герой» (или «Крепость-герой»)?</b> |  |
| <b>Какой ещё город, кроме присутствующего в задании, носит звание «Город Первого салюта»?</b>       |  |

**Задание 10. (12 баллов)**

| <b>Год гибели</b> | <b>Имя погибшего</b> | <b>Изображение<br/>(цифра)</b> |
|-------------------|----------------------|--------------------------------|
| 945               |                      |                                |
| 972               |                      |                                |
| 977               |                      |                                |
| 980               |                      |                                |
| 1015              |                      |                                |
| 1318              |                      |                                |

**Задание 11. (7 баллов)**

| <b>Название архива</b>  | <b>Фонд (буква)</b> |
|---|---------------------|
| Российский государственный архив военно-морского флота<br>(РГАВМФ)          |                     |
| Российский государственный архив древних актов<br>(РГАДА)                   |                     |
| Российский государственный архив литературы и искусства<br>(РГАЛИ)          |                     |
| Российский государственный архив социально-политической истории<br>(РГАСПИ) |                     |
| Российский государственный архив экономики<br>(РГЭ)                         |                     |
| Российский государственный военно-исторический архив<br>(РГВИА)             |                     |

|   |  |
|---|--|
| Российский государственный исторический архив<br>(РГИА) |  |
|---|--|

**Задание 12. (8 баллов)**

|          | <b>Принцип образования ряда:</b> | <b>Лишний элемент:</b> |
|----------|----------------------------------|------------------------|
| <b>1</b> |                                  |                        |
| <b>2</b> |                                  |                        |
| <b>3</b> |                                  |                        |
| <b>4</b> |                                  |                        |